




Определите под какой буквой находится правильный ответ.

**Onza (oz)**

Una onza es aproximadamente el peso de una rebanada de pan.



**Libra (lb)**

Uma libra é mais ou menos o peso de uma lata de vegetais.

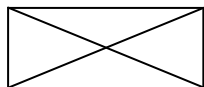


**Recordar:**  
Hay 16 onzas en 1 libra.

**ОТВЕТЫ**

1. \_\_\_\_\_
2. \_\_\_\_\_
3. \_\_\_\_\_
4. \_\_\_\_\_
5. \_\_\_\_\_
6. \_\_\_\_\_
7. \_\_\_\_\_
8. \_\_\_\_\_
9. \_\_\_\_\_

1)



Конверт

- A. 1 унции
- B. 440 фунтов(та)
- C. 11 фунтов(та)
- D. 24 унций(ии)

2)



Экран

- A. 20 унций(ии)
- B. 20 фунтов(та)
- C. 0.2 унций(ии)
- D. 1000 фунтов(та)

3)



Кастрюля

- A. 0.01 унций(ии)
- B. 1.7 унций(ии)
- C. 4 фунтов(та)
- D. 5 унций(ии)

4)



Клеющий карандаш

- A. 1 Фунты
- B. 2 фунтов(та)
- C. 2.2 унций(ии)
- D. 15 унций(ии)

5)



Лягушка

- A. 2 фунтов(та)
- B. 11000 фунтов(та)
- C. 2 унций(ии)
- D. 17 унций(ии)

6)



Телефон

- A. 1 Фунты
- B. 5 фунтов(та)
- C. 0.2 унций(ии)
- D. 10 фунтов(та)

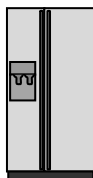
7)



Зубная щетка

- A. 1100 фунтов(та)
- B. 16 унций(ии)
- C. 30 фунтов(та)
- D. 1 унции

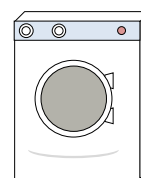
8)



Холодильник

- A. 20 фунтов(та)
- B. 7 унций(ии)
- C. 1 унции
- D. 250 фунтов(та)

9)



Стиральная машина


- A. 0.2 унций(ии)
- B. 3 тонны
- C. 165 фунтов(та)
- D. 16 фунтов(та)



Определите под какой буквой находится правильный ответ.

**Onza (oz)**

Una onza es aproximadamente el peso de una rebanada de pan.



**Libra (lb)**

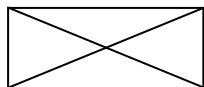
Uma libra é mais ou menos o peso de uma lata de vegetais.



**Recordar:**  
Hay 16 onzas en 1 libra.

**ОТВЕТЫ**

1)



Конверт

- A. 1 унции
- B. 440 фунтов(та)
- C. 11 фунтов(та)
- D. 24 унций(ии)

2)



Экран

- A. 20 унций(ии)
- B. 20 фунтов(та)
- C. 0.2 унций(ии)
- D. 1000 фунтов(та)

3)



Кастрюля

- A. 0.01 унций(ии)
- B. 1.7 унций(ии)
- C. 4 фунтов(та)
- D. 5 унций(ии)

4)



Клеющий карандаш

- A. 1 Фунты
- B. 2 фунтов(та)
- C. 2.2 унций(ии)
- D. 15 унций(ии)

5)



Лягушка

- A. 2 фунтов(та)
- B. 11000 фунтов(та)
- C. 2 унций(ии)
- D. 17 унций(ии)

6)



Телефон

- A. 1 Фунты
- B. 5 фунтов(та)
- C. 0.2 унций(ии)
- D. 10 фунтов(та)

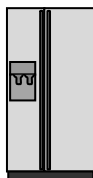
7)



Зубная щетка

- A. 1100 фунтов(та)
- B. 16 унций(ии)
- C. 30 фунтов(та)
- D. 1 унции

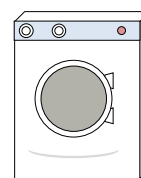
8)



Холодильник

- A. 20 фунтов(та)
- B. 7 унций(ии)
- C. 1 унции
- D. 250 фунтов(та)

9)



Стиральная машина

- A. 0.2 унций(ии)
- B. 3 тонны
- C. 165 фунтов(та)
- D. 16 фунтов(та)

- 1. A
- 2. B
- 3. C
- 4. C
- 5. C
- 6. A
- 7. D
- 8. D
- 9. C