




Определите под какой буквой находится правильный ответ.

**Onza (oz)**

Una onza es aproximadamente el peso de una rebanada de pan.



**Libra (lb)**

Uma libra é mais ou menos o peso de uma lata de vegetais.



**Recordar:**

Hay 16 onzas en 1 libra.

**ОТВЕТЫ**

1. \_\_\_\_\_
2. \_\_\_\_\_
3. \_\_\_\_\_
4. \_\_\_\_\_
5. \_\_\_\_\_
6. \_\_\_\_\_
7. \_\_\_\_\_
8. \_\_\_\_\_
9. \_\_\_\_\_

1)



Свеча

- A. 1 Фунты
- B. 0.2 унций(ии)
- C. 16 унций(ии)
- D. 20 фунтов(та)

2)



Велосипед

- A. 4 унций(ии)
- B. 30 фунтов(та)
- C. 0.53 унций(ии)
- D. 220 фунтов(та)


3)



ДВД

- A. 16 унций(ии)
- B. 0.6 фунтов(та)
- C. 2.5 фунтов(та)
- D. 1 Фунты

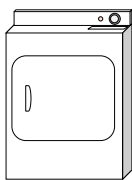
4)



Лист блокнота

- A. 2 фунтов(та)
- B. 0.1 унций(ии)
- C. 3 унций(ии)
- D. 10 унций(ии)

5)



Сушилка для одежды

- A. 160 унций(ии)
- B. 7 фунтов(та)
- C. 110 фунтов(та)
- D. 1 унции

6)



Божья коровка

- A. 2 фунтов(та)
- B. 110 фунтов(та)
- C. 0.04 унций(ии)
- D. 2 унций(ии)


7)



Кастрюля

- A. 1.7 унций(ии)
- B. 5 унций(ии)
- C. 4 фунтов(та)
- D. 0.01 унций(ии)

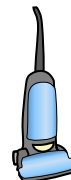
8)



Слон

- A. 15 унций(ии)
- B. 11000 фунтов(та)
- C. 4000 унций(ии)
- D. 300 фунтов(та)

9)



Пылесос


- A. 3 унций(ии)
- B. 2 унций(ии)
- C. 1100 фунтов(та)
- D. 35 фунтов(та)



Определите под какой буквой находится правильный ответ.

**Onza (oz)**

Una onza es aproximadamente el peso de una rebanada de pan.



**Libra (lb)**

Uma libra é mais ou menos o peso de uma lata de vegetais.



**Recordar:**  
Hay 16 onzas en 1 libra.

**ОТВЕТЫ**

1)



Свеча

- A. 1 Фунты
- B. 0.2 унций(ии)
- C. 16 унций(ии)
- D. 20 фунтов(та)

2)



Велосипед

- A. 4 унций(ии)
- B. 30 фунтов(та)
- C. 0.53 унций(ии)
- D. 220 фунтов(та)


3)



ДВД

- A. 16 унций(ии)
- B. 0.6 фунтов(та)
- C. 2.5 фунтов(та)
- D. 1 Фунты

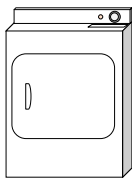
4)



Лист блокнота

- A. 2 фунтов(та)
- B. 0.1 унций(ии)
- C. 3 унций(ии)
- D. 10 унций(ии)

5)



Сушилка для одежды

- A. 160 унций(ии)
- B. 7 фунтов(та)
- C. 110 фунтов(та)
- D. 1 унции

6)



Божья коровка

- A. 2 фунтов(та)
- B. 110 фунтов(та)
- C. 0.04 унций(ии)
- D. 2 унций(ии)


7)



Кастрюля

- A. 1.7 унций(ии)
- B. 5 унций(ии)
- C. 4 фунтов(та)
- D. 0.01 унций(ии)

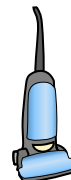
8)



Слон

- A. 15 унций(ии)
- B. 11000 фунтов(та)
- C. 4000 унций(ии)
- D. 300 фунтов(та)

9)



Пылесос

- A. 3 унций(ии)
- B. 2 унций(ии)
- C. 1100 фунтов(та)
- D. 35 фунтов(та)


- 1.     **B**
- 2.     **B**
- 3.     **B**
- 4.     **B**
- 5.     **C**
- 6.     **C**
- 7.     **C**
- 8.     **B**
- 9.     **D**



Определите под какой буквой находится правильный ответ.

**Onza (oz)**

Una onza es aproximadamente el peso de una rebanada de pan.



**Libra (lb)**

Uma libra é mais ou menos o peso de uma lata de vegetais.



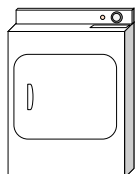
**Recordar:**

Hay 16 onzas en 1 libra.

**ОТВЕТЫ**

1. \_\_\_\_\_
2. \_\_\_\_\_
3. \_\_\_\_\_
4. \_\_\_\_\_
5. \_\_\_\_\_
6. \_\_\_\_\_
7. \_\_\_\_\_
8. \_\_\_\_\_
9. \_\_\_\_\_


1)



Сушилка для одежды

- A. 7 фунтов(та)
- B. 110 фунтов(та)
- C. 1 унции
- D. 160 унций(ии)

2)



Взрослая лошадь

- A. 1 унции
- B. 900 фунтов(та)
- C. 14 унций(ии)
- D. 100 фунтов(та)

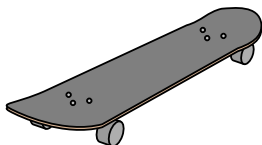
3)



Ящик для папок

- A. 120 фунтов(та)
- B. 160 унций(ии)
- C. 11 унций(ии)
- D. 2 фунтов(та)

4)



Скейтборд

- A. 33 фунтов(та)
- B. 0.71 унций(ии)
- C. 4 фунтов(та)
- D. 7 унций(ии)

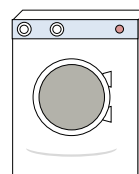
5)



Метла

- A. 440 фунтов(та)
- B. 20 фунтов(та)
- C. 2 фунтов(та)
- D. 4 унций(ии)


6)



Стиральная машина

- A. 3 тонны
- B. 16 фунтов(та)
- C. 165 фунтов(та)
- D. 0.2 унций(ии)

7)



Слон

- A. 15 унций(ии)
- B. 11000 фунтов(та)
- C. 300 фунтов(та)
- D. 4000 унций(ии)

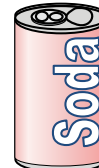
8)



Лягушка

- A. 17 унций(ии)
- B. 2 унций(ии)
- C. 2 фунтов(та)
- D. 11000 фунтов(та)

9)



Банка газировки


- A. 9 унций(ии)
- B. 100 фунтов(та)
- C. 4 фунтов(та)
- D. 0.04 унций(ии)



Определите под какой буквой находится правильный ответ.

**Onza (oz)**

Una onza es aproximadamente el peso de una rebanada de pan.



**Libra (lb)**

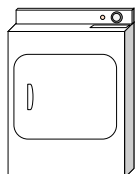
Uma libra é mais ou menos o peso de uma lata de vegetais.



**Recordar:**  
Hay 16 onzas en 1 libra.

**ОТВЕТЫ**


1)



Сушилка для одежды

- A. 7 фунтов(та)
- B. 110 фунтов(та)
- C. 1 унции
- D. 160 унций(ии)

2)



Взрослая лошадь

- A. 1 унции
- B. 900 фунтов(та)
- C. 14 унций(ии)
- D. 100 фунтов(та)

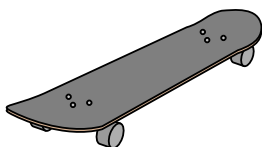
3)



Ящик для папок

- A. 120 фунтов(та)
- B. 160 унций(ии)
- C. 11 унций(ии)
- D. 2 фунтов(та)

4)



Скейтборд

- A. 33 фунтов(та)
- B. 0.71 унций(ии)
- C. 4 фунтов(та)
- D. 7 унций(ии)

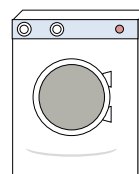
5)



Метла

- A. 440 фунтов(та)
- B. 20 фунтов(та)
- C. 2 фунтов(та)
- D. 4 унций(ии)


6)



Стиральная машина

- A. 3 тонны
- B. 16 фунтов(та)
- C. 165 фунтов(та)
- D. 0.2 унций(ии)

7)



Слон

- A. 15 унций(ии)
- B. 11000 фунтов(та)
- C. 300 фунтов(та)
- D. 4000 унций(ии)

8)



Лягушка

- A. 17 унций(ии)
- B. 2 унций(ии)
- C. 2 фунтов(та)
- D. 11000 фунтов(та)

9)



Банка газировки

- A. 9 унций(ии)
- B. 100 фунтов(та)
- C. 4 фунтов(та)
- D. 0.04 унций(ии)

- 1.     **B**
- 2.     **B**
- 3.     **A**
- 4.     **C**
- 5.     **C**
- 6.     **C**
- 7.     **B**
- 8.     **B**
- 9.     **A**



Определите под какой буквой находится правильный ответ.


**ОТВЕТЫ**

**Onza (oz)**

**Libra (lb)**

Una onza es aproximadamente el peso de una rebanada de pan.


Uma libra é mais ou menos o peso de uma lata de vegetais.



**Recordar:**  
Hay 16 onzas en 1 libra.

1. \_\_\_\_\_
2. \_\_\_\_\_
3. \_\_\_\_\_
4. \_\_\_\_\_
5. \_\_\_\_\_
6. \_\_\_\_\_
7. \_\_\_\_\_
8. \_\_\_\_\_
9. \_\_\_\_\_

1)



Яблоко

- A. 5 фунтов(та)
- B. 7 унций(ии)
- C. 10 фунтов(та)
- D. 0.1 унций(ии)

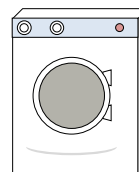
2)



Ложка

- A. 10 фунтов(та)
- B. 7 фунтов(та)
- C. 0.8 унций(ии)
- D. 0.11 унций(ии)


3)



Стиральная машина

- A. 165 фунтов(та)
- B. 16 фунтов(та)
- C. 0.2 унций(ии)
- D. 3 тонны

4)



Лист блокнота

- A. 10 унций(ии)
- B. 3 унций(ии)
- C. 0.1 унций(ии)
- D. 2 фунтов(та)

5)



Поп-корн

- A. 0.3 фунтов(та)
- B. 2 фунтов(та)
- C. 10 унций(ии)
- D. 0.04 унций(ии)

6)



Карандаш

- A. 1 унции
- B. 2 фунтов(та)
- C. 0.01 унций(ии)
- D. 44 фунтов(та)

7)



Мяч для рэгби

- A. 0.9 унций(ии)
- B. 1 Фунты
- C. 65 фунтов(та)
- D. 13 фунтов(та)

8)



Свеча

- A. 0.2 унций(ии)
- B. 20 фунтов(та)
- C. 1 Фунты
- D. 16 унций(ии)

9)



Клубника


- A. 11 унций(ии)
- B. 0.5 фунтов(та)
- C. 0.5 унций(ии)
- D. 1 Фунты



Определите под какой буквой находится правильный ответ.

**Onza (oz)**

Una onza es aproximadamente el peso de una rebanada de pan.



**Libra (lb)**


Uma libra é mais ou menos o peso de uma lata de vegetais.



**Recordar:**  
Hay 16 onzas en 1 libra.

**ОТВЕТЫ**

1)



Яблоко

- A. 5 фунтов(та)
- B. 7 унций(ии)
- C. 10 фунтов(та)
- D. 0.1 унций(ии)

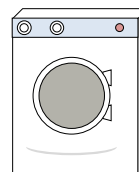
2)



Ложка

- A. 10 фунтов(та)
- B. 7 фунтов(та)
- C. 0.8 унций(ии)
- D. 0.11 унций(ии)


3)



Стиральная машина

- A. 165 фунтов(та)
- B. 16 фунтов(та)
- C. 0.2 унций(ии)
- D. 3 тонны

4)



Лист блокнота

- A. 10 унций(ии)
- B. 3 унций(ии)
- C. 0.1 унций(ии)
- D. 2 фунтов(та)

5)



Поп-корн

- A. 0.3 фунтов(та)
- B. 2 фунтов(та)
- C. 10 унций(ии)
- D. 0.04 унций(ии)

6)



Карандаш

- A. 1 унции
- B. 2 фунтов(та)
- C. 0.01 унций(ии)
- D. 44 фунтов(та)

7)



Мяч для рэгби

- A. 0.9 унций(ии)
- B. 1 Фунты
- C. 65 фунтов(та)
- D. 13 фунтов(та)

8)



Свеча

- A. 0.2 унций(ии)
- B. 20 фунтов(та)
- C. 1 Фунты
- D. 16 унций(ии)

9)



Клубника

- A. 11 унций(ии)
- B. 0.5 фунтов(та)
- C. 0.5 унций(ии)
- D. 1 Фунты

- 1.     **B**
- 2.     **C**
- 3.     **A**
- 4.     **C**
- 5.     **D**
- 6.     **A**
- 7.     **B**
- 8.     **A**
- 9.     **C**




Определите под какой буквой находится правильный ответ.

**ОТВЕТЫ**

**Onza (oz)**

Una onza es aproximadamente el peso de una rebanada de pan.



**Libra (lb)**

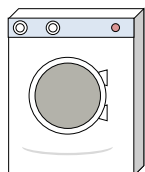
Uma libra é mais ou menos o peso de uma lata de vegetais.



**Recordar:**  
Hay 16 onzas en 1 libra.

1. \_\_\_\_\_
2. \_\_\_\_\_
3. \_\_\_\_\_
4. \_\_\_\_\_
5. \_\_\_\_\_
6. \_\_\_\_\_
7. \_\_\_\_\_
8. \_\_\_\_\_
9. \_\_\_\_\_


1)



Стиральная машина

- A. 3 тонны
- B. 165 фунтов(та)
- C. 16 фунтов(та)
- D. 0.2 унций(ии)

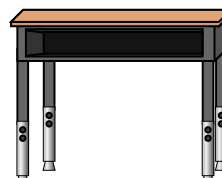
2)



Автомобиль

- A. 2000 фунтов(та)
- B. 5200 унций(ии)
- C. 15 унций(ии)
- D. 500 фунтов(та)

3)



Парта

- A. 11 унций(ии)
- B. 1 унции
- C. 30 фунтов(та)
- D. 660 фунтов(та)

4)



Флэшка

- A. 10 унций(ии)
- B. 20 фунтов(та)
- C. 1 унции
- D. 19 фунтов(та)

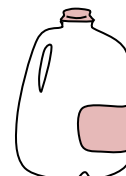
5)



Ящик для папок

- A. 2 фунтов(та)
- B. 11 унций(ии)
- C. 120 фунтов(та)
- D. 160 унций(ии)

6)



Фляжка с молоком

- A. 6 фунтов(та)
- B. 6 унций(ии)
- C. 60 фунтов(та)
- D. 0.6 унций(ии)

7)



Лягушка

- A. 2 унций(ии)
- B. 11000 фунтов(та)
- C. 17 унций(ии)
- D. 2 фунтов(та)

8)



Гвоздь

- A. 7 фунтов(та)
- B. 4 фунтов(та)
- C. 16 унций(ии)
- D. 0.1 унций(ии)

9)



Наручные часы


- A. 12 фунтов(та)
- B. 2 фунтов(та)
- C. 16 унций(ии)
- D. 3 унций(ии)



Определите под какой буквой находится правильный ответ.

**Onza (oz)**

Una onza es aproximadamente el peso de una rebanada de pan.



**Libra (lb)**

Uma libra é mais ou menos o peso de uma lata de vegetais.

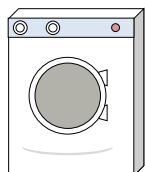


**Recordar:**

Hay 16 onzas en 1 libra.

**ОТВЕТЫ**

1)



Стиральная машина

- A. 3 тонны
- B. 165 фунтов(та)
- C. 16 фунтов(та)
- D. 0.2 унций(ии)

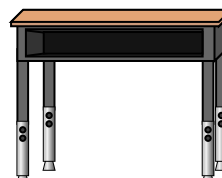
2)



Автомобиль

- A. 2000 фунтов(та)
- B. 5200 унций(ии)
- C. 15 унций(ии)
- D. 500 фунтов(та)

3)



Парта

- A. 11 унций(ии)
- B. 1 унции
- C. 30 фунтов(та)
- D. 660 фунтов(та)

4)



Флэшка

- A. 10 унций(ии)
- B. 20 фунтов(та)
- C. 1 унции
- D. 19 фунтов(та)

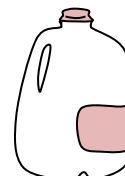
5)



Ящик для папок

- A. 2 фунтов(та)
- B. 11 унций(ии)
- C. 120 фунтов(та)
- D. 160 унций(ии)

6)



Фляжка с молоком

- A. 6 фунтов(та)
- B. 6 унций(ии)
- C. 60 фунтов(та)
- D. 0.6 унций(ии)

7)



Лягушка

- A. 2 унций(ии)
- B. 11000 фунтов(та)
- C. 17 унций(ии)
- D. 2 фунтов(та)

8)



Гвоздь

- A. 7 фунтов(та)
- B. 4 фунтов(та)
- C. 16 унций(ии)
- D. 0.1 унций(ии)

9)



Наручные часы

- A. 12 фунтов(та)
- B. 2 фунтов(та)
- C. 16 унций(ии)
- D. 3 унций(ии)

- 1.   **B**
- 2.   **A**
- 3.   **C**
- 4.   **C**
- 5.   **C**
- 6.   **A**
- 7.   **A**
- 8.   **D**
- 9.   **D**






Определите под какой буквой находится правильный ответ.

**ОТВЕТЫ**

**Onza (oz)**

Una onza es aproximadamente el peso de una rebanada de pan.



**Libra (lb)**

Uma libra é mais ou menos o peso de uma lata de vegetais.



**Recordar:**  
Hay 16 onzas en 1 libra.

1. \_\_\_\_\_
2. \_\_\_\_\_
3. \_\_\_\_\_
4. \_\_\_\_\_
5. \_\_\_\_\_
6. \_\_\_\_\_
7. \_\_\_\_\_
8. \_\_\_\_\_
9. \_\_\_\_\_

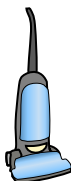
1)



Ящик для папок

- A. 2 фунтов(та)
- B. 11 унций(ии)
- C. 160 унций(ии)
- D. 120 фунтов(та)

2)



Пылесос


- A. 1100 фунтов(та)
- B. 35 фунтов(та)
- C. 2 унций(ии)
- D. 3 унций(ии)

3)

Болт

- A. 0.04 унций(ии)
- B. 2 фунтов(та)
- C. 10 унций(ии)
- D. 1 Фунты

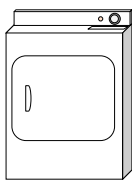
4)



Взрослая лошадь

- A. 14 унций(ии)
- B. 900 фунтов(та)
- C. 1 унции
- D. 100 фунтов(та)


5)



Сушилка для одежды

- A. 110 фунтов(та)
- B. 1 унции
- C. 160 унций(ии)
- D. 7 фунтов(та)

6)



Лист блокнота


- A. 3 унций(ии)
- B. 10 унций(ии)
- C. 2 фунтов(та)
- D. 0.1 унций(ии)

7)

Экран телевизора

- A. 2000 фунтов(та)
- B. 160 унций(ии)
- C. 1.25 унций(ии)
- D. 40 фунтов(та)

8)



Газонокосилка

- A. 100 унций(ии)
- B. 200 унций(ии)
- C. 200 фунтов(та)
- D. 50 фунтов(та)

9)



Свеча


- A. 0.2 унций(ии)
- B. 16 унций(ии)
- C. 1 Фунты
- D. 20 фунтов(та)



Определите под какой буквой находится правильный ответ.

**Onza (oz)**

Una onza es aproximadamente el peso de una rebanada de pan.



**Libra (lb)**

Uma libra é mais ou menos o peso de uma lata de vegetais.



**Recordar:**  
Hay 16 onzas en 1 libra.

**ОТВЕТЫ**

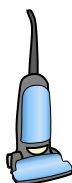
1)



Ящик для папок

- A. 2 фунтов(та)
- B. 11 унций(ии)
- C. 160 унций(ии)
- D. 120 фунтов(та)

2)



Пылесос


- A. 1100 фунтов(та)
- B. 35 фунтов(та)
- C. 2 унций(ии)
- D. 3 унций(ии)

3)

Болт

- A. 0.04 унций(ии)
- B. 2 фунтов(та)
- C. 10 унций(ии)
- D. 1 Фунты

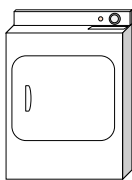
4)



Взрослая лошадь

- A. 14 унций(ии)
- B. 900 фунтов(та)
- C. 1 унции
- D. 100 фунтов(та)


5)



Сушилка для одежды

- A. 110 фунтов(та)
- B. 1 унции
- C. 160 унций(ии)
- D. 7 фунтов(та)

6)



Лист блокнота


- A. 3 унций(ии)
- B. 10 унций(ии)
- C. 2 фунтов(та)
- D. 0.1 унций(ии)

7)

Экран телевизора

- A. 2000 фунтов(та)
- B. 160 унций(ии)
- C. 1.25 унций(ии)
- D. 40 фунтов(та)

8)



Газонокосилка

- A. 100 унций(ии)
- B. 200 унций(ии)
- C. 200 фунтов(та)
- D. 50 фунтов(та)

9)



Свеча

- A. 0.2 унций(ии)
- B. 16 унций(ии)
- C. 1 Фунты
- D. 20 фунтов(та)


- 1.     **D**
- 2.     **B**
- 3.     **A**
- 4.     **B**
- 5.     **A**
- 6.     **D**
- 7.     **D**
- 8.     **D**
- 9.     **A**



Определите под какой буквой находится правильный ответ.

**Onza (oz)**

Una onza es aproximadamente el peso de una rebanada de pan.



**Libra (lb)**

Uma libra é mais ou menos o peso de uma lata de vegetais.



**Recordar:**  
Hay 16 onzas en 1 libra.

**ОТВЕТЫ**

1. \_\_\_\_\_
2. \_\_\_\_\_
3. \_\_\_\_\_
4. \_\_\_\_\_
5. \_\_\_\_\_
6. \_\_\_\_\_
7. \_\_\_\_\_
8. \_\_\_\_\_
9. \_\_\_\_\_

1)



Бейсболка

- A. 3 унций(ии)
- B. 1 унции
- C. 440 фунтов(та)
- D. 11 фунтов(та)

2)



Экран

- A. 1000 фунтов(та)
- B. 20 унций(ии)
- C. 0.2 унций(ии)
- D. 20 фунтов(та)

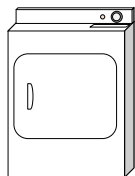
3)



Банка газировки

- A. 0.04 унций(ии)
- B. 9 унций(ии)
- C. 4 фунтов(та)
- D. 100 фунтов(та)

4)



Сушилка для одежды

- A. 1 унции
- B. 110 фунтов(та)
- C. 160 унций(ии)
- D. 7 фунтов(та)


5)



Зубная щетка

- A. 1 унции
- B. 1100 фунтов(та)
- C. 16 унций(ии)
- D. 30 фунтов(та)

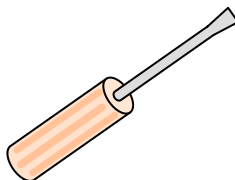
6)



Молоток

- A. 10 фунтов(та)
- B. 16 унций(ии)
- C. 3 фунтов(та)
- D. 1 унции

7)



Отвертка

- A. 0.1 унций(ии)
- B. 15 унций(ии)
- C. 29 фунтов(та)
- D. 2 унций(ии)

8)



Кресло

- A. 3 унций(ии)
- B. 5 унций(ии)
- C. 70 фунтов(та)
- D. 2 фунтов(та)

9)



Коробка хлопьев


- A. 90 фунтов(та)
- B. 15 унций(ии)
- C. 1.1 унций(ии)
- D. 15 фунтов(та)



Определите под какой буквой находится правильный ответ.

**Onza (oz)**

Una onza es aproximadamente el peso de una rebanada de pan.



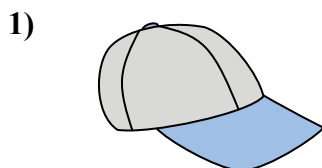
**Libra (lb)**

Uma libra é mais ou menos o peso de uma lata de vegetais.



**Recordar:**  
Hay 16 onzas en 1 libra.


**ОТВЕТЫ**



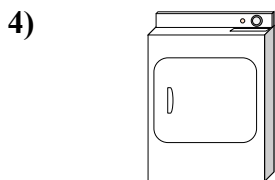
- Бейсболка  
A. 3 унций(ии)  
B. 1 унции  
C. 440 фунтов(та)  
D. 11 фунтов(та)



- Экран  
A. 1000 фунтов(та)  
B. 20 унций(ии)  
C. 0.2 унций(ии)  
D. 20 фунтов(та)



- Банка газировки  
A. 0.04 унций(ии)  
B. 9 унций(ии)  
C. 4 фунтов(та)  
D. 100 фунтов(та)



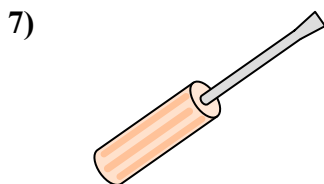
- Сушилка для одежды  
A. 1 унции  
B. 110 фунтов(та)  
C. 160 унций(ии)  
D. 7 фунтов(та)




- Зубная щетка  
A. 1 унции  
B. 1100 фунтов(та)  
C. 16 унций(ии)  
D. 30 фунтов(та)



- Молоток  
A. 10 фунтов(та)  
B. 16 унций(ии)  
C. 3 фунтов(та)  
D. 1 унции



- Отвертка  
A. 0.1 унций(ии)  
B. 15 унций(ии)  
C. 29 фунтов(та)  
D. 2 унций(ии)



- Кресло  
A. 3 унций(ии)  
B. 5 унций(ии)  
C. 70 фунтов(та)  
D. 2 фунтов(та)



- Коробка хлопьев  
A. 90 фунтов(та)  
B. 15 унций(ии)  
C. 1.1 унций(ии)  
D. 15 фунтов(та)


1.   A
2.   D
3.   B
4.   B
5.   A
6.   C
7.   D
8.   C
9.   B



Определите под какой буквой находится правильный ответ.

**Onza (oz)**

Una onza es aproximadamente el peso de una rebanada de pan.



**Libra (lb)**

Uma libra é mais ou menos o peso de uma lata de vegetais.




**Recordar:**  
Hay 16 onzas en 1 libra.

**ОТВЕТЫ**

1. \_\_\_\_\_
2. \_\_\_\_\_
3. \_\_\_\_\_
4. \_\_\_\_\_
5. \_\_\_\_\_
6. \_\_\_\_\_
7. \_\_\_\_\_
8. \_\_\_\_\_
9. \_\_\_\_\_

1)



Леденец

- A. 44 фунтов(та)
- B. 7 унций(ии)
- C. 0.7 унций(ии)
- D. 10 фунтов(та)

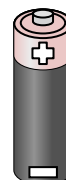
2)



Велосипед

- A. 30 фунтов(та)
- B. 220 фунтов(та)
- C. 4 унций(ии)
- D. 0.53 унций(ии)

3)



Батарейка

- A. 20 фунтов(та)
- B. 100 фунтов(та)
- C. 10 унций(ии)
- D. 0.5 унций(ии)


4)



Ящик для папок

- A. 11 унций(ии)
- B. 160 унций(ии)
- C. 2 фунтов(та)
- D. 120 фунтов(та)

5)



Отвертка

- A. 15 унций(ии)
- B. 2 унций(ии)
- C. 29 фунтов(та)
- D. 0.1 унций(ии)

6)



Клеящий карандаш

- A. 15 унций(ии)
- B. 2 фунтов(та)
- C. 2.2 унций(ии)
- D. 1 Фунты


7)



Кресло

- A. 70 фунтов(та)
- B. 3 унций(ии)
- C. 2 фунтов(та)
- D. 5 унций(ии)

8)



Слон

- A. 11000 фунтов(та)
- B. 4000 унций(ии)
- C. 15 унций(ии)
- D. 300 фунтов(та)

9)



Телефон


- A. 10 фунтов(та)
- B. 1 Фунты
- C. 0.2 унций(ии)
- D. 5 фунтов(та)



Определите под какой буквой находится правильный ответ.

**Onza (oz)**

Una onza es aproximadamente el peso de una rebanada de pan.



**Libra (lb)**


Uma libra é mais ou menos o peso de uma lata de vegetais.



**Recordar:**  
Hay 16 onzas en 1 libra.

**ОТВЕТЫ**

1)



Леденец

- A. 44 фунтов(та)
- B. 7 унций(ии)
- C. 0.7 унций(ии)
- D. 10 фунтов(та)

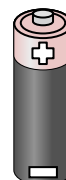
2)



Велосипед

- A. 30 фунтов(та)
- B. 220 фунтов(та)
- C. 4 унций(ии)
- D. 0.53 унций(ии)

3)



Батарейка

- A. 20 фунтов(та)
- B. 100 фунтов(та)
- C. 10 унций(ии)
- D. 0.5 унций(ии)


4)



Ящик для папок

- A. 11 унций(ии)
- B. 160 унций(ии)
- C. 2 фунтов(та)
- D. 120 фунтов(та)

5)



Отвертка

- A. 15 унций(ии)
- B. 2 унций(ии)
- C. 29 фунтов(та)
- D. 0.1 унций(ии)


6)



Клеящий карандаш

- A. 15 унций(ии)
- B. 2 фунтов(та)
- C. 2.2 унций(ии)
- D. 1 Фунты


7)



Кресло

- A. 70 фунтов(та)
- B. 3 унций(ии)
- C. 2 фунтов(та)
- D. 5 унций(ии)

8)



Слон

- A. 11000 фунтов(та)
- B. 4000 унций(ии)
- C. 15 унций(ии)
- D. 300 фунтов(та)

9)



Телефон

- A. 10 фунтов(та)
- B. 1 Фунты
- C. 0.2 унций(ии)
- D. 5 фунтов(та)

- 1.     C
- 2.     A
- 3.     D
- 4.     D
- 5.     B
- 6.     C
- 7.     A
- 8.     A
- 9.     B




Определите под какой буквой находится правильный ответ.

**ОТВЕТЫ**

**Onza (oz)**

Una onza es aproximadamente el peso de una rebanada de pan.



**Libra (lb)**

Uma libra é mais ou menos o peso de uma lata de vegetais.



**Recordar:**  
Hay 16 onzas en 1 libra.

1. \_\_\_\_\_
2. \_\_\_\_\_
3. \_\_\_\_\_
4. \_\_\_\_\_
5. \_\_\_\_\_
6. \_\_\_\_\_
7. \_\_\_\_\_
8. \_\_\_\_\_
9. \_\_\_\_\_


1)



Плита

- A. 16 унций(ии)
- B. 30 фунтов(та)
- C. 160 унций(ии)
- D. 130 фунтов(та)

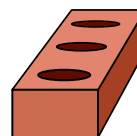
2)



Паук

- A. 4 унций(ии)
- B. 16 унций(ии)
- C. 0.04 унций(ии)
- D. 0.3 фунтов(та)

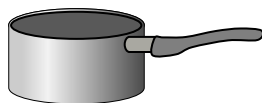
3)



Кирпич

- A. 4 фунтов(та)
- B. 100 фунтов(та)
- C. 15 унций(ии)
- D. 5 унций(ии)

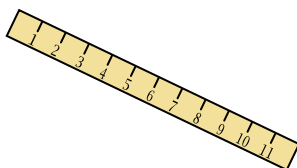
4)



Кастрюля

- A. 0.01 унций(ии)
- B. 5 унций(ии)
- C. 4 фунтов(та)
- D. 1.7 унций(ии)

5)



линейка

- A. 35 унций(ии)
- B. 0.04 унций(ии)
- C. 6 фунтов(та)
- D. 1 унции


6)



Велосипед

- A. 0.53 унций(ии)
- B. 220 фунтов(та)
- C. 4 унций(ии)
- D. 30 фунтов(та)


7)



Банка газировки

- A. 9 унций(ии)
- B. 4 фунтов(та)
- C. 100 фунтов(та)
- D. 0.04 унций(ии)

8)



Леденец

- A. 0.7 унций(ии)
- B. 10 фунтов(та)
- C. 7 унций(ии)
- D. 44 фунтов(та)

9)



ДВД


- A. 1 Фунты
- B. 2.5 фунтов(та)
- C. 16 унций(ии)
- D. 0.6 фунтов(та)



Определите под какой буквой находится правильный ответ.

**Onza (oz)**

Una onza es aproximadamente el peso de una rebanada de pan.



**Libra (lb)**

Uma libra é mais ou menos o peso de uma lata de vegetais.



**Recordar:**  
Hay 16 onzas en 1 libra.

**ОТВЕТЫ**


1)



Плита

- A. 16 унций(ии)
- B. 30 фунтов(та)
- C. 160 унций(ии)
- D. 130 фунтов(та)

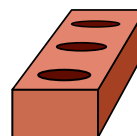
2)



Паук

- A. 4 унций(ии)
- B. 16 унций(ии)
- C. 0.04 унций(ии)
- D. 0.3 фунтов(та)

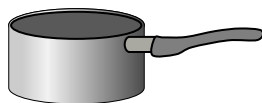
3)



Кирпич

- A. 4 фунтов(та)
- B. 100 фунтов(та)
- C. 15 унций(ии)
- D. 5 унций(ии)

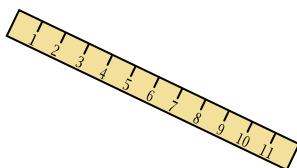
4)



Кастрюля

- A. 0.01 унций(ии)
- B. 5 унций(ии)
- C. 4 фунтов(та)
- D. 1.7 унций(ии)

5)



линейка

- A. 35 унций(ии)
- B. 0.04 унций(ии)
- C. 6 фунтов(та)
- D. 1 унции


6)



Велосипед

- A. 0.53 унций(ии)
- B. 220 фунтов(та)
- C. 4 унций(ии)
- D. 30 фунтов(та)


7)



Банка газировки

- A. 9 унций(ии)
- B. 4 фунтов(та)
- C. 100 фунтов(та)
- D. 0.04 унций(ии)

8)



Леденец

- A. 0.7 унций(ии)
- B. 10 фунтов(та)
- C. 7 унций(ии)
- D. 44 фунтов(та)

9)



ДВД

- A. 1 Фунты
- B. 2.5 фунтов(та)
- C. 16 унций(ии)
- D. 0.6 фунтов(та)

- 1.     D
- 2.     C
- 3.     A
- 4.     C
- 5.     D
- 6.     D
- 7.     A
- 8.     A
- 9.     D






Определите под какой буквой находится правильный ответ.

**ОТВЕТЫ**

**Onza (oz)**

Una onza es aproximadamente el peso de una rebanada de pan.



**Libra (lb)**

Uma libra é mais ou menos o peso de uma lata de vegetais.



**Recordar:**  
Hay 16 onzas en 1 libra.

1. \_\_\_\_\_
2. \_\_\_\_\_
3. \_\_\_\_\_
4. \_\_\_\_\_
5. \_\_\_\_\_
6. \_\_\_\_\_
7. \_\_\_\_\_
8. \_\_\_\_\_
9. \_\_\_\_\_

1)



Плита

- A. 30 фунтов(та)
- B. 130 фунтов(та)
- C. 160 унций(ии)
- D. 16 унций(ии)


2)



Автомобиль

- A. 2000 фунтов(та)
- B. 5200 унций(ии)
- C. 500 фунтов(та)
- D. 15 унций(ии)


3)



Слон

- A. 15 унций(ии)
- B. 4000 унций(ии)
- C. 11000 фунтов(та)
- D. 300 фунтов(та)

4)



Лист блокнота

- A. 3 унций(ии)
- B. 10 унций(ии)
- C. 2 фунтов(та)
- D. 0.1 унций(ии)

5)



ДВД

- A. 0.6 фунтов(та)
- B. 1 Фунты
- C. 2.5 фунтов(та)
- D. 16 унций(ии)


6)



Поп-корн

- A. 0.3 фунтов(та)
- B. 0.04 унций(ии)
- C. 2 фунтов(та)
- D. 10 унций(ии)


7)



Жук

- A. 8 унций(ии)
- B. 16 унций(ии)
- C. 4 фунтов(та)
- D. 0.04 унций(ии)

8)



Шар для боулинга

- A. 198 фунтов(та)
- B. 13 фунтов(та)
- C. 7 унций(ии)
- D. 110 фунтов(та)

9)



Ложка


- A. 0.11 унций(ии)
- B. 10 фунтов(та)
- C. 7 фунтов(та)
- D. 0.8 унций(ии)



Определите под какой буквой находится правильный ответ.

**Onza (oz)**

Una onza es aproximadamente el peso de una rebanada de pan.



**Libra (lb)**

Uma libra é mais ou menos o peso de uma lata de vegetais.



**Recordar:**  
Hay 16 onzas en 1 libra.

**ОТВЕТЫ**


1)



Плита

- A. 30 фунтов(та)
- B. 130 фунтов(та)
- C. 160 унций(ии)
- D. 16 унций(ии)


2)



Автомобиль

- A. 2000 фунтов(та)
- B. 5200 унций(ии)
- C. 500 фунтов(та)
- D. 15 унций(ии)


3)



Слон

- A. 15 унций(ии)
- B. 4000 унций(ии)
- C. 11000 фунтов(та)
- D. 300 фунтов(та)


4)



Лист блокнота

- A. 3 унций(ии)
- B. 10 унций(ии)
- C. 2 фунтов(та)
- D. 0.1 унций(ии)

5)



ДВД

- A. 0.6 фунтов(та)
- B. 1 Фунты
- C. 2.5 фунтов(та)
- D. 16 унций(ии)


6)



Поп-корн

- A. 0.3 фунтов(та)
- B. 0.04 унций(ии)
- C. 2 фунтов(та)
- D. 10 унций(ии)


7)



Жук

- A. 8 унций(ии)
- B. 16 унций(ии)
- C. 4 фунтов(та)
- D. 0.04 унций(ии)

8)



Шар для боулинга

- A. 198 фунтов(та)
- B. 13 фунтов(та)
- C. 7 унций(ии)
- D. 110 фунтов(та)

9)



Ложка

- A. 0.11 унций(ии)
- B. 10 фунтов(та)
- C. 7 фунтов(та)
- D. 0.8 унций(ии)

- 1.     **B**
- 2.     **A**
- 3.     **C**
- 4.     **D**
- 5.     **A**
- 6.     **B**
- 7.     **D**
- 8.     **B**
- 9.     **D**




Определите под какой буквой находится правильный ответ.

**ОТВЕТЫ**

**Onza (oz)**

Una onza es aproximadamente el peso de una rebanada de pan.



**Libra (lb)**

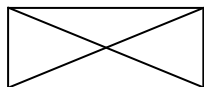
Uma libra é mais ou menos o peso de uma lata de vegetais.



**Recordar:**  
Hay 16 onzas en 1 libra.

1. \_\_\_\_\_
2. \_\_\_\_\_
3. \_\_\_\_\_
4. \_\_\_\_\_
5. \_\_\_\_\_
6. \_\_\_\_\_
7. \_\_\_\_\_
8. \_\_\_\_\_
9. \_\_\_\_\_

1)



Конверт

- A. 1 унции
- B. 440 фунтов(та)
- C. 11 фунтов(та)
- D. 24 унций(ии)

2)



Экран

- A. 20 унций(ии)
- B. 20 фунтов(та)
- C. 0.2 унций(ии)
- D. 1000 фунтов(та)

3)



Кастрюля

- A. 0.01 унций(ии)
- B. 1.7 унций(ии)
- C. 4 фунтов(та)
- D. 5 унций(ии)


4)



Клеющий карандаш

- A. 1 Фунты
- B. 2 фунтов(та)
- C. 2.2 унций(ии)
- D. 15 унций(ии)

5)



Лягушка

- A. 2 фунтов(та)
- B. 11000 фунтов(та)
- C. 2 унций(ии)
- D. 17 унций(ии)

6)



Телефон

- A. 1 Фунты
- B. 5 фунтов(та)
- C. 0.2 унций(ии)
- D. 10 фунтов(та)

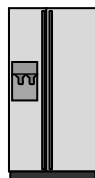
7)



Зубная щетка

- A. 1100 фунтов(та)
- B. 16 унций(ии)
- C. 30 фунтов(та)
- D. 1 унции

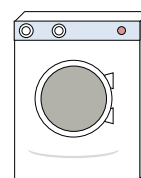
8)



Холодильник

- A. 20 фунтов(та)
- B. 7 унций(ии)
- C. 1 унции
- D. 250 фунтов(та)

9)



Стиральная машина


- A. 0.2 унций(ии)
- B. 3 тонны
- C. 165 фунтов(та)
- D. 16 фунтов(та)



Определите под какой буквой находится правильный ответ.

**Onza (oz)**

Una onza es aproximadamente el peso de una rebanada de pan.



**Libra (lb)**

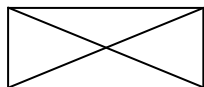
Uma libra é mais ou menos o peso de uma lata de vegetais.



**Recordar:**  
Hay 16 onzas en 1 libra.

**ОТВЕТЫ**

1)



Конверт

- A. 1 унции
- B. 440 фунтов(та)
- C. 11 фунтов(та)
- D. 24 унций(ии)

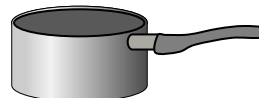
2)



Экран

- A. 20 унций(ии)
- B. 20 фунтов(та)
- C. 0.2 унций(ии)
- D. 1000 фунтов(та)

3)



Кастрюля

- A. 0.01 унций(ии)
- B. 1.7 унций(ии)
- C. 4 фунтов(та)
- D. 5 унций(ии)

4)



Клеющий карандаш

- A. 1 Фунты
- B. 2 фунтов(та)
- C. 2.2 унций(ии)
- D. 15 унций(ии)

5)



Лягушка

- A. 2 фунтов(та)
- B. 11000 фунтов(та)
- C. 2 унций(ии)
- D. 17 унций(ии)

6)



Телефон

- A. 1 Фунты
- B. 5 фунтов(та)
- C. 0.2 унций(ии)
- D. 10 фунтов(та)

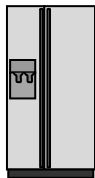
7)



Зубная щетка

- A. 1100 фунтов(та)
- B. 16 унций(ии)
- C. 30 фунтов(та)
- D. 1 унции

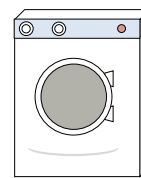
8)



Холодильник

- A. 20 фунтов(та)
- B. 7 унций(ии)
- C. 1 унции
- D. 250 фунтов(та)

9)



Стиральная машина

- A. 0.2 унций(ии)
- B. 3 тонны
- C. 165 фунтов(та)
- D. 16 фунтов(та)

- 1. A
- 2. B
- 3. C
- 4. C
- 5. C
- 6. A
- 7. D
- 8. D
- 9. C