



Определите под какой буквой находится правильный ответ.

ОТВЕТЫ


Grama (g)

Un gramo es aproximadamente el peso de un clip.



Kilogramo (kilogramo)

Un kilogramo es aproximadamente el peso de un libro grueso.

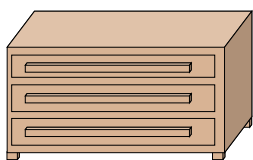


Recuerda:

Kilo significa 1,000. Entonces, un kilogramo son 1,000 gramos. 1 kilogramo también pesa aproximadamente lo mismo que 2 libras.

1. _____
2. _____
3. _____
4. _____
5. _____
6. _____
7. _____
8. _____
9. _____

1)



Комод

- A. 500 килограмма(ов)
- B. 70 килограмма(ов)
- C. 20 граммов(ма)
- D. 350 граммов(ма)

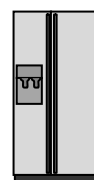
2)



Плита

- A. 70 килограмма(ов)
- B. 15 граммов(ма)
- C. 70 граммов(ма)
- D. 15 килограмма(ов)


3)



Холодильник

- A. 10 килограмма(ов)
- B. 40 граммов(ма)
- C. 90 килограмма(ов)
- D. 200 граммов(ма)

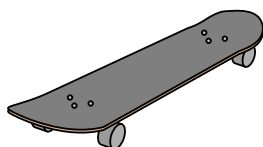
4)



Груша

- A. 170 килограмма(ов)
- B. 2 килограмма(ов)
- C. 170 граммов(ма)
- D. 2 граммов(ма)

5)



Доска для скейта

- A. 20 граммов(ма)
- B. 200 граммов(ма)
- C. 2 килограмма(ов)
- D. 15 килограмма(ов)

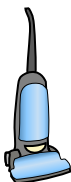
6)



Монитор

- A. 8 килограмма(ов)
- B. 500 граммов(ма)
- C. 500 килограмма(ов)
- D. 8 граммов(ма)


7)



Пылесос

- A. 20 килограмма(ов)
- B. 90 граммов(ма)
- C. 500 килограмма(ов)
- D. 50 граммов(ма)

8)



Кресло

- A. 90 граммов(ма)
- B. 150 граммов(ма)
- C. 1 килограмм
- D. 35 килограмма(ов)

9)



Наручные часы

- A. 500 килограмма(ов)
- B. 1 килограмм
- C. 1 граммов
- D. 90 граммов(ма)



Определите под какой буквой находится правильный ответ.

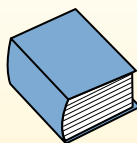
Grama (g)

Un gramo es aproximadamente el peso de un clip.



Kilogramo (kilogramo)

Un kilogramo es aproximadamente el peso de un libro grueso.

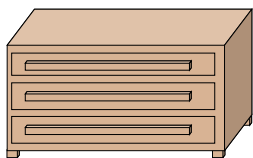


Recuerda:

Kilo significa 1,000. Entonces, un kilogramo son 1,000 gramos. 1 kilogramo también pesa aproximadamente lo mismo que 2 libras.

ОТВЕТЫ

1)



Комод

- A. 500 килограмма(ов)
- B. 70 килограмма(ов)
- C. 20 граммов(ма)
- D. 350 граммов(ма)

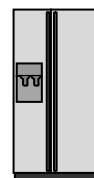
2)



Плита

- A. 70 килограмма(ов)
- B. 15 граммов(ма)
- C. 70 граммов(ма)
- D. 15 килограмма(ов)


3)



Холодильник

- A. 10 килограмма(ов)
- B. 40 граммов(ма)
- C. 90 килограмма(ов)
- D. 200 граммов(ма)

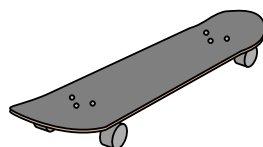
4)



Груша

- A. 170 килограмма(ов)
- B. 2 килограмма(ов)
- C. 170 граммов(ма)
- D. 2 граммов(ма)

5)



Доска для скейта

- A. 20 граммов(ма)
- B. 200 граммов(ма)
- C. 2 килограмма(ов)
- D. 15 килограмма(ов)

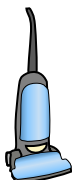
6)



Монитор

- A. 8 килограмма(ов)
- B. 500 граммов(ма)
- C. 500 килограмма(ов)
- D. 8 граммов(ма)


7)



Пылесос

- A. 20 килограмма(ов)
- B. 90 граммов(ма)
- C. 500 килограмма(ов)
- D. 50 граммов(ма)

8)



Кресло

- A. 90 граммов(ма)
- B. 150 граммов(ма)
- C. 1 килограмм
- D. 35 килограмма(ов)

9)



Наручные часы

- A. 500 килограмма(ов)
- B. 1 килограмм
- C. 1 граммов
- D. 90 граммов(ма)

- 1. **B**
- 2. **A**
- 3. **C**
- 4. **C**
- 5. **C**
- 6. **A**
- 7. **A**
- 8. **D**
- 9. **D**