



Используйте весы, показывающие ответ на вопрос.


Ответы

1)




Если данный блок на 3 фунтов(та) легче, то какой вес получится?

2)



Если данный блок на 5 унций(ии) легче, то какой вес получится?

3)



Каков вес блоков в единицах (в фунтов(та))?

1. _____

2. _____

3. _____

4. _____

5. _____


6. _____

7. _____

8. _____

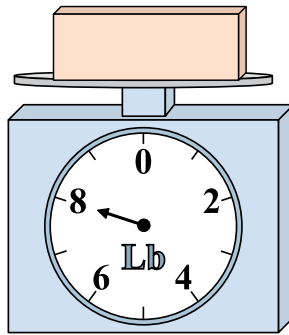
9. _____

4)




Каков вес блоков в единицах (в унций(ии))?

5)




Если данный блок на 7 фунтов(та) тяжелее, то каков вес получится?

6)




Если у Вас имеется 10 блоков одинакового веса, сколько общий вес в унций(ии) данных блоков?

7)




Если данный блок на 6 фунтов(та) тяжелее, то каков вес получится?

8)



Каков вес блоков в единицах (в унций(ии))?

9)

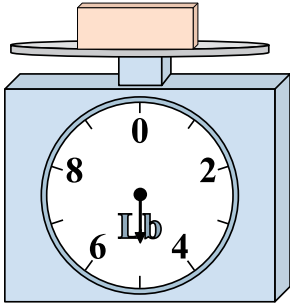


Если у Вас имеется 6 блоков одинакового веса, сколько общий вес в фунтов(та) данных блоков?




Используйте весы, показывающие ответ на вопрос.

1)




Если данный блок на 3 фунтов(та) легче, то какой вес получится?

2)




Если данный блок на 5 унций(ии) легче, то какой вес получится?

3)



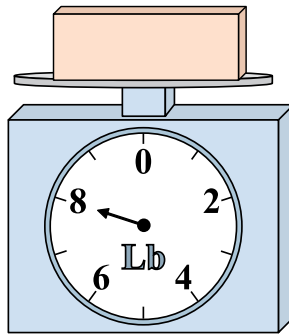
Каков вес блоков в единицах (в фунтов(та))?

4)




Каков вес блоков в единицах (в унций(ии))?

5)




Если данный блок на 7 фунтов(та) тяжелее, то каков вес получится?

6)




Если у Вас имеется 10 блоков одинакового веса, сколько общий вес в унций(ии) данных блоков?

7)




Если данный блок на 6 фунтов(та) тяжелее, то каков вес получится?

8)



Каков вес блоков в единицах (в унций(ии))?

9)



Если у Вас имеется 6 блоков одинакового веса, сколько общий вес в фунтов(та) данных блоков?

ОТВЕТЫ

1. 2

2. 3

3. 8

4. 8

5. 15

6. 140

7. 12

8. 15

9. 24