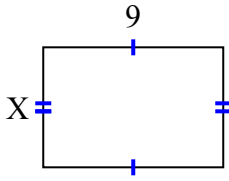


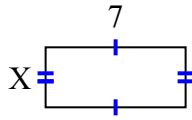


Найдите значение X для каждой цифры. Каждая цифра в сантиметрах (см). Не в масштабе.

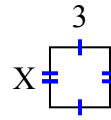
1) площадь = 54 cm^2



2) площадь = 21 cm^2



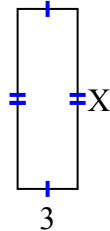
3) площадь = 9 cm^2



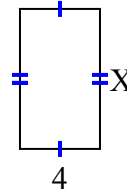
4) площадь = 4 cm^2



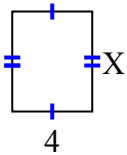
5) площадь = 27 cm^2



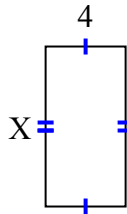
6) площадь = 28 cm^2



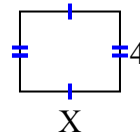
7) площадь = 20 cm^2



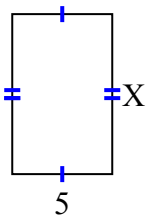
8) площадь = 32 cm^2



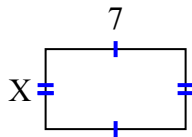
9) площадь = 20 cm^2



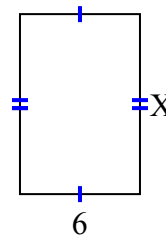
10) площадь = 40 cm^2



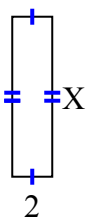
11) площадь = 28 cm^2



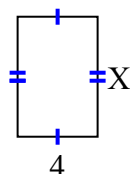
12) площадь = 54 cm^2



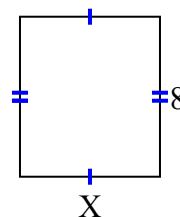
13) площадь = 16 cm^2



14) площадь = 24 cm^2



15) площадь = 56 cm^2



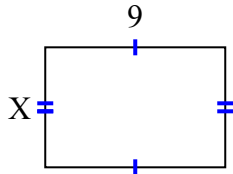
ОТВЕТЫ

1. _____
2. _____
3. _____
4. _____
5. _____
6. _____
7. _____
8. _____
9. _____
10. _____
11. _____
12. _____
13. _____
14. _____
15. _____

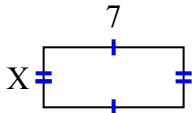


Найдите значение X для каждой цифры. Каждая цифра в сантиметрах (см). Не в масштабе.

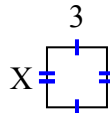
1) площадь = 54 cm^2



2) площадь = 21 cm^2



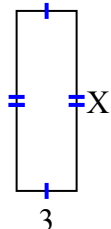
3) площадь = 9 cm^2



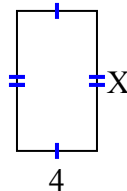
4) площадь = 4 cm^2



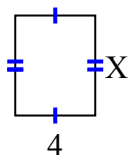
5) площадь = 27 cm^2



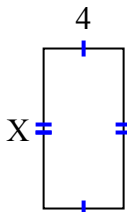
6) площадь = 28 cm^2



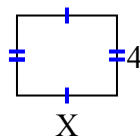
7) площадь = 20 cm^2



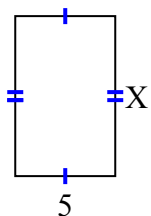
8) площадь = 32 cm^2



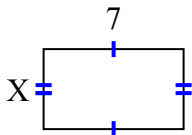
9) площадь = 20 cm^2



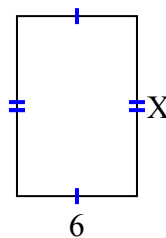
10) площадь = 40 cm^2



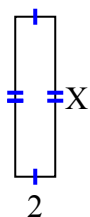
11) площадь = 28 cm^2



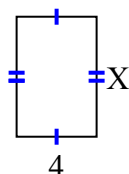
12) площадь = 54 cm^2



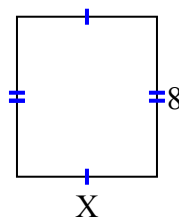
13) площадь = 16 cm^2



14) площадь = 24 cm^2



15) площадь = 56 cm^2

**ОТВЕТЫ**1. 62. 33. 34. 25. 96. 77. 58. 89. 510. 811. 412. 913. 814. 615. 7