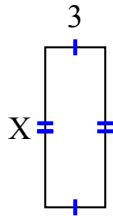


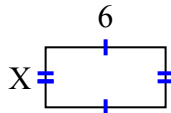


Найдите значение X для каждой цифры. Каждая цифра в сантиметрах (см). Не в масштабе.

1) площадь = 24 cm^2



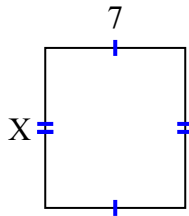
2) площадь = 18 cm^2



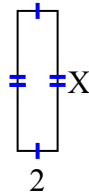
3) площадь = 4 cm^2



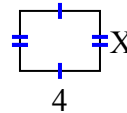
4) площадь = 56 cm^2



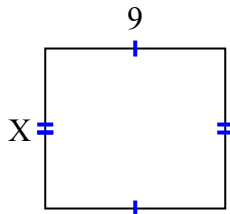
5) площадь = 14 cm^2



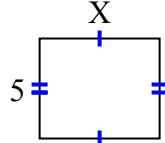
6) площадь = 12 cm^2



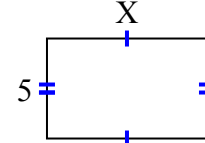
7) площадь = 72 cm^2



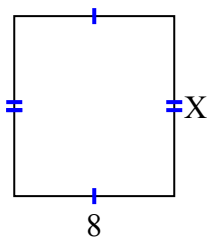
8) площадь = 30 cm^2



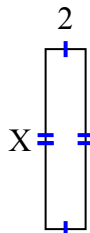
9) площадь = 40 cm^2



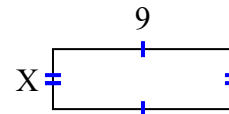
10) площадь = 72 cm^2



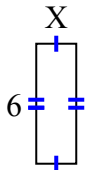
11) площадь = 18 cm^2



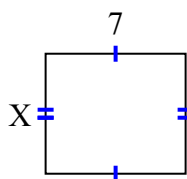
12) площадь = 27 cm^2



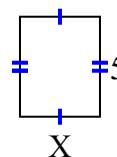
13) площадь = 12 cm^2



14) площадь = 42 cm^2



15) площадь = 20 cm^2



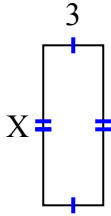
ОТВЕТЫ

1. _____
2. _____
3. _____
4. _____
5. _____
6. _____
7. _____
8. _____
9. _____
10. _____
11. _____
12. _____
13. _____
14. _____
15. _____

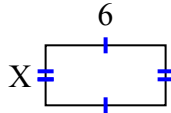


Найдите значение X для каждой цифры. Каждая цифра в сантиметрах (см). Не в масштабе.

1) площадь = 24 cm^2



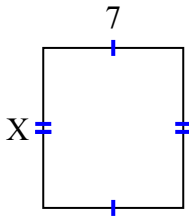
2) площадь = 18 cm^2



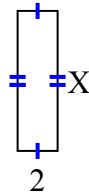
3) площадь = 4 cm^2



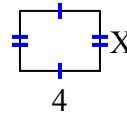
4) площадь = 56 cm^2



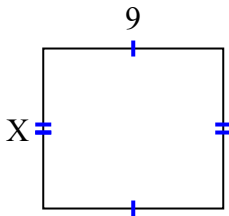
5) площадь = 14 cm^2



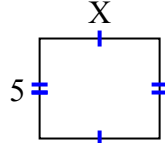
6) площадь = 12 cm^2



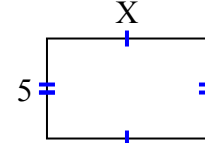
7) площадь = 72 cm^2



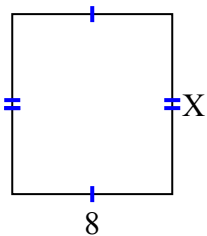
8) площадь = 30 cm^2



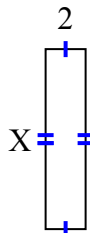
9) площадь = 40 cm^2



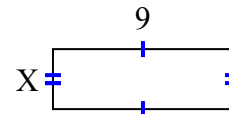
10) площадь = 72 cm^2



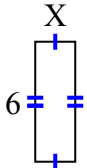
11) площадь = 18 cm^2



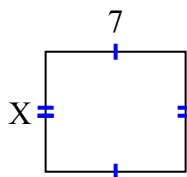
12) площадь = 27 cm^2



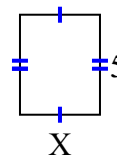
13) площадь = 12 cm^2



14) площадь = 42 cm^2



15) площадь = 20 cm^2



ОТВЕТЫ

1. 8
2. 3
3. 2
4. 8
5. 7
6. 3
7. 8
8. 6
9. 8
10. 9
11. 9
12. 3
13. 2
14. 6
15. 4