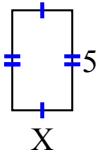


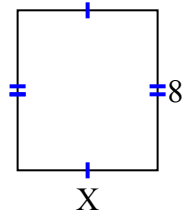


Найдите значение X для каждой цифры. Каждая цифра в сантиметрах (см). Не в масштабе.

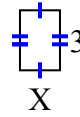
1) площадь = 15 cm^2



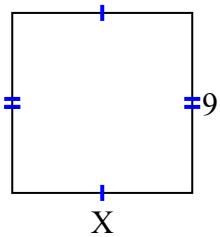
2) площадь = 56 cm^2



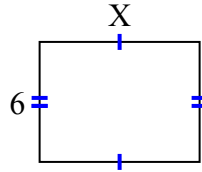
3) площадь = 6 cm^2



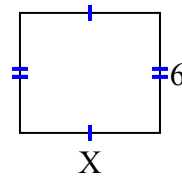
4) площадь = 81 cm^2



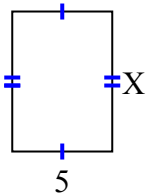
5) площадь = 48 cm^2



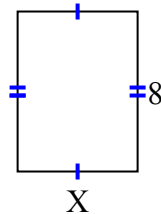
6) площадь = 42 cm^2



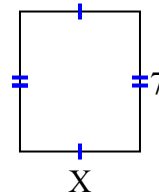
7) площадь = 35 cm^2



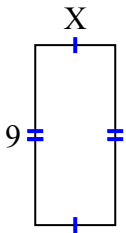
8) площадь = 48 cm^2



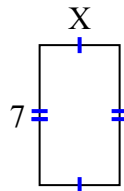
9) площадь = 42 cm^2



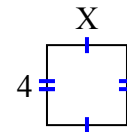
10) площадь = 36 cm^2



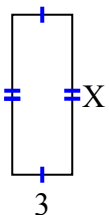
11) площадь = 28 cm^2



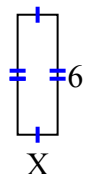
12) площадь = 16 cm^2



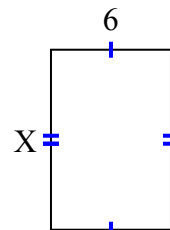
13) площадь = 24 cm^2



14) площадь = 12 cm^2



15) площадь = 54 cm^2



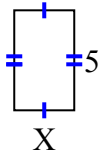
ОТВЕТЫ

1. _____
2. _____
3. _____
4. _____
5. _____
6. _____
7. _____
8. _____
9. _____
10. _____
11. _____
12. _____
13. _____
14. _____
15. _____

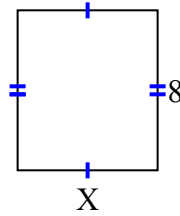


Найдите значение X для каждой цифры. Каждая цифра в сантиметрах (см). Не в масштабе.

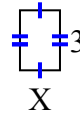
1) площадь = 15 cm^2



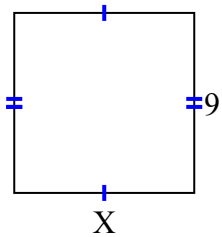
2) площадь = 56 cm^2



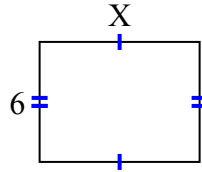
3) площадь = 6 cm^2



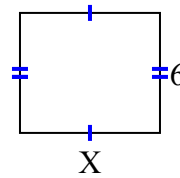
4) площадь = 81 cm^2



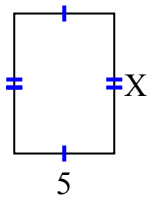
5) площадь = 48 cm^2



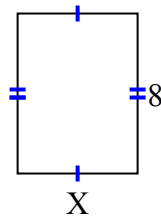
6) площадь = 42 cm^2



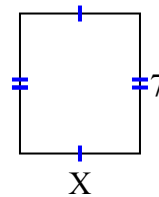
7) площадь = 35 cm^2



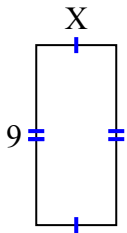
8) площадь = 48 cm^2



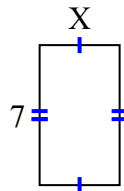
9) площадь = 42 cm^2



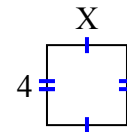
10) площадь = 36 cm^2



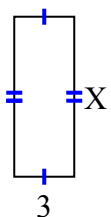
11) площадь = 28 cm^2



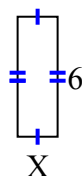
12) площадь = 16 cm^2



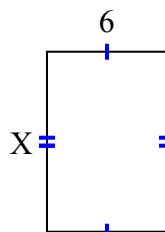
13) площадь = 24 cm^2



14) площадь = 12 cm^2



15) площадь = 54 cm^2



ОТВЕТЫ

1. 3
2. 7
3. 2
4. 9
5. 8
6. 7
7. 7
8. 6
9. 6
10. 4
11. 4
12. 4
13. 8
14. 2
15. 9