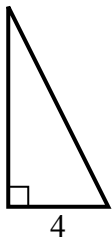


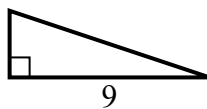


Найдите значение X.

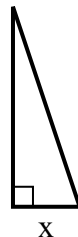
1) площадь = 16 u^2



2) площадь = 13.5 u^2



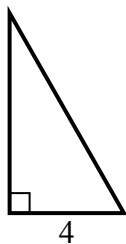
3) площадь = 6 u^2



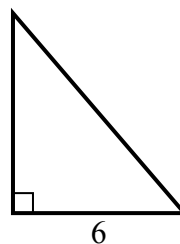
4) площадь = 8 u^2



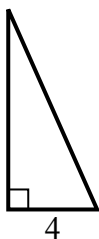
5) площадь = 14 u^2



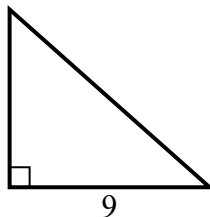
6) площадь = 21 u^2



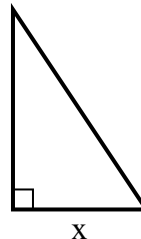
7) площадь = 18 u^2



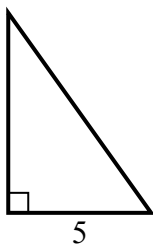
8) площадь = 36 u^2



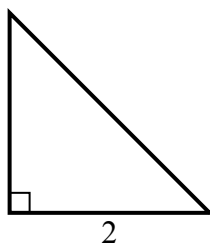
9) площадь = 27 u^2



10) площадь = 17.5 u^2



11) площадь = 2 u^2



12) площадь = 13.5 u^2



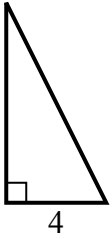
Ответы

1. _____
2. _____
3. _____
4. _____
5. _____
6. _____
7. _____
8. _____
9. _____
10. _____
11. _____
12. _____

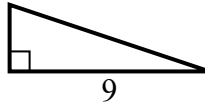


Найдите значение X.

1) площадь = 16 u^2



2) площадь = 13.5 u^2



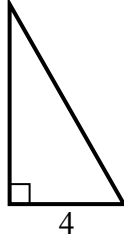
3) площадь = 6 u^2



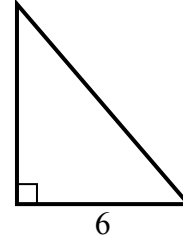
4) площадь = 8 u^2



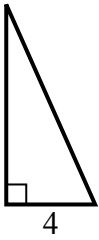
5) площадь = 14 u^2



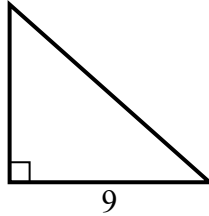
6) площадь = 21 u^2



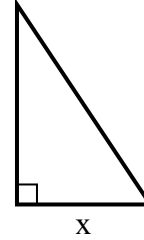
7) площадь = 18 u^2



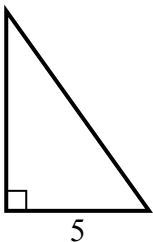
8) площадь = 36 u^2



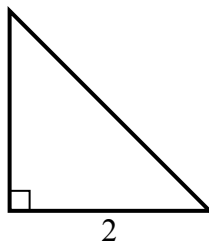
9) площадь = 27 u^2



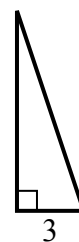
10) площадь = 17.5 u^2



11) площадь = 2 u^2



12) площадь = 13.5 u^2

**Ответы**1. 82. 33. 24. 25. 76. 77. 98. 89. 610. 711. 212. 9