

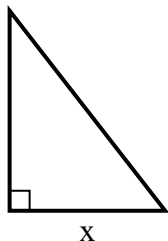


Найдите значение X.

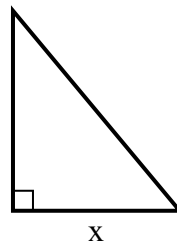
1) площадь = 9 u^2



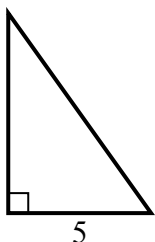
2) площадь = 31.5 u^2



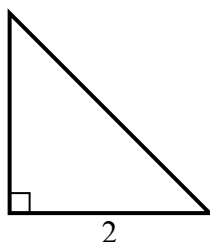
3) площадь = 15 u^2



4) площадь = 17.5 u^2



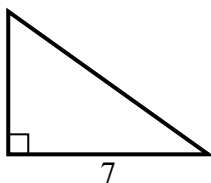
5) площадь = 2 u^2



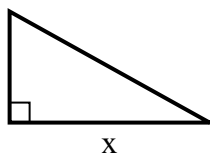
6) площадь = 10.5 u^2



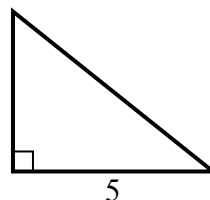
7) площадь = 17.5 u^2



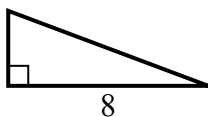
8) площадь = 22.5 u^2



9) площадь = 10 u^2



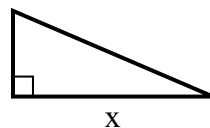
10) площадь = 12 u^2



11) площадь = 7 u^2



12) площадь = 10.5 u^2



Ответы

1. _____
2. _____
3. _____
4. _____
5. _____
6. _____
7. _____
8. _____
9. _____
10. _____
11. _____
12. _____

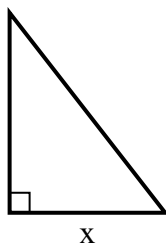


Найдите значение X.

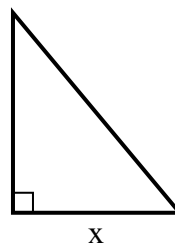
1) площадь = 9 u^2



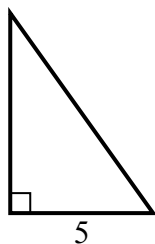
2) площадь = 31.5 u^2



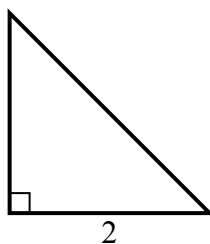
3) площадь = 15 u^2



4) площадь = 17.5 u^2



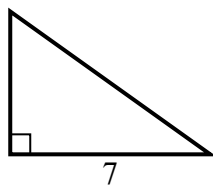
5) площадь = 2 u^2



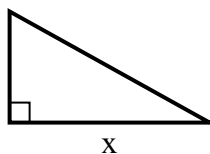
6) площадь = 10.5 u^2



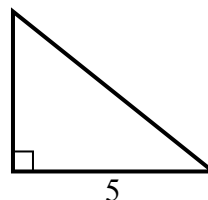
7) площадь = 17.5 u^2



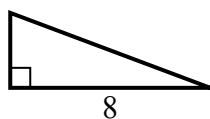
8) площадь = 22.5 u^2



9) площадь = 10 u^2



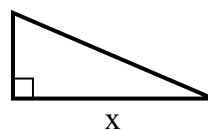
10) площадь = 12 u^2



11) площадь = 7 u^2



12) площадь = 10.5 u^2

**Ответы**1. 92. 73. 54. 75. 26. 77. 58. 99. 410. 311. 212. 7