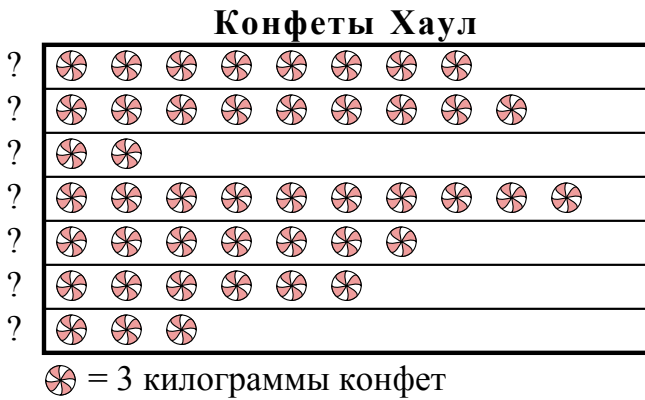




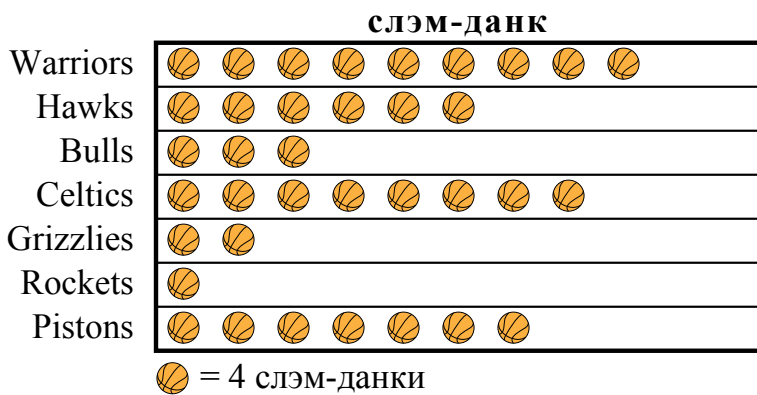
Ответы

{gvari} и ее друзья сравнивали количество конфет, которые они получили на Хэллоуин. Они записали свою информацию на пиктограмме ниже.



- 1) Сколько килограммов конфет досталось ??
- 2) У кого больше всего конфет?
- 3) Кому досталось ровно 9 килограммов конфет?
- 4) У кого больше конфет, ? или ??
- 5) У кого меньше всего конфет?

{bvari} записывал, сколько слэм-данков забили его любимые команды. Он организовал информацию в пиктограмме ниже.



- 6) Какая команда провела наибольшее количество слэм-данков?
- 7) У какой команды было больше слэм-данков: Warriors или Hawks?
- 8) У какой команды было наименьшее количество слэм-данков?
- 9) Какая команда забила ровно 32 слэм-данков?
- 10) Сколько слэм-данков сделал Bulls?

1. _____
2. _____
3. _____
4. _____
5. _____
6. _____
7. _____
8. _____
9. _____
10. _____

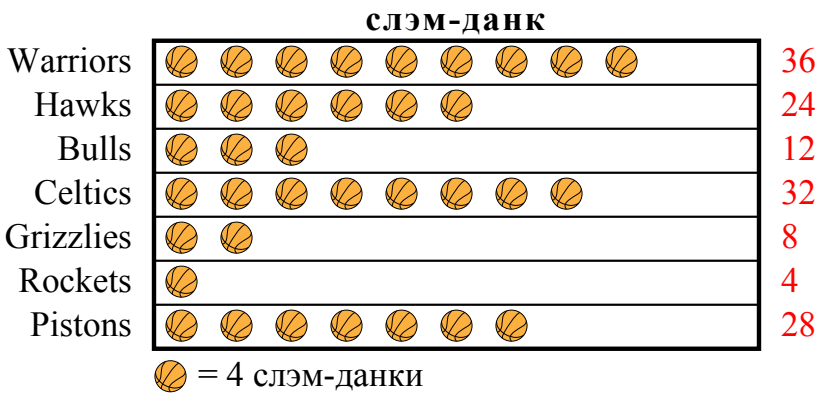


{gvari} и ее друзья сравнивали количество конфет, которые они получили на Хэллоуин. Они записали свою информацию на пиктограмме ниже.



- 1) Сколько килограммов конфет досталось ??
- 2) У кого больше всего конфет?
- 3) Кому досталось ровно 9 килограммов конфет?
- 4) У кого больше конфет, ? или ??
- 5) У кого меньше всего конфет?

{bvari} записывал, сколько слэм-данков забили его любимые команды. Он организовал информацию в пиктограмме ниже.



- 6) Какая команда провела наибольшее количество слэм-данков?
- 7) У какой команды было больше слэм-данков: Warriors или Hawks?
- 8) У какой команды было наименьшее количество слэм-данков?
- 9) Какая команда забила ровно 32 слэм-данков?
- 10) Сколько слэм-данков сделал Bulls?

ОТВЕТЫ

1. 9
2. ?
3. ?
4. ?
5. ?
6. Warriors
7. Warriors
8. Rockets
9. Celtics
10. 12