




Ответы

{bvari} записывал, сколько слэм-данков забили его любимые команды. Он организовал информацию в пиктограмме ниже.

слэм-данк



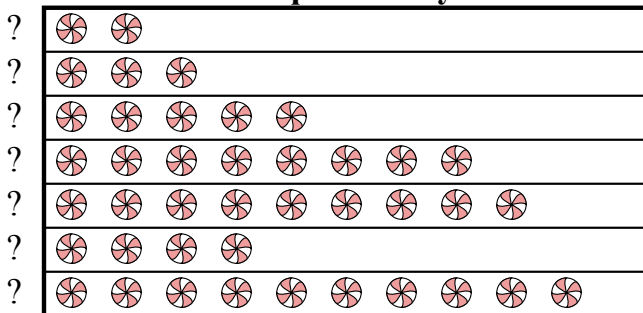
= 7 слэм-данки

- 1) Какая команда забила ровно 14 слэм-данков?
- 2) У какой команды было наименьшее количество слэм-данков?
- 3) У какой команды было больше слэм-данков: Pistons или Grizzlies?
- 4) Сколько слэм-данков сделал Rockets?
- 5) Какая команда провела наибольшее количество слэм-данков?

1. _____
2. _____
3. _____
4. _____
5. _____
6. _____
7. _____
8. _____
9. _____
10. _____

{gvari} и ее друзья сравнивали количество конфет, которые они получили на Хэллоуин. Они записали свою информацию на пиктограмме ниже.

Конфеты Хаул

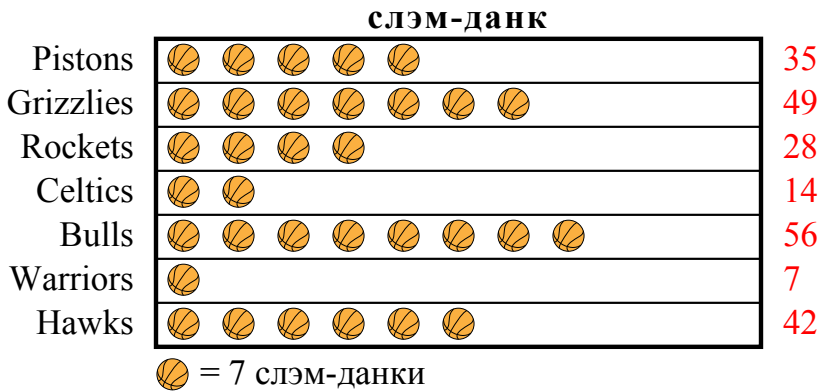


= 5 килограммы конфет

- 6) У кого меньше всего конфет?
- 7) Кому досталось ровно 50 килограммов конфет?
- 8) У кого больше конфет, ? или ??
- 9) Сколько килограммов конфет досталось ??
- 10) У кого больше всего конфет?

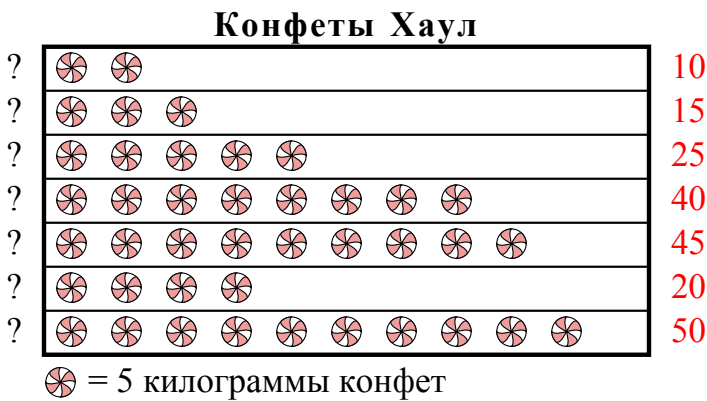


{bvari} записывал, сколько слэм-данков забили его любимые команды. Он организовал информацию в пиктограмме ниже.



- 1) Какая команда забила ровно 14 слэм-данков?
- 2) У какой команды было наименьшее количество слэм-данков?
- 3) У какой команды было больше слэм-данков: Pistons или Grizzlies?
- 4) Сколько слэм-данков сделал Rockets?
- 5) Какая команда провела наибольшее количество слэм-данков?

{gvari} и ее друзья сравнивали количество конфет, которые они получили на Хэллоуин. Они записали свою информацию на пиктограмме ниже.



- 6) У кого меньше всего конфет?
- 7) Кому досталось ровно 50 килограммов конфет?
- 8) У кого больше конфет, ? или ??
- 9) Сколько килограммов конфет досталось ??
- 10) У кого больше всего конфет?

ОТВЕТЫ

1. Celtics
2. Warriors
3. Grizzlies
4. 28
5. Bulls
6. ?
7. ?
8. ?
9. 50
10. ?