











































**Ответы**

Кинотеатр решил отследить количество маленьких упаковок попкорна, которые они продают каждый день. Они поместили собранную информацию в таблицы.

**Проданные маленькие упаковки**

Воскресенье	        
Среда	     
Четверг	   
Вторник	       
Суббота	    
Понедельник	
Пятница	     








































 = 8 проданные упаковки

- 1) Сколько проданных упаковок имела Четверг?
- 2) В какой день продано наибольшее количество поп-корна?
- 3) Сколько проданных упаковок имела 64?
- 4) В какой день продано наименьшее количество поп-корна?
- 5) В какой день продано больше поп-корна, Воскресенье или Среда?

1. \_\_\_\_\_
2. \_\_\_\_\_
3. \_\_\_\_\_
4. \_\_\_\_\_
5. \_\_\_\_\_
6. \_\_\_\_\_
7. \_\_\_\_\_
8. \_\_\_\_\_
9. \_\_\_\_\_
10. \_\_\_\_\_

Несколько учеников помогали украшать школьные залы, рисуя картинки, чтобы повесить трубку. Пиктограмма ниже показывает количество рисунков, нарисованных каждым учеником.

**картинки нарисованы**

?	        
?	   
?	    
?	      
?	 
?	        
?	  








































 = 9 картинки нарисованы


- 6) Кто нарисовал именно 27 картинок?
- 7) ? или ? нарисовали больше картинок?
- 8) Сколько картинок нарисовал ??
- 9) Кто нарисовал меньше всего картинок?
- 10) Кто нарисовал больше всего картинок?



Кинотеатр решил отследить количество маленьких упаковок попкорна, которые они продают каждый день. Они поместили собранную информацию в таблицы.

**Проданные маленькие упаковки**







































Воскресенье	        	72
Среда	     	56
Четверг	   	32
Вторник	       	64
Суббота	    	40
Понедельник		8
Пятница	     	48

 = 8 проданные упаковки

- 1) Сколько проданных упаковок имела Четверг?
- 2) В какой день продано наибольшее количество поп-корна?
- 3) Сколько проданных упаковок имела 64?
- 4) В какой день продано наименьшее количество поп-корна?
- 5) В какой день продано больше поп-корна, Воскресенье или Среда?

Несколько учеников помогали украшать школьные залы, рисуя картинки, чтобы повесить трубку. Пиктограмма ниже показывает количество рисунков, нарисованных каждым учеником.

**картинки нарисованы**

?	        	90
?	   	36
?	    	45
?	      	63
?	 	18
?	       	81
?	  	27

 = 9 картинки нарисованы

- 6) Кто нарисовал именно 27 картинок?
- 7) ? или ? нарисовали больше картинок?
- 8) Сколько картинок нарисовал ??
- 9) Кто нарисовал меньше всего картинок?
- 10) Кто нарисовал больше всего картинок?

**ОТВЕТЫ**

1. 32
2. Воскресенье
3. Вторник
4. Понедельник
5. Воскресенье
6. ?
7. ?
8. 27
9. ?
10. ?