




{bvari} и его друзья пытались выяснить, кто сможет отловить больше ошибок за день. Они записали свою информацию на пиктограмме ниже.

Bug Catching Contest



= 3 Жуки

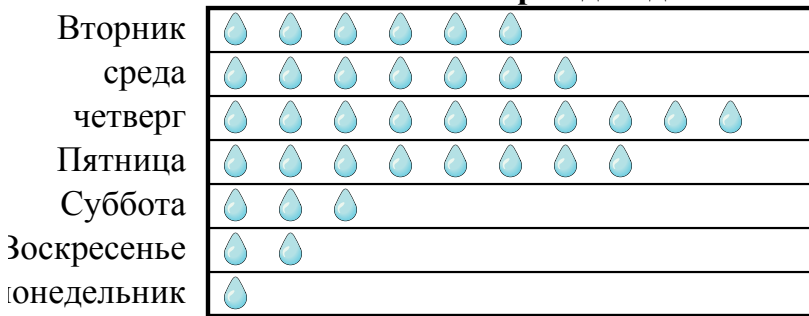
- 1) Кто выловил наименьшее количество жуков?
- 2) Сколько жуков обнаружил ??
- 3) Кто обнаружил больше жуков, ? или ??
- 4) Кто поймал именно 30 жука(ов)?
- 5) Кто поймал наибольшее количество жуков?

Ответы

1. _____
2. _____
3. _____
4. _____
5. _____
6. _____
7. _____
8. _____
9. _____
10. _____

Класс мистера Сандерса проводил эксперимент, чтобы выяснить, в какой день недели было больше всего дождя. Его класс записал свою информацию на пиктограмме ниже.

Миллиметры дождя



= 7 Миллиметры дождя

- 6) Сколько дождя было в четверг?
- 7) Был ли дождь больше на Вторник или среда?
- 8) В какой день было меньше всего дождя?
- 9) В какой день выпало ровно 56 миллиметров дождя?
- 10) В какой день было больше всего дождей?



{bvari} и его друзья пытались выяснить, кто сможет отловить больше ошибок за день. Они записали свою информацию на пиктограмме ниже.

Bug Catching Contest

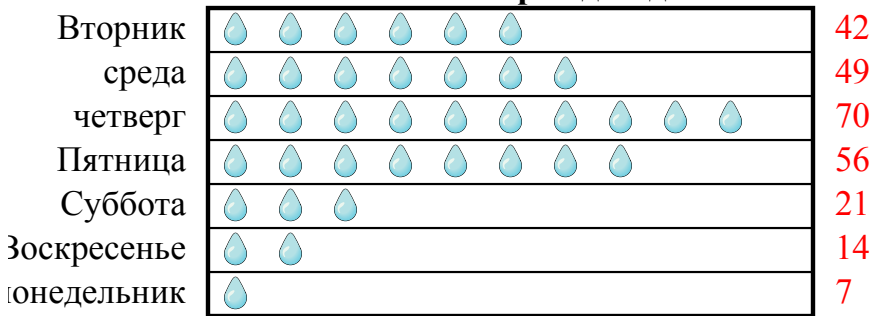


= 3 Жуки

- 1) Кто выловил наименьшее количество жуков?
- 2) Сколько жуков обнаружил ??
- 3) Кто обнаружил больше жуков, ? или ??
- 4) Кто поймал именно 30 жука(ов)?
- 5) Кто поймал наибольшее количество жуков?

Класс мистера Сандерса проводил эксперимент, чтобы выяснить, в какой день недели было больше всего дождя. Его класс записал свою информацию на пиктограмме ниже.

Миллиметры дождя



= 7 Миллиметры дождя

- 6) Сколько дождя было в четверг?
- 7) Был ли дождь больше на Вторник или среда?
- 8) В какой день было меньше всего дождя?
- 9) В какой день выпало ровно 56 миллиметров дождя?
- 10) В какой день было больше всего дождей?

Ответы

1. ?
2. 30
3. ?
4. ?
5. ?
6. 70
7. среда
8. понедельник
9. Пятница
10. четверг