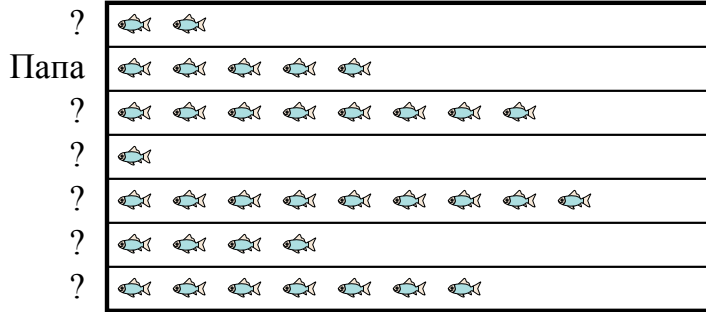




Отец {bvarr} взял {bvarr} и 5 друзей на рыбалку. Они записали количество пойманной рыбы с помощью пиктограммы ниже.

Результаты рыбалки

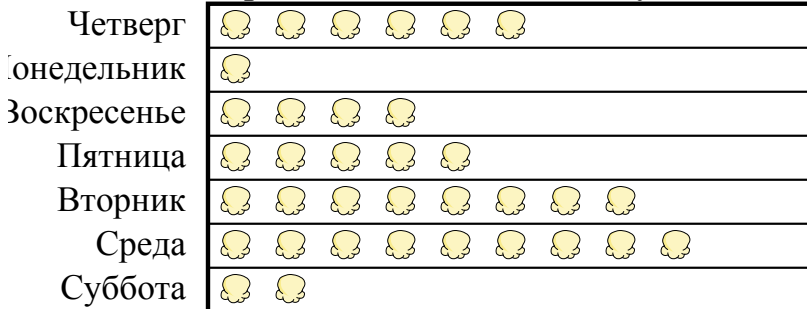


 = 4 Пойманная рыба

- 1) Сколько рыбы поймал ??
- 2) Кто поймал больше всего рыбы?
- 3) Кто поймал меньше всего рыбы?
- 4) Кто поймал больше рыбы, ? или Папа?
- 5) Кто поймал именно 28 рыб?

Кинотеатр решил отследить количество маленьких упаковок попкорна, которые они продают каждый день. Они поместили собранную информацию в таблицы.

Проданные маленькие упаковки



 = 4 проданные упаковки

- 6) Сколько проданных упаковок имела 20?
- 7) Сколько проданных упаковок имела Воскресенье?
- 8) В какой день продано наибольшее количество поп-корна?
- 9) В какой день продано больше поп-корна, Четверг или Понедельник?
- 10) В какой день продано наименьшее количество поп-корна?





































Ответы

1. _____
2. _____
3. _____
4. _____
5. _____
6. _____
7. _____
8. _____
9. _____
10. _____



Отец {bvarr} взял {bvarr} и 5 друзей на рыбалку. Они записали количество пойманной рыбы с помощью пиктограммы ниже.

Результаты рыбалки



































?	 	8
Папа	    	20
?	       	32
?		4
?	        	36
?	   	16
?	      	28

 = 4 Пойманная рыба

- 1) Сколько рыбы поймал ??
- 2) Кто поймал больше всего рыбы?
- 3) Кто поймал меньше всего рыбы?
- 4) Кто поймал больше рыбы, ? или Папа?
- 5) Кто поймал именно 28 рыб?

Кинотеатр решил отследить количество маленьких упаковок попкорна, которые они продают каждый день. Они поместили собранную информацию в таблицы.

Проданные маленькие упаковки

Четверг	     	24
Понедельник		4
Воскресенье	   	16
Пятница	    	20
Вторник	       	32
Среда	       	36
Суббота	 	8

 = 4 проданные упаковки

- 6) Сколько проданных упаковок имела 20?
- 7) Сколько проданных упаковок имела Воскресенье?
- 8) В какой день продано наибольшее количество поп-корна?
- 9) В какой день продано больше поп-корна, Четверг или Понедельник?
- 10) В какой день продано наименьшее количество поп-корна?

Ответы

1. 28
2. ?
3. Папа
4. ?
5. ?
6. Пятница
7. 16
8. Среда
9. Четверг
10. Понедельник