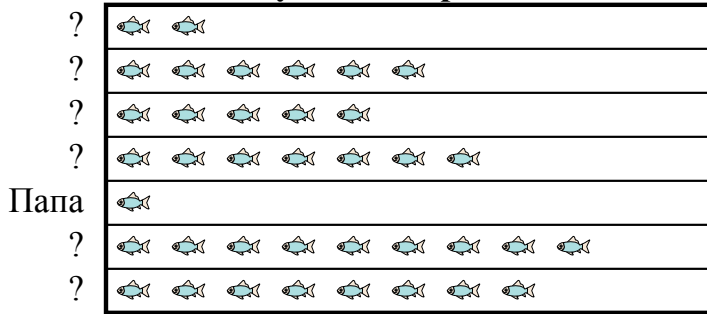




Отец {bvarrr} взял {bvarrr} и 5 друзей на рыбалку. Они записали количество пойманной рыбы с помощью пиктограммы ниже.

Результаты рыбалки

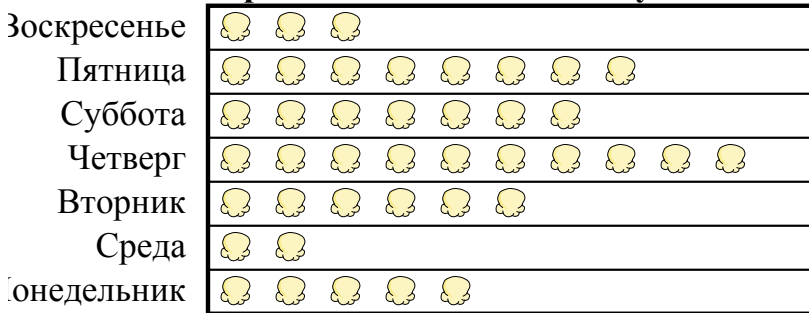



 = 9 Пойманная рыба

- 1) Кто поймал больше рыбы, ? или ??
- 2) Сколько рыбы поймал ??
- 3) Кто поймал больше всего рыбы?
- 4) Кто поймал меньше всего рыбы?
- 5) Кто поймал именно 72 рыб?

Кинотеатр решил отследить количество маленьких упаковок попкорна, которые они продают каждый день. Они поместили собранную информацию в таблицы.

Проданные маленькие упаковки



 = 8 проданные упаковки

- 6) Сколько проданных упаковок имела 80?
- 7) В какой день продано наибольшее количество поп-корна?
- 8) В какой день продано больше поп-корна, Воскресенье или Пятница?
- 9) Сколько проданных упаковок имела Суббота?
- 10) В какой день продано наименьшее количество поп-корна?

Ответы

1. _____
2. _____
3. _____
4. _____
5. _____
6. _____
7. _____
8. _____
9. _____
10. _____



Отец {bvarr} взял {bvarr} и 5 друзей на рыбалку. Они записали количество пойманной рыбы с помощью пиктограммы ниже.

Результаты рыбалки

?		18
?		54
?		45
?		63
Папа		9
?		81
?		72

= 9 Пойманная рыба

- 1) Кто поймал больше рыбы, ? или ??
- 2) Сколько рыбы поймал ??
- 3) Кто поймал больше всего рыбы?
- 4) Кто поймал меньше всего рыбы?
- 5) Кто поймал именно 72 рыб?

Кинотеатр решил отследить количество маленьких упаковок попкорна, которые они продают каждый день. Они поместили собранную информацию в таблицы.

Проданные маленькие упаковки

Воскресенье		24
Пятница		64
Суббота		56
Четверг		80
Вторник		48
Среда		16
Понедельник		40

= 8 проданные упаковки

- 6) Сколько проданных упаковок имела 80?
- 7) В какой день продано наибольшее количество поп-корна?
- 8) В какой день продано больше поп-корна, Воскресенье или Пятница?
- 9) Сколько проданных упаковок имела Суббота?
- 10) В какой день продано наименьшее количество поп-корна?

ОТВЕТЫ

1. ?
2. 72
3. ?
4. Папа
5. ?
6. Четверг
7. Четверг
8. Пятница
9. 56
10. Среда



ОТВЕТЫ

На мероприятии по сбору средств студенты из класса миссис Лонг продавали рожки мороженого. Г-жа Лонг записала информацию об их продажах на пиктограмме ниже.

Шишки проданы



- 1) Сколько рожков мороженого они продали на понедельник?
- 2) В какой день они продали ровно 5 рожков мороженого?
- 3) В какой день они продали наименьшее количество рожков мороженого?
- 4) Они продали больше шишек на Среда или Воскресенье?
- 5) В какой день было продано больше всего рожков мороженого?

1. _____
2. _____
3. _____
4. _____
5. _____
6. _____
7. _____
8. _____
9. _____
10. _____

Класс мистера Сандерса проводил эксперимент, чтобы выяснить, в какой день недели было больше всего дождя. Его класс записал свою информацию на пиктограмме ниже.

Миллиметры дождя



- 6) В какой день было больше всего дождей?
- 7) В какой день выпало ровно 10 миллиметров дождя?
- 8) Сколько дождя было в Вторник?
- 9) Был ли дождь больше на Суббота или четверг?
- 10) В какой день было меньше всего дождя?



На мероприятии по сбору средств студенты из класса миссис Лонг продавали рожки мороженого. Г-жа Лонг записала информацию об их продажах на пиктограмме ниже.

Шишки проданы



- 1) Сколько рожков мороженого они продали на понедельник?
- 2) В какой день они продали ровно 5 рожков мороженого?
- 3) В какой день они продали наименьшее количество рожков мороженого?
- 4) Они продали больше шишек на Среда или Воскресенье?
- 5) В какой день было продано больше всего рожков мороженого?

Класс мистера Сандерса проводил эксперимент, чтобы выяснить, в какой день недели было больше всего дождя. Его класс записал свою информацию на пиктограмме ниже.

Миллиметры дождя



- 6) В какой день было больше всего дождей?
- 7) В какой день выпало ровно 10 миллиметров дождя?
- 8) Сколько дождя было в Вторник?
- 9) Был ли дождь больше на Суббота или четверг?
- 10) В какой день было меньше всего дождя?

Ответы

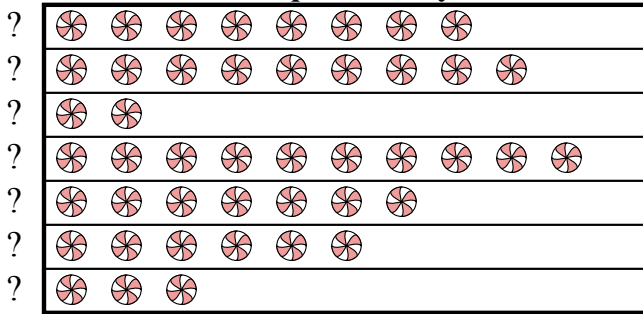
1. 40
2. Пятница
3. Пятница
4. Среда
5. Четверг
6. Воскресенье
7. среда
8. 6
9. Суббота
10. Пятница



Ответы

{gvari} и ее друзья сравнивали количество конфет, которые они получили на Хэллоуин. Они записали свою информацию на пиктограмме ниже.

Конфеты Хаул




 = 3 килограммы конфет

- 1) Сколько килограммов конфет досталось ??
- 2) У кого больше всего конфет?
- 3) Кому досталось ровно 9 килограммов конфет?
- 4) У кого больше конфет, ? или ??
- 5) У кого меньше всего конфет?

1. _____
2. _____
3. _____
4. _____
5. _____
6. _____
7. _____
8. _____
9. _____
10. _____

{bvari} записывал, сколько слэм-данков забили его любимые команды. Он организовал информацию в пиктограмме ниже.

слэм-данк



 = 4 слэм-данки

- 6) Какая команда провела наибольшее количество слэм-данков?
- 7) У какой команды было больше слэм-данков: Warriors или Hawks?
- 8) У какой команды было наименьшее количество слэм-данков?
- 9) Какая команда забила ровно 32 слэм-данков?
- 10) Сколько слэм-данков сделал Bulls?

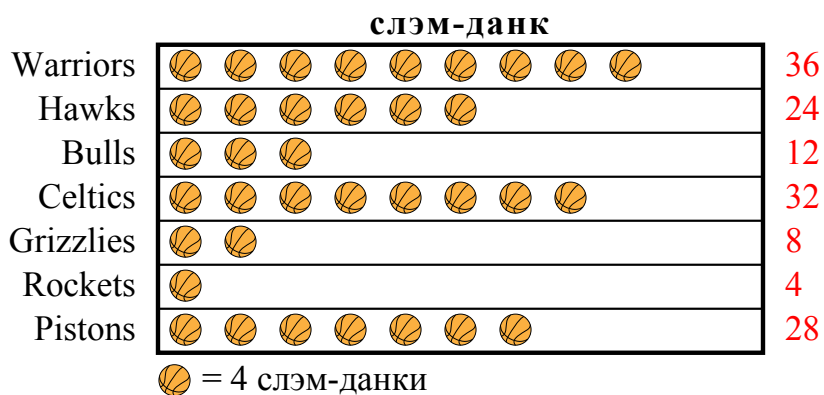


{gvari} и ее друзья сравнивали количество конфет, которые они получили на Хэллоуин. Они записали свою информацию на пиктограмме ниже.



- 1) Сколько килограммов конфет досталось ??
- 2) У кого больше всего конфет?
- 3) Кому досталось ровно 9 килограммов конфет?
- 4) У кого больше конфет, ? или ??
- 5) У кого меньше всего конфет?

{bvari} записывал, сколько слэм-данков забили его любимые команды. Он организовал информацию в пиктограмме ниже.



- 6) Какая команда провела наибольшее количество слэм-данков?
- 7) У какой команды было больше слэм-данков: Warriors или Hawks?
- 8) У какой команды было наименьшее количество слэм-данков?
- 9) Какая команда забила ровно 32 слэм-данков?
- 10) Сколько слэм-данков сделал Bulls?

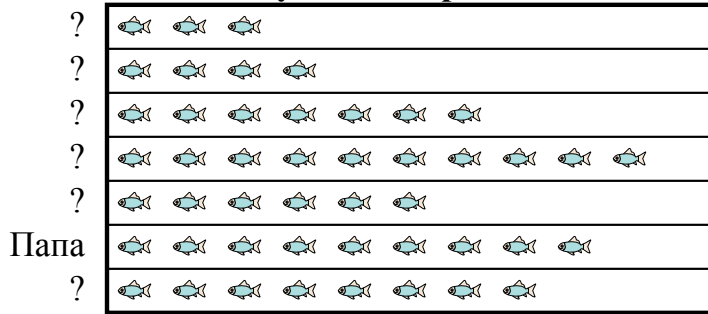
ОТВЕТЫ

1. 9
2. ?
3. ?
4. ?
5. ?
6. Warriors
7. Warriors
8. Rockets
9. Celtics
10. 12



Отец {bvarrr} взял {bvarrr} и 5 друзей на рыбалку. Они записали количество пойманной рыбы с помощью пиктограммы ниже.

Результаты рыбалки



= 7 Пойманная рыба

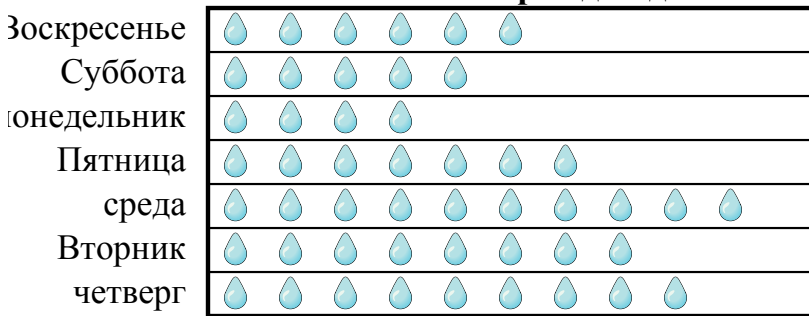
- 1) Кто поймал больше всего рыбы?
- 2) Кто поймал именно 56 рыб?
- 3) Кто поймал меньше всего рыбы?
- 4) Сколько рыбы поймал ??
- 5) Кто поймал больше рыбы, ? или ??

Ответы

1. _____
2. _____
3. _____
4. _____
5. _____
6. _____
7. _____
8. _____
9. _____
10. _____

Класс мистера Сандерса проводил эксперимент, чтобы выяснить, в какой день недели было больше всего дождя. Его класс записал свою информацию на пиктограмме ниже.

Миллиметры дождя



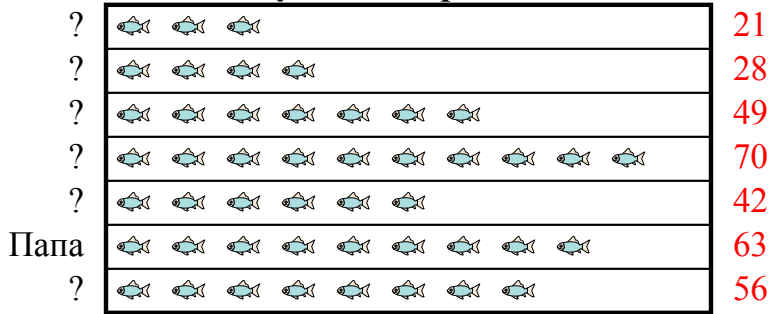
= 6 Миллиметры дождя

- 6) В какой день было меньше всего дождя?
- 7) В какой день выпало ровно 42 миллиметров дождя?
- 8) Сколько дождя было в понедельник?
- 9) В какой день было больше всего дождей?
- 10) Был ли дождь больше на Воскресенье или Суббота?



Отец {bvarr} взял {bvarr} и 5 друзей на рыбалку. Они записали количество пойманной рыбы с помощью пиктограммы ниже.

Результаты рыбалки

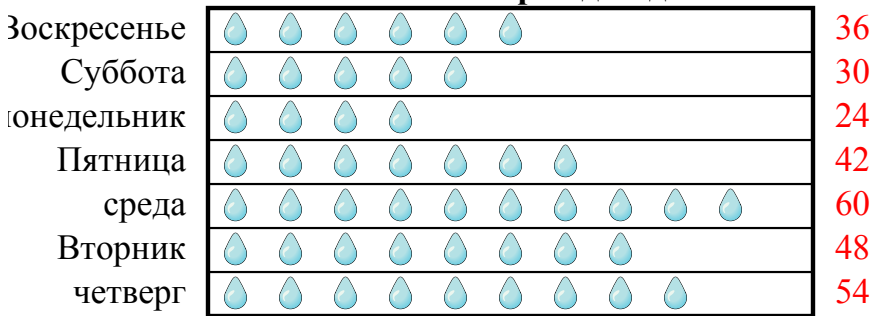


= 7 Пойманная рыба

- 1) Кто поймал больше всего рыбы?
- 2) Кто поймал именно 56 рыб?
- 3) Кто поймал меньше всего рыбы?
- 4) Сколько рыбы поймал ??
- 5) Кто поймал больше рыбы, ? или ??

Класс мистера Сандерса проводил эксперимент, чтобы выяснить, в какой день недели было больше всего дождя. Его класс записал свою информацию на пиктограмме ниже.

Миллиметры дождя



= 6 Миллиметры дождя

- 6) В какой день было меньше всего дождя?
- 7) В какой день выпало ровно 42 миллиметров дождя?
- 8) Сколько дождя было в понедельник?
- 9) В какой день было больше всего дождей?
- 10) Был ли дождь больше на Воскресенье или Суббота?

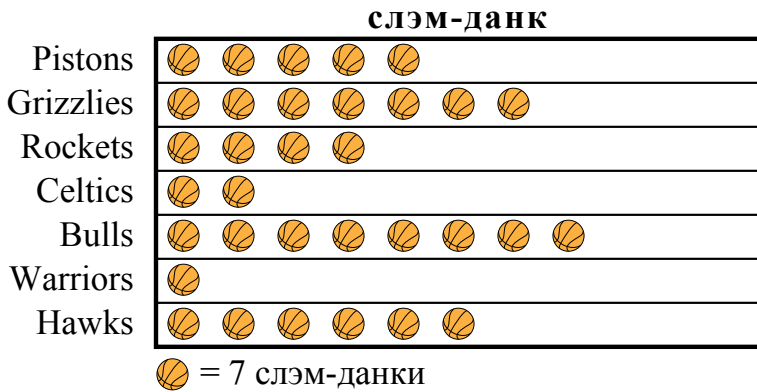
ОТВЕТЫ

1. Папа
2. ?
3. ?
4. 56
5. ?
6. понедельник
7. Пятница
8. 24
9. среда
10. Воскресенье



Ответы

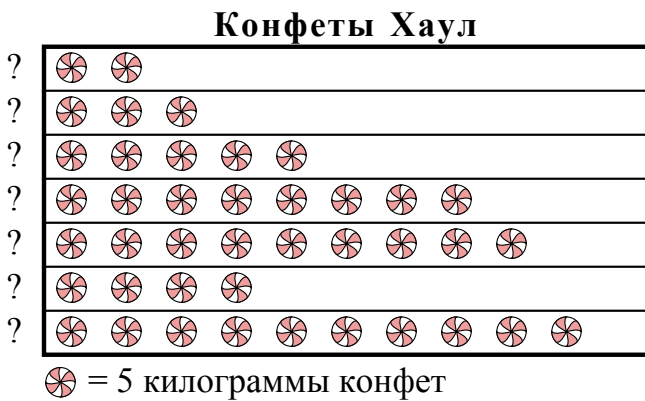
{bvari} записывал, сколько слэм-данков забили его любимые команды. Он организовал информацию в пиктограмме ниже.



- 1) Какая команда забила ровно 14 слэм-данков?
- 2) У какой команды было наименьшее количество слэм-данков?
- 3) У какой команды было больше слэм-данков: Pistons или Grizzlies?
- 4) Сколько слэм-данков сделал Rockets?
- 5) Какая команда провела наибольшее количество слэм-данков?

1. _____
2. _____
3. _____
4. _____
5. _____
6. _____
7. _____
8. _____
9. _____
10. _____

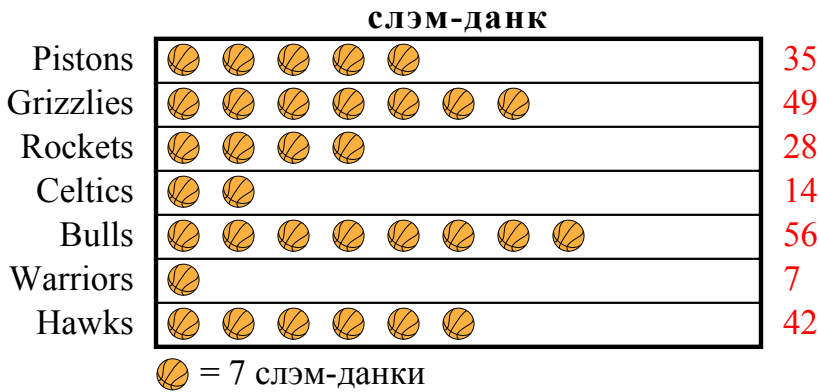
{gvari} и ее друзья сравнивали количество конфет, которые они получили на Хэллоуин. Они записали свою информацию на пиктограмме ниже.



- 6) У кого меньше всего конфет?
- 7) Кому досталось ровно 50 килограммов конфет?
- 8) У кого больше конфет, ? или ??
- 9) Сколько килограммов конфет досталось ??
- 10) У кого больше всего конфет?

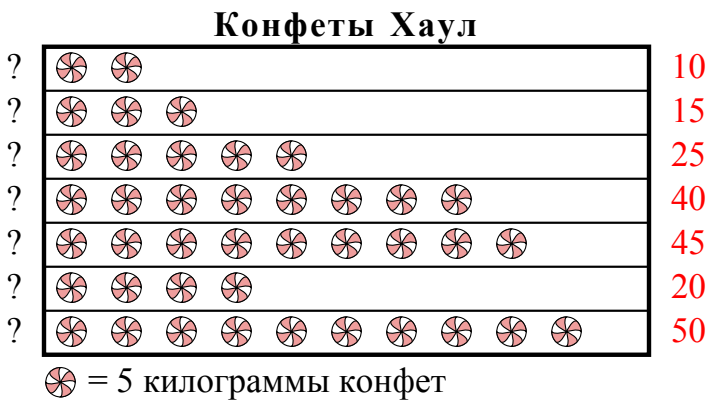


{bvari} записывал, сколько слэм-данков забили его любимые команды. Он организовал информацию в пиктограмме ниже.



- 1) Какая команда забила ровно 14 слэм-данков?
- 2) У какой команды было наименьшее количество слэм-данков?
- 3) У какой команды было больше слэм-данков: Pistons или Grizzlies?
- 4) Сколько слэм-данков сделал Rockets?
- 5) Какая команда провела наибольшее количество слэм-данков?

{gvari} и ее друзья сравнивали количество конфет, которые они получили на Хэллоуин. Они записали свою информацию на пиктограмме ниже.



- 6) У кого меньше всего конфет?
- 7) Кому досталось ровно 50 килограммов конфет?
- 8) У кого больше конфет, ? или ??
- 9) Сколько килограммов конфет досталось ??
- 10) У кого больше всего конфет?

ОТВЕТЫ








































1. Celtics
2. Warriors
3. Grizzlies
4. 28
5. Bulls
6. ?
7. ?
8. ?
9. 50
10. ?




Ответы

Кинотеатр решил отследить количество маленьких упаковок попкорна, которые они продают каждый день. Они поместили собранную информацию в таблицы.

Проданные маленькие упаковки

Воскресенье	        
Среда	     
Четверг	   
Вторник	       
Суббота	    
Понедельник	
Пятница	     









































 = 8 проданные упаковки

- 1) Сколько проданных упаковок имела Четверг?
- 2) В какой день продано наибольшее количество поп-корна?
- 3) Сколько проданных упаковок имела 64?
- 4) В какой день продано наименьшее количество поп-корна?
- 5) В какой день продано больше поп-корна, Воскресенье или Среда?

1. _____
2. _____
3. _____
4. _____
5. _____
6. _____
7. _____
8. _____
9. _____
10. _____

Несколько учеников помогали украшать школьные залы, рисуя картинки, чтобы повесить трубку. Пиктограмма ниже показывает количество рисунков, нарисованных каждым учеником.

картинки нарисованы

?	         
?	   
?	    
?	      
?	 
?	        
?	  








































 = 9 картинки нарисованы


- 6) Кто нарисовал именно 27 картинок?
- 7) ? или ? нарисовали больше картинок?
- 8) Сколько картинок нарисовал ??
- 9) Кто нарисовал меньше всего картинок?
- 10) Кто нарисовал больше всего картинок?



Кинотеатр решил отследить количество маленьких упаковок попкорна, которые они продают каждый день. Они поместили собранную информацию в таблицы.

Проданные маленькие упаковки







































Воскресенье	        	72
Среда	     	56
Четверг	   	32
Вторник	       	64
Суббота	    	40
Понедельник		8
Пятница	     	48

 = 8 проданные упаковки

- 1) Сколько проданных упаковок имела Четверг?
- 2) В какой день продано наибольшее количество поп-корна?
- 3) Сколько проданных упаковок имела 64?
- 4) В какой день продано наименьшее количество поп-корна?
- 5) В какой день продано больше поп-корна, Воскресенье или Среда?

Несколько учеников помогали украшать школьные залы, рисуя картинки, чтобы повесить трубку. Пиктограмма ниже показывает количество рисунков, нарисованных каждым учеником.

картинки нарисованы

?	        	90
?	   	36
?	    	45
?	      	63
?	 	18
?	       	81
?	  	27

 = 9 картинки нарисованы

- 6) Кто нарисовал именно 27 картинок?
- 7) ? или ? нарисовали больше картинок?
- 8) Сколько картинок нарисовал ??
- 9) Кто нарисовал меньше всего картинок?
- 10) Кто нарисовал больше всего картинок?


ОТВЕТЫ

1. 32
2. Воскресенье
3. Вторник
4. Понедельник
5. Воскресенье
6. ?
7. ?
8. 27
9. ?
10. ?



{bvari} и его друзья пытались выяснить, кто сможет отловить больше ошибок за день. Они записали свою информацию на пиктограмме ниже.

Bug Catching Contest

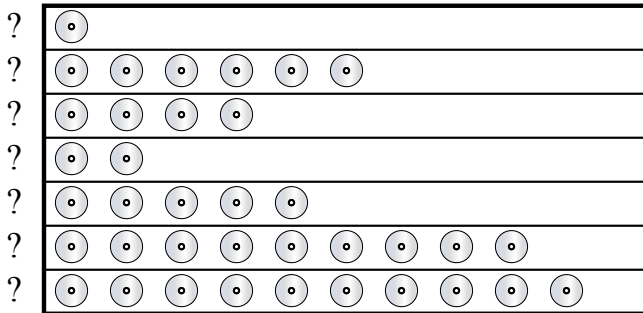


= 8 Жуки

- 1) Кто поймал наибольшее количество жуков?
- 2) Кто обнаружил больше жуков, ? или ??
- 3) Кто поймал именно 32 жука(ов)?
- 4) Кто выловил наименьшее количество жуков?
- 5) Сколько жуков обнаружил ??

? и его друзья сравнивали, количество дисков, которые они имеют. Они отразили результаты в данной таблице.

Имеющиеся DVD



= 5 DVD

- 6) Кто имеет наименьшее количество DVD дисков?
- 7) Сколько DVD имеет 50 ?
- 8) Кто имеет больше DVD, ? или ??
- 9) Кто имеет наибольшее количество DVD дисков?
- 10) Сколько DVD имеет ??

Ответы

1. _____
2. _____
3. _____
4. _____
5. _____
6. _____
7. _____
8. _____
9. _____
10. _____



{bvari} и его друзья пытались выяснить, кто сможет отловить больше ошибок за день. Они записали свою информацию на пиктограмме ниже.

Bug Catching Contest

?		16
?		64
?		24
?		56
?		48
?		40
?		32

= 8 Жуки

- 1) Кто поймал наибольшее количество жуков?
- 2) Кто обнаружил больше жуков, ? или ??
- 3) Кто поймал именно 32 жука(ов)?
- 4) Кто выловил наименьшее количество жуков?
- 5) Сколько жуков обнаружил ??

? и его друзья сравнивали, количество дисков, которые они имеют. Они отразили результаты в данной таблице.

Имеющиеся DVD

?		5
?		30
?		20
?		10
?		25
?		45
?		50

= 5 DVD

- 6) Кто имеет наименьшее количество DVD дисков?
- 7) Сколько DVD имеет 50 ?
- 8) Кто имеет больше DVD, ? или ??
- 9) Кто имеет наибольшее количество DVD дисков?
- 10) Сколько DVD имеет ??


ОТВЕТЫ

1. ?
2. ?
3. ?
4. ?
5. 32
6. ?
7. ?
8. ?
9. ?
10. 50



{bvari} и его друзья пытались выяснить, кто сможет отловить больше ошибок за день. Они записали свою информацию на пиктограмме ниже.

Bug Catching Contest



= 3 Жуки

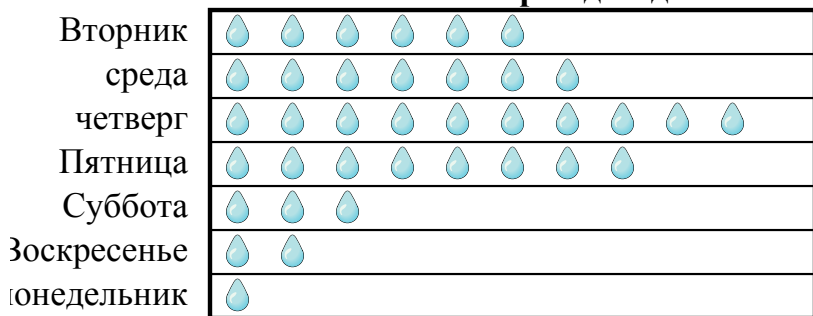
- 1) Кто выловил наименьшее количество жуков?
- 2) Сколько жуков обнаружил ??
- 3) Кто обнаружил больше жуков, ? или ??
- 4) Кто поймал именно 30 жука(ов)?
- 5) Кто поймал наибольшее количество жуков?

Ответы

1. _____
2. _____
3. _____
4. _____
5. _____
6. _____
7. _____
8. _____
9. _____
10. _____

Класс мистера Сандерса проводил эксперимент, чтобы выяснить, в какой день недели было больше всего дождя. Его класс записал свою информацию на пиктограмме ниже.

Миллиметры дождя




= 7 Миллиметры дождя

- 6) Сколько дождя было в четверг?
- 7) Был ли дождь больше на Вторник или среда?
- 8) В какой день было меньше всего дождя?
- 9) В какой день выпало ровно 56 миллиметров дождя?
- 10) В какой день было больше всего дождей?



{bvari} и его друзья пытались выяснить, кто сможет отловить больше ошибок за день. Они записали свою информацию на пиктограмме ниже.

Bug Catching Contest

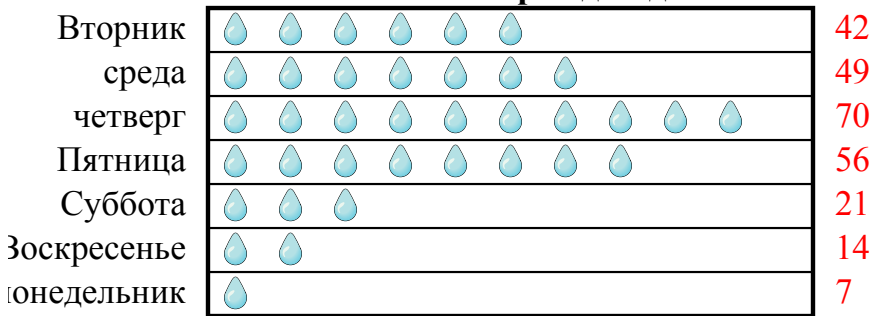


= 3 Жуки

- 1) Кто выловил наименьшее количество жуков?
- 2) Сколько жуков обнаружил ??
- 3) Кто обнаружил больше жуков, ? или ??
- 4) Кто поймал именно 30 жука(ов)?
- 5) Кто поймал наибольшее количество жуков?

Класс мистера Сандерса проводил эксперимент, чтобы выяснить, в какой день недели было больше всего дождя. Его класс записал свою информацию на пиктограмме ниже.

Миллиметры дождя



= 7 Миллиметры дождя

- 6) Сколько дождя было в четверг?
- 7) Был ли дождь больше на Вторник или среда?
- 8) В какой день было меньше всего дождя?
- 9) В какой день выпало ровно 56 миллиметров дождя?
- 10) В какой день было больше всего дождей?

Ответы

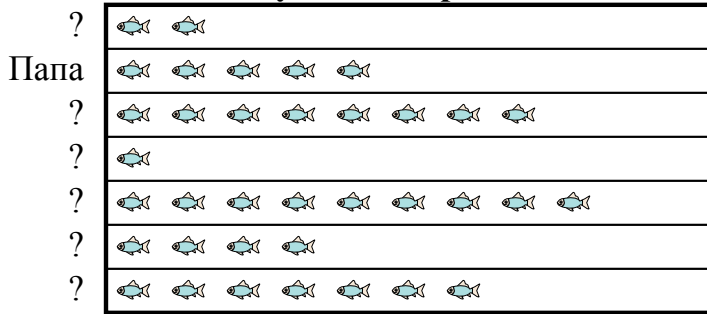
1. ?
2. 30
3. ?
4. ?
5. ?
6. 70
7. среда
8. понедельник
9. Пятница
10. четверг



ОТВЕТЫ

Отец {bvarr} взял {bvarr} и 5 друзей на рыбалку. Они записали количество пойманной рыбы с помощью пиктограммы ниже.

Результаты рыбалки



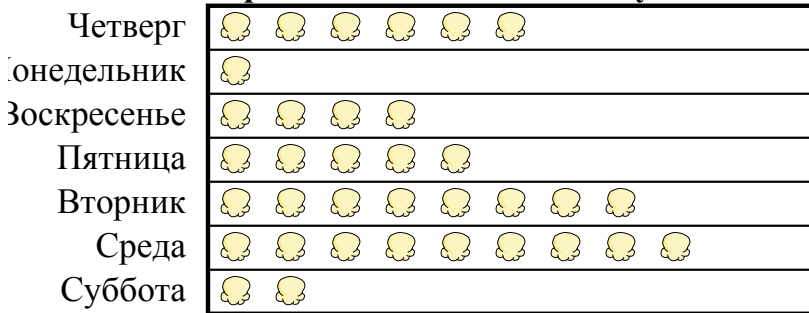
= 4 Пойманная рыба

- 1) Сколько рыбы поймал ??
- 2) Кто поймал больше всего рыбы?
- 3) Кто поймал меньше всего рыбы?
- 4) Кто поймал больше рыбы, ? или Папа?
- 5) Кто поймал именно 28 рыб?

1. _____
2. _____
3. _____
4. _____
5. _____
6. _____
7. _____
8. _____
9. _____
10. _____

Кинотеатр решил отследить количество маленьких упаковок попкорна, которые они продают каждый день. Они поместили собранную информацию в таблицы.

Проданные маленькие упаковки



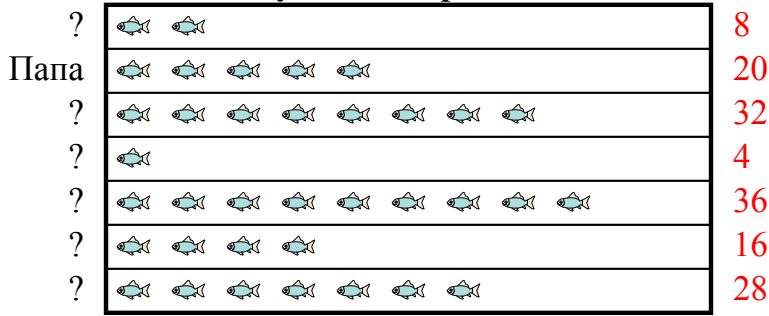
= 4 проданные упаковки

- 6) Сколько проданных упаковок имела 20?
- 7) Сколько проданных упаковок имела Воскресенье?
- 8) В какой день продано наибольшее количество поп-корна?
- 9) В какой день продано больше поп-корна, Четверг или Понедельник?
- 10) В какой день продано наименьшее количество поп-корна?



Отец {bvarr} взял {bvarr} и 5 друзей на рыбалку. Они записали количество пойманной рыбы с помощью пиктограммы ниже.

Результаты рыбалки

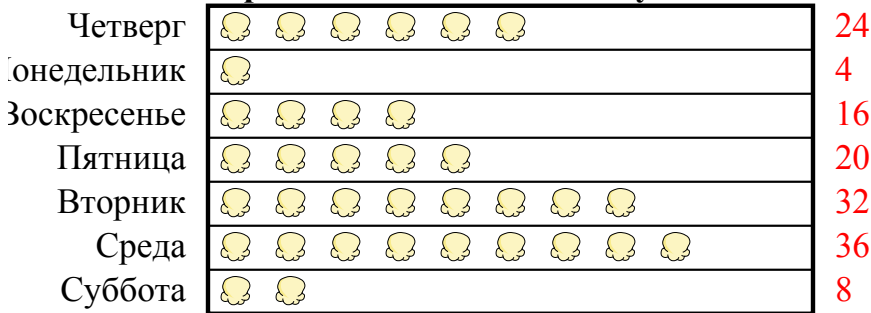


= 4 Пойманная рыба

- 1) Сколько рыбы поймал ??
- 2) Кто поймал больше всего рыбы?
- 3) Кто поймал меньше всего рыбы?
- 4) Кто поймал больше рыбы, ? или Папа?
- 5) Кто поймал именно 28 рыб?

Кинотеатр решил отследить количество маленьких упаковок попкорна, которые они продают каждый день. Они поместили собранную информацию в таблицы.

Проданные маленькие упаковки



= 4 проданные упаковки

- 6) Сколько проданных упаковок имела 20?
- 7) Сколько проданных упаковок имела Воскресенье?
- 8) В какой день продано наибольшее количество поп-корна?
- 9) В какой день продано больше поп-корна, Четверг или Понедельник?
- 10) В какой день продано наименьшее количество поп-корна?


ОТВЕТЫ

1. 28
2. ?
3. Папа
4. ?
5. ?
6. Пятница
7. 16
8. Среда
9. Четверг
10. Понедельник



{bvari} и его друзья пытались выяснить, кто сможет отловить больше ошибок за день. Они записали свою информацию на пиктограмме ниже.

Bug Catching Contest




= 3 Жуки

- 1) Кто поймал именно 15 жука(ов)?
- 2) Кто поймал наибольшее количество жуков?
- 3) Кто выловил наименьшее количество жуков?
- 4) Кто обнаружил больше жуков, ? или ??
- 5) Сколько жуков обнаружил ??

Несколько учеников помогали украшать школьные залы, рисуя картинки, чтобы повесить трубку. Пиктограмма ниже показывает количество рисунков, нарисованных каждым учеником.

картинки нарисованы



= 5 картинки нарисованы

- 6) Кто нарисовал именно 5 картинок?
- 7) Кто нарисовал больше всего картинок?
- 8) Сколько картинок нарисовал ??
- 9) Кто нарисовал меньше всего картинок?
- 10) ? или ? нарисовали больше картинок?


Ответы

1. _____
2. _____
3. _____
4. _____
5. _____
6. _____
7. _____
8. _____
9. _____
10. _____



{bvari} и его друзья пытались выяснить, кто сможет отловить больше ошибок за день. Они записали свою информацию на пиктограмме ниже.

Bug Catching Contest

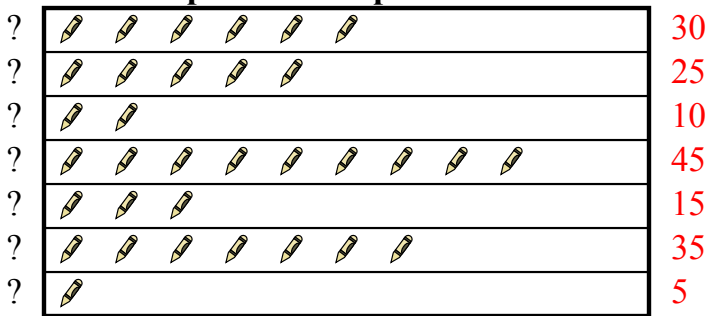


= 3 Жуки

- 1) Кто поймал именно 15 жука(ов)?
- 2) Кто поймал наибольшее количество жуков?
- 3) Кто выловил наименьшее количество жуков?
- 4) Кто обнаружил больше жуков, ? или ??
- 5) Сколько жуков обнаружил ??

Несколько учеников помогали украшать школьные залы, рисуя картинки, чтобы повесить трубку. Пиктограмма ниже показывает количество рисунков, нарисованных каждым учеником.

картинки нарисованы



= 5 картинки нарисованы

- 6) Кто нарисовал именно 5 картинок?
- 7) Кто нарисовал больше всего картинок?
- 8) Сколько картинок нарисовал ??
- 9) Кто нарисовал меньше всего картинок?
- 10) ? или ? нарисовали больше картинок?

ОТВЕТЫ

1. _____ ?
2. _____ ?
3. _____ ?
4. _____ ?
5. _____ 15
6. _____ ?
7. _____ ?
8. _____ 5
9. _____ ?
10. _____ ?