











































Ответы

Кинотеатр решил отследить количество маленьких упаковок попкорна, которые они продают каждый день. Они поместили собранную информацию в таблицы.

Проданные маленькие упаковки

Вторник	   
Пятница	  
Воскресенье	      
Четверг	       
Среда	
Суббота	        
Понедельник	      




































 = 6 проданные упаковки

- 1) В какой день продано больше поп-корна, Вторник или Пятница?
- 2) В какой день продано наибольшее количество поп-корна?
- 3) Сколько проданных упаковок имела Воскресенье?
- 4) В какой день продано наименьшее количество поп-корна?
- 5) Сколько проданных упаковок имела 54?

1. _____
2. _____
3. _____
4. _____
5. _____
6. _____
7. _____
8. _____
9. _____
10. _____

Несколько учеников помогали украшать школьные залы, рисуя картинки, чтобы повесить трубку. Пиктограмма ниже показывает количество рисунков, нарисованных каждым учеником.

картинки нарисованы

?	       
?	 
?	
?	   
?	    
?	        
?	     








































 = 4 картинки нарисованы

- 6) ? или ? нарисовали больше картинок?
- 7) Кто нарисовал меньше всего картинок?
- 8) Кто нарисовал больше всего картинок?
- 9) Кто нарисовал именно 28 картинок?
- 10) Сколько картинок нарисовал ??



Кинотеатр решил отследить количество маленьких упаковок попкорна, которые они продают каждый день. Они поместили собранную информацию в таблицы.

Проданные маленькие упаковки




































Вторник	   	24
Пятница	  	18
Воскресенье	      	42
Четверг	       	54
Среда		6
Суббота	        	60
Понедельник	      	48

 = 6 проданные упаковки

- 1) В какой день продано больше поп-корна, Вторник или Пятница?
- 2) В какой день продано наибольшее количество поп-корна?
- 3) Сколько проданных упаковок имела Воскресенье?
- 4) В какой день продано наименьшее количество поп-корна?
- 5) Сколько проданных упаковок имела 54?

Несколько учеников помогали украшать школьные залы, рисуя картинки, чтобы повесить трубку. Пиктограмма ниже показывает количество рисунков, нарисованных каждым учеником.

картинки нарисованы

?	       	32
?	 	8
?		4
?	   	16
?	    	20
?	        	40
?	     	28

 = 4 картинки нарисованы

- 6) ? или ? нарисовали больше картинок?
- 7) Кто нарисовал меньше всего картинок?
- 8) Кто нарисовал больше всего картинок?
- 9) Кто нарисовал именно 28 картинок?
- 10) Сколько картинок нарисовал ??

ОТВЕТЫ

1. **Вторник**

2. **Суббота**

3. **42**

4. **Среда**

5. **Четверг**

6. **?**

7. **?**

8. **?**

9. **?**

10. **28**