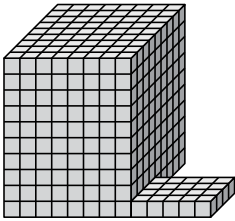




Найдите общий объем каждой фигуры. Размеры указаны в сантиметрах (без учета масштаба).

ОТВЕТЫ

1)



1. _____

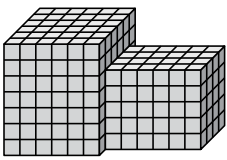
2. _____

3. _____

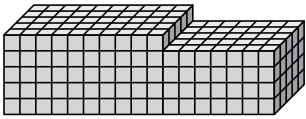
4. _____

5. _____

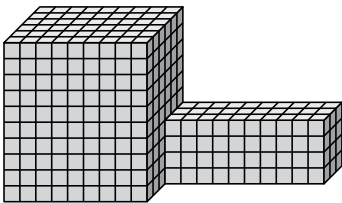
2)



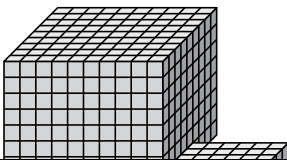
3)



4)

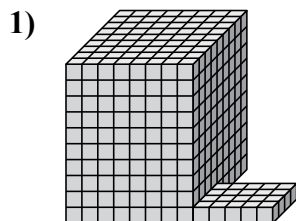


5)



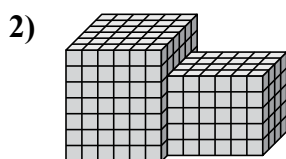


Найдите общий объем каждой фигуры. Размеры указаны в сантиметрах (без учета масштаба).

ОТВЕТЫ

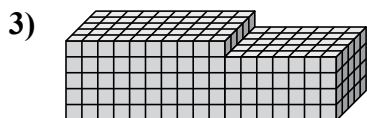
$$8 \times 9 \times 10 = 720$$
$$5 \times 4 \times 1 = 20$$

1. 740 cm³



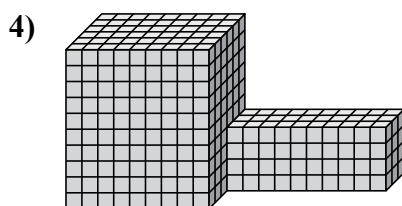
$$6 \times 6 \times 7 = 252$$
$$6 \times 4 \times 5 = 120$$

2. 372 cm³



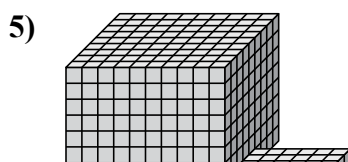
$$10 \times 5 \times 5 = 250$$
$$7 \times 5 \times 4 = 140$$

3. 390 cm³



$$9 \times 6 \times 10 = 540$$
$$10 \times 3 \times 4 = 120$$

4. 660 cm³



$$10 \times 9 \times 8 = 720$$
$$6 \times 5 \times 1 = 30$$

5. 750 cm³