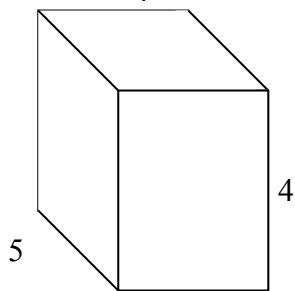


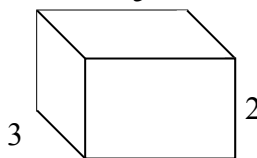


Заполните каждый куб малыми кубами и подсчитайте объем. Измерения проводить в сантиметрах.

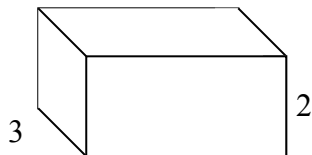
об) $3 \frac{1}{4}$



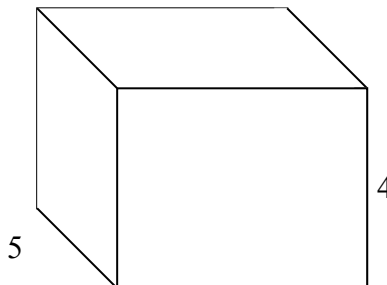
1) $3 \frac{1}{5}$



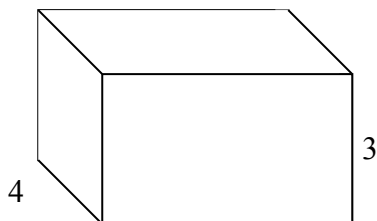
2) $4 \frac{1}{2}$




3) $5 \frac{1}{4}$



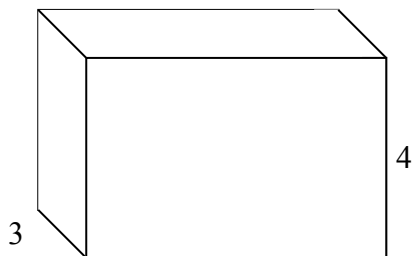
4) $5 \frac{1}{4}$



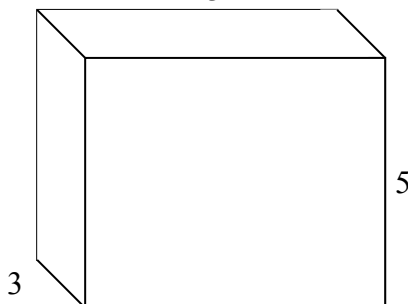
5) $5 \frac{1}{4}$



6) $6 \frac{2}{4}$



7) $6 \frac{1}{3}$



ОТВЕТЫ

об. **65 см**

1. _____

2. _____

3. _____

4. _____

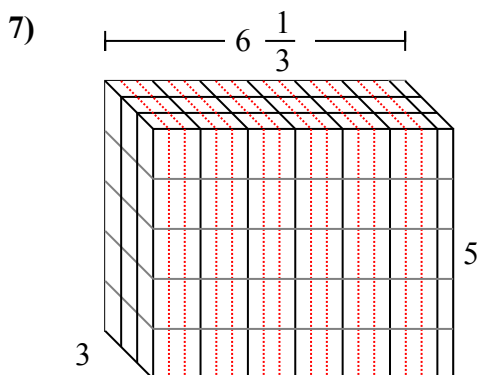
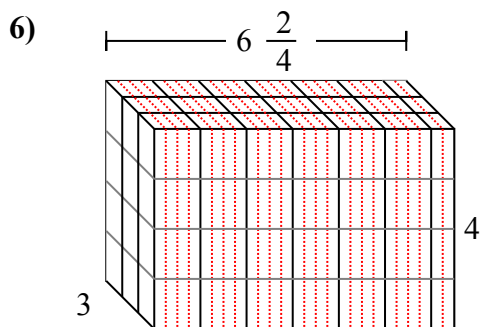
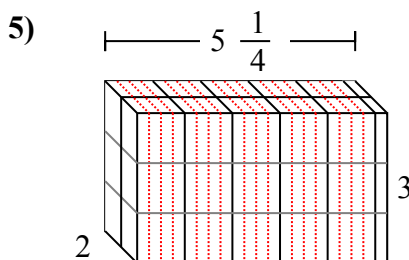
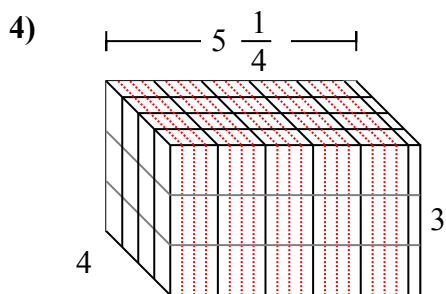
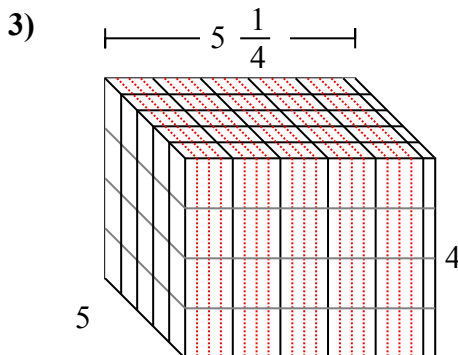
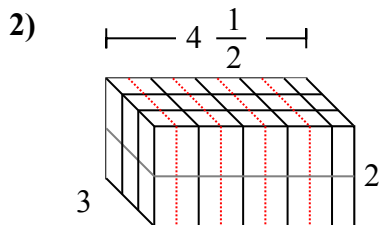
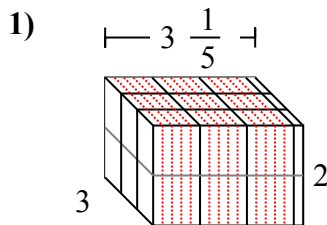
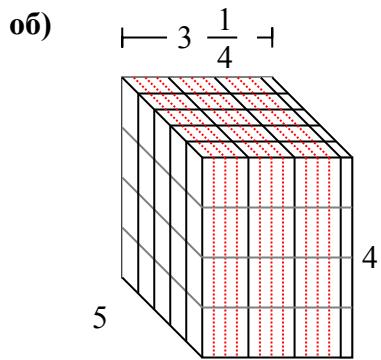
5. _____

6. _____

7. _____



Заполните каждый куб малыми кубами и подсчитайте объем. Измерения проводить в сантиметрах.



ОТВЕТЫ

об. 65 cm

1. 19 1/5 cm

2. 27 cm

3. 105 cm

4. 63 cm

5. 31 2/4 cm

6. 78 cm

7. 95 cm