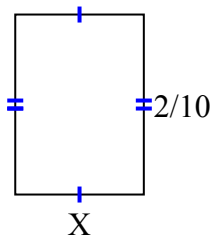




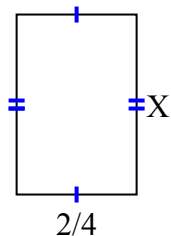
Найдите значение X для каждой цифры. Каждая цифра в сантиметрах (см). Не в масштабе.

ОТВЕТЫ

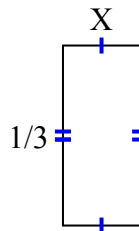
1) площадь = $\frac{2}{70} \text{ cm}^2$



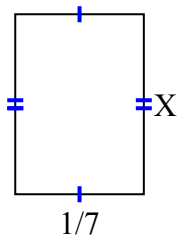
2) площадь = $\frac{12}{32} \text{ cm}^2$



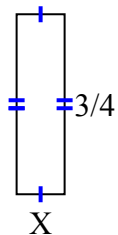
3) площадь = $\frac{1}{21} \text{ cm}^2$



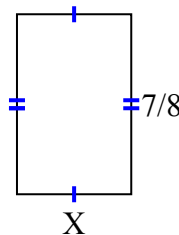
4) площадь = $\frac{2}{70} \text{ cm}^2$



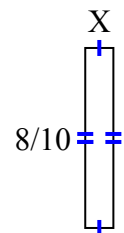
5) площадь = $\frac{3}{20} \text{ cm}^2$



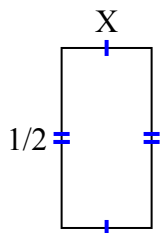
6) площадь = $\frac{35}{72} \text{ cm}^2$



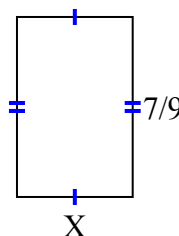
7) площадь = $\frac{8}{80} \text{ cm}^2$



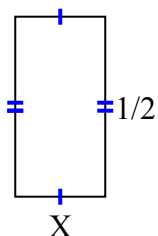
8) площадь = $\frac{2}{16} \text{ cm}^2$



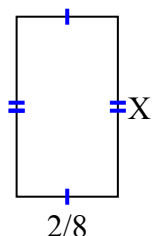
9) площадь = $\frac{14}{36} \text{ cm}^2$



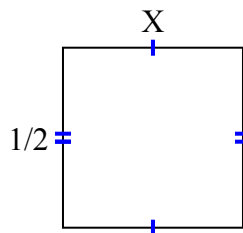
10) площадь = $\frac{1}{8} \text{ cm}^2$



11) площадь = $\frac{8}{72} \text{ cm}^2$



12) площадь = $\frac{1}{4} \text{ cm}^2$

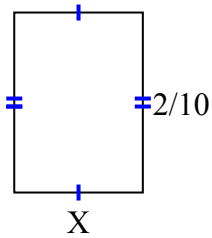


1. _____
2. _____
3. _____
4. _____
5. _____
6. _____
7. _____
8. _____
9. _____
10. _____
11. _____
12. _____

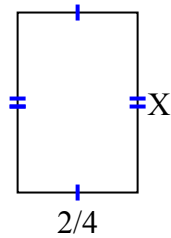


Найдите значение X для каждой цифры. Каждая цифра в сантиметрах (см). Не в масштабе.

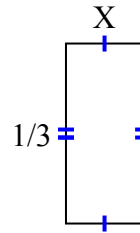
1) площадь = $\frac{2}{70} \text{ cm}^2$



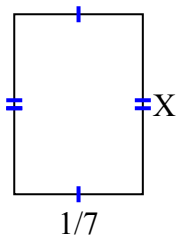
2) площадь = $\frac{12}{32} \text{ cm}^2$



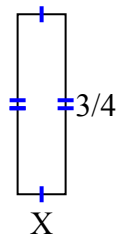
3) площадь = $\frac{1}{21} \text{ cm}^2$



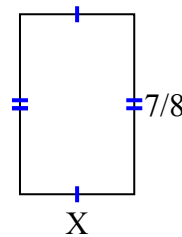
4) площадь = $\frac{2}{70} \text{ cm}^2$



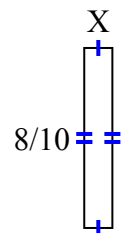
5) площадь = $\frac{3}{20} \text{ cm}^2$



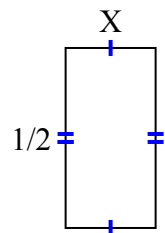
6) площадь = $\frac{35}{72} \text{ cm}^2$



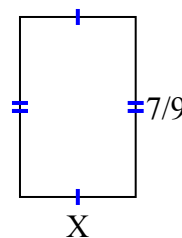
7) площадь = $\frac{8}{80} \text{ cm}^2$



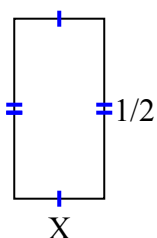
8) площадь = $\frac{2}{16} \text{ cm}^2$



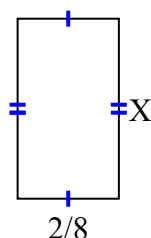
9) площадь = $\frac{14}{36} \text{ cm}^2$



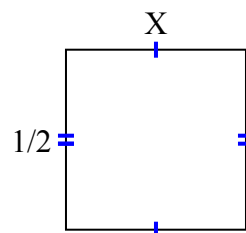
10) площадь = $\frac{1}{8} \text{ cm}^2$



11) площадь = $\frac{8}{72} \text{ cm}^2$



12) площадь = $\frac{1}{4} \text{ cm}^2$



ОТВЕТЫ

1. $\frac{1}{7}$
2. $\frac{6}{8}$
3. $\frac{1}{7}$
4. $\frac{2}{10}$
5. $\frac{1}{5}$
6. $\frac{5}{9}$
7. $\frac{1}{8}$
8. $\frac{2}{8}$
9. $\frac{2}{4}$
10. $\frac{1}{4}$
11. $\frac{4}{9}$
12. $\frac{1}{2}$