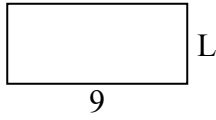




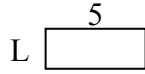
Определите значение 'L'

**ОТВЕТЫ**


1) Площадь =  $36u^2$



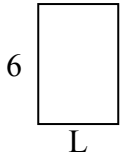
2) Площадь =  $10u^2$



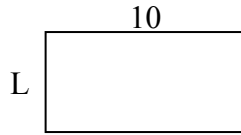
3) Площадь =  $14u^2$



4) Площадь =  $24u^2$



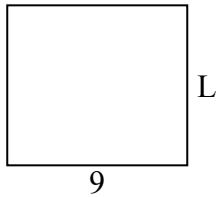
5) Площадь =  $50u^2$



6) Площадь =  $6u^2$



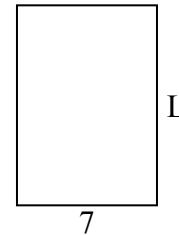
7) Площадь =  $72u^2$



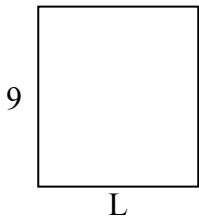
8) Площадь =  $27u^2$



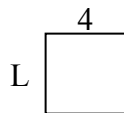
9) Площадь =  $70u^2$



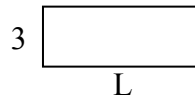
10) Площадь =  $72u^2$



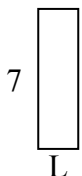
11) Площадь =  $16u^2$



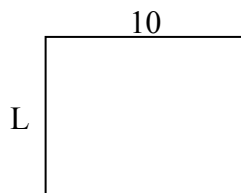
12) Площадь =  $24u^2$



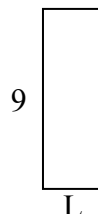
13) Площадь =  $14u^2$



14) Площадь =  $80u^2$



15) Площадь =  $27u^2$

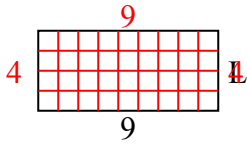


1. \_\_\_\_\_
2. \_\_\_\_\_
3. \_\_\_\_\_
4. \_\_\_\_\_
5. \_\_\_\_\_
6. \_\_\_\_\_
7. \_\_\_\_\_
8. \_\_\_\_\_
9. \_\_\_\_\_
10. \_\_\_\_\_
11. \_\_\_\_\_
12. \_\_\_\_\_
13. \_\_\_\_\_
14. \_\_\_\_\_
15. \_\_\_\_\_

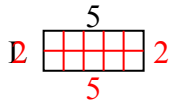


Определите значение 'L'

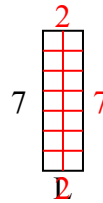
1) Площадь =  $36u^2$



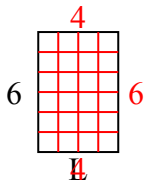
2) Площадь =  $10u^2$



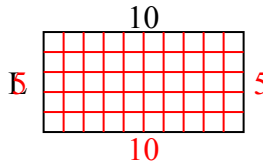
3) Площадь =  $14u^2$



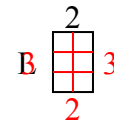
4) Площадь =  $24u^2$



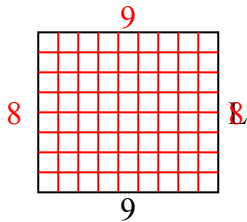
5) Площадь =  $50u^2$



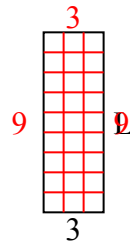
6) Площадь =  $6u^2$



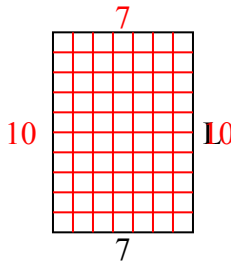
7) Площадь =  $72u^2$



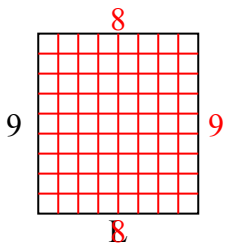
8) Площадь =  $27u^2$



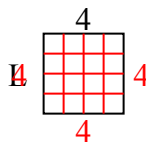
9) Площадь =  $70u^2$



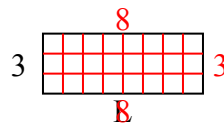
10) Площадь =  $72u^2$



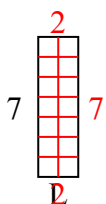
11) Площадь =  $16u^2$



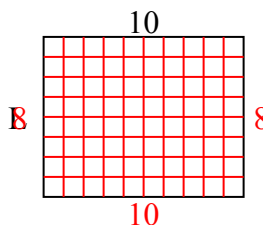
12) Площадь =  $24u^2$



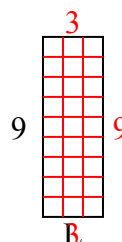
13) Площадь =  $14u^2$



14) Площадь =  $80u^2$



15) Площадь =  $27u^2$



**ОТВЕТЫ**

1. 4
2. 2
3. 2
4. 4
5. 5
6. 3
7. 8
8. 9
9. 10
10. 8
11. 4
12. 8
13. 2
14. 8
15. 3