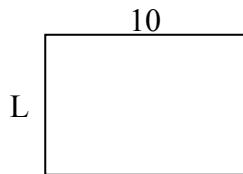




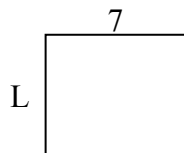
Определите значение 'L'

Ответы

1) Площадь = $70u^2$



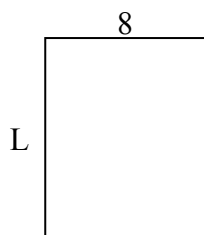
2) Площадь = $42u^2$



3) Площадь = $18u^2$



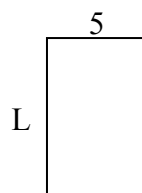
4) Площадь = $80u^2$



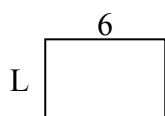
5) Площадь = $18u^2$




6) Площадь = $40u^2$



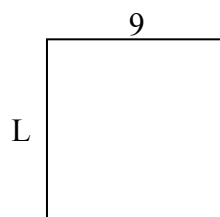
7) Площадь = $24u^2$



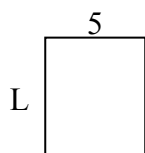
8) Площадь = $60u^2$



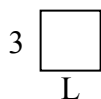
9) Площадь = $81u^2$



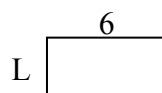
10) Площадь = $30u^2$



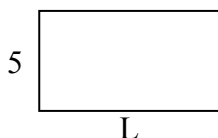
11) Площадь = $9u^2$



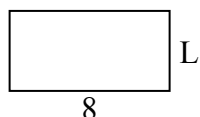
12) Площадь = $18u^2$



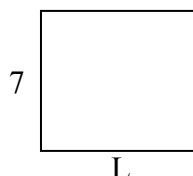
13) Площадь = $45u^2$



14) Площадь = $32u^2$



15) Площадь = $56u^2$

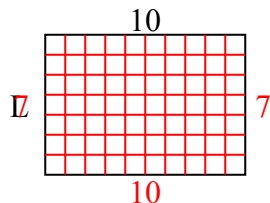


1. _____
2. _____
3. _____
4. _____
5. _____
6. _____
7. _____
8. _____
9. _____
10. _____
11. _____
12. _____
13. _____
14. _____
15. _____

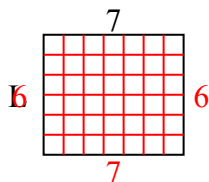


Определите значение 'L'

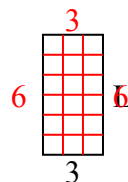
1) Площадь = $70u^2$



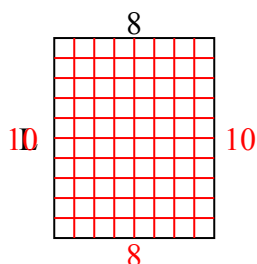
2) Площадь = $42u^2$



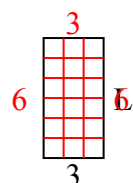
3) Площадь = $18u^2$



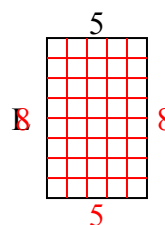
4) Площадь = $80u^2$



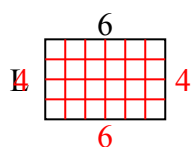
5) Площадь = $18u^2$



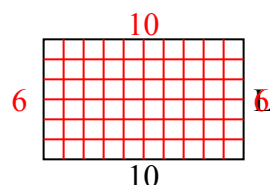
6) Площадь = $40u^2$



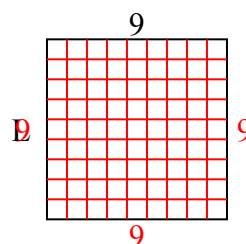
7) Площадь = $24u^2$



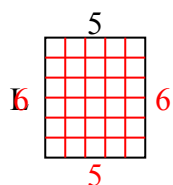
8) Площадь = $60u^2$



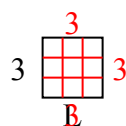
9) Площадь = $81u^2$



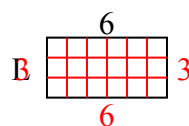
10) Площадь = $30u^2$



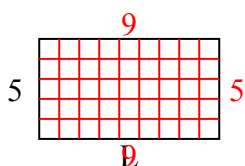
11) Площадь = $9u^2$



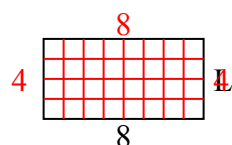
12) Площадь = $18u^2$



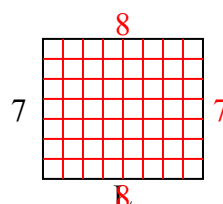
13) Площадь = $45u^2$



14) Площадь = $32u^2$



15) Площадь = $56u^2$



Ответы

1. 7
2. 6
3. 6
4. 10
5. 6
6. 8
7. 4
8. 6
9. 9
10. 6
11. 3
12. 3
13. 9
14. 4
15. 8