



Решите каждую задачу.

- 1) Прямоугольник ниже имеет размеры 1×9 . Создайте прямоугольник с таким же периметром, но с другой площадью.




- 2) Прямоугольник ниже имеет размеры 1×6 . Создайте прямоугольник с таким же периметром, но с другой площадью.




- 3) Прямоугольник ниже имеет размеры 1×10 . Создайте прямоугольник с таким же периметром, но с другой площадью.



- 4) Прямоугольник ниже имеет размеры 6×7 . Создайте прямоугольник с таким же периметром, но с другой площадью.



- 5) Прямоугольник ниже имеет размеры 1×8 . Создайте прямоугольник с таким же периметром, но с другой площадью.



Ответы

1. _____

2. _____

3. _____

4. _____

5. _____



Решите каждую задачу.

- 1) Прямоугольник ниже имеет размеры 1×9 . Создайте прямоугольник с таким же периметром, но с другой площадью.



- 2) Прямоугольник ниже имеет размеры 1×6 . Создайте прямоугольник с таким же периметром, но с другой площадью.




- 3) Прямоугольник ниже имеет размеры 1×10 . Создайте прямоугольник с таким же периметром, но с другой площадью.



- 4) Прямоугольник ниже имеет размеры 6×7 . Создайте прямоугольник с таким же периметром, но с другой площадью.



- 5) Прямоугольник ниже имеет размеры 1×8 . Создайте прямоугольник с таким же периметром, но с другой площадью.



Отвeты

1. 3×7

2. $3 \times 4 : 2 \times 5$

3. $5 \times 6 : 2 \times 9$

4. $3 \times 10 : 4 \times 9$

5. $4 \times 5 : 2 \times 7$