



Определите под какой буквой объем представлен наиболее верно.

**ОТВЕТЫ**

**Xícara**

Una taza se refiere a la cantidad de leche que se obtiene de la cafetería.



**Pinta**

Uma pinta é aproximadamente a quantidade que você recebe em um copo grande.  
1 pinta = 2 xícaras



**Quarto**

Um quarto é mais ou menos a quantidade que você consegue em um recipiente grande de leite.  
1 cuarto = 2 pintas



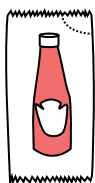
**Galón**

Un galón es la cantidad que viene en un recipiente de plástico grande.  
1 galón = 4 cuartos



1. \_\_\_\_\_
2. \_\_\_\_\_
3. \_\_\_\_\_
4. \_\_\_\_\_
5. \_\_\_\_\_
6. \_\_\_\_\_
7. \_\_\_\_\_
8. \_\_\_\_\_
9. \_\_\_\_\_


1)



Кетчуп в пачке

- A. 1.5 пинты
- B. 2 кварты
- C. 0.5 галлоны
- D. меньше, чем 1 чаши

2)



Ледяной сундук

- A. 2 кварты
- B. 16 чаши
- C. 100 кварты
- D. 5 галлоны


3)



Песок в ведре

- A. 1 чаши
- B. 1 галлоны
- C. 32 галлоны
- D. 7 жидкие унции

4)



Вода в бочке

- A. 20 чаши
- B. 3 дюймов
- C. 50 галлоны
- D. 10 пинты

5)



Чаша для хлопьев

- A. 4 пинты
- B. 0.5 галлоны
- C. 1 пинты
- D. 2 галлоны

6)



2 литра газировки

- A. 5 галлоны
- B. 0.5 галлоны
- C. 2 чаши
- D. 1 пинты

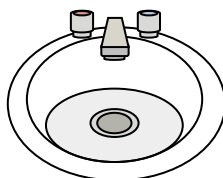
7)



Чернила в ручке

- A. 2 пинты
- B. 1 галлоны
- C. меньше, чем 1 чаши
- D. 1 кварты

8)



Вода в раковине в ванной

- A. 2 чаши
- B. 2 галлоны
- C. 2 пинты
- D. 2 жидкие унции

9)



Жидкость в ложке

- A. 1 кварты
- B. 1 чаши
- C. 1 пинты
- D. Less than a cup



Определите под какой буквой объем представлен наиболее верно.

**ОТВЕТЫ**

**Xícara**

Una taza se refiere a la cantidad de leche que se obtiene de la cafetería.



**Pinta**

Uma pinta é aproximadamente a quantidade que você recebe em um copo grande.  
1 pinta = 2 xícaras



**Quarto**

Um quarto é mais ou menos a quantidade que você consegue em um recipiente grande de leite.  
1 cuarto = 2 pintas



**Galón**

Un galón es la cantidad que viene en un recipiente de plástico grande.  
1 galón = 4 cuartos



1.     **D**    

2.     **C**    

3.     **B**    

4.     **C**    

5.     **C**    

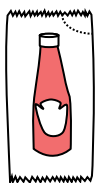
6.     **B**    

7.     **C**    

8.     **B**    

9.     **D**    


1)



Кетчуп в пачке

- A. 1.5 пинты
- B. 2 кварты
- C. 0.5 галлоны
- D. меньше, чем 1 чаши

2)



Ледяной сундук

- A. 2 кварты
- B. 16 чаши
- C. 100 кварты
- D. 5 галлоны


3)



Песок в ведре

- A. 1 чаши
- B. 1 галлоны
- C. 32 галлоны
- D. 7 жидкие унции

4)



Вода в бочке

- A. 20 чаши
- B. 3 дюймов
- C. 50 галлоны
- D. 10 пинты

5)



Чаша для хлопьев

- A. 4 пинты
- B. 0.5 галлоны
- C. 1 пинты
- D. 2 галлоны

6)



2 литра газировки

- A. 5 галлоны
- B. 0.5 галлоны
- C. 2 чаши
- D. 1 пинты

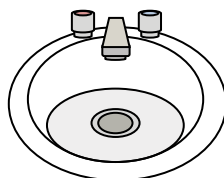
7)



Чернила в ручке

- A. 2 пинты
- B. 1 галлоны
- C. меньше, чем 1 чаши
- D. 1 кварты

8)



Вода в раковине в ванной

- A. 2 чаши
- B. 2 галлоны
- C. 2 пинты
- D. 2 жидкие унции

9)



Жидкость в ложке

- A. 1 кварты
- B. 1 чаши
- C. 1 пинты
- D. Less than a cup