



Определите под какой буквой объем представлен наиболее верно.

**ОТВЕТЫ**

**Xícara**

Una taza se refiere a la cantidad de leche que se obtiene de la cafetería.



**Pinta**

Uma pinta é aproximadamente a quantidade que você recebe em um copo grande.  
1 pinta = 2 xícaras



**Quarto**

Um quarto é mais ou menos a quantidade que você consegue em um recipiente grande de leite.  
1 cuarto = 2 pintas




**Galón**


Un galón es la cantidad que viene en un recipiente de plástico grande.  
1 galón = 4 cuartos



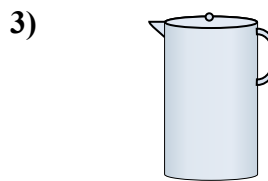
1. \_\_\_\_\_
2. \_\_\_\_\_
3. \_\_\_\_\_
4. \_\_\_\_\_
5. \_\_\_\_\_
6. \_\_\_\_\_
7. \_\_\_\_\_
8. \_\_\_\_\_
9. \_\_\_\_\_



Ванна  
A. 40 чаши  
B. 8 кварталы  
C. 20 пинты  
D. 45 галлоны



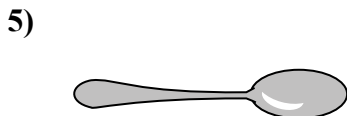
Пипетка держит  
A. 1 пинты  
B. 3 галлоны  
C. меньше, чем 1 чаши  
D. 1 чаши



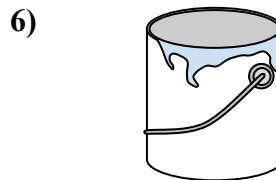
Жидкость в кувшине  
A. 2 чаши  
B. 1 пинты  
C. 2 кварталы  
D. 8 галлоны



Чаша для хлопьев  
A. 0.5 галлоны  
B. 4 пинты  
C. 2 галлоны  
D. 1 пинты



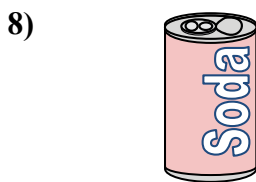
Жидкость в ложке  
A. Less than a cup  
B. 1 чаши  
C. 1 пинты  
D. 1 кварталы



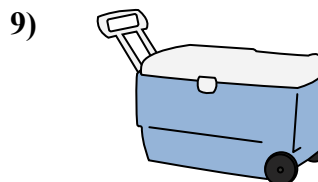
Краска в банке  
A. 3 жидкие унции  
B. 1 галлоны  
C. 1 чаши  
D. 0.5 пинты



2 литра газировки  
A. 0.5 галлоны  
B. 5 галлоны  
C. 1 пинты  
D. 2 чаши



газировка в банке  
A. 4 чаши  
B. 1.5 чаши  
C. 4 пинты  
D. 1 галлоны



Ледяной сундук  
A. 100 кварталы  
B. 16 чаши  
C. 5 галлоны  
D. 2 кварталы



Определите под какой буквой объем представлен наиболее верно.

**ОТВЕТЫ**

**Xicara**

Una taza se refiere a la cantidad de leche que se obtiene de la cafetería.



**Pinta**

Uma pinta é aproximadamente a quantidade que você recebe em um copo grande.  
1 pinta = 2 xícaras



**Quarto**

Um quarto é mais ou menos a quantidade que você consegue em um recipiente grande de leite.  
1 cuarto = 2 pintas



**Galón**

Un galón es la cantidad que viene en un recipiente de plástico grande.  
1 galón = 4 cuartos



1. D

2. C

3. C

4. D

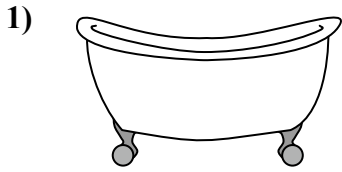
5. A

6. B

7. A


8. B

9. A



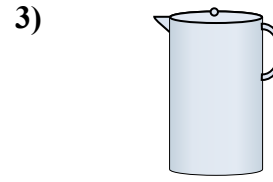
Ванна

- A. 40 чаши
- B. 8 кварталы
- C. 20 пинты
- D. 45 галлоны




Пипетка держит

- A. 1 пинты
- B. 3 галлоны
- C. меньше, чем 1 чаши
- D. 1 чаши



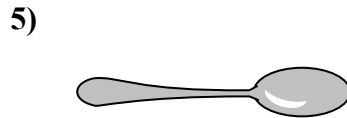
Жидкость в кувшине

- A. 2 чаши
- B. 1 пинты
- C. 2 кварталы
- D. 8 галлоны



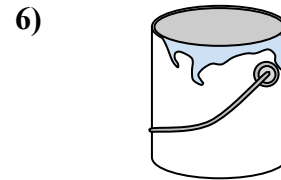
Чаша для хлопьев

- A. 0.5 галлоны
- B. 4 пинты
- C. 2 галлоны
- D. 1 пинты



Жидкость в ложке

- A. Less than a cup
- B. 1 чаши
- C. 1 пинты
- D. 1 кварталы



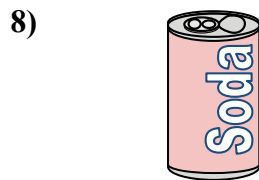
Краска в банке

- A. 3 жидкие унции
- B. 1 галлоны
- C. 1 чаши
- D. 0.5 пинты



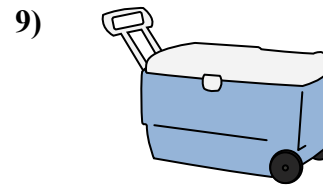
2 литра газировки

- A. 0.5 галлоны
- B. 5 галлоны
- C. 1 пинты
- D. 2 чаши



газировка в банке

- A. 4 чаши
- B. 1.5 чаши
- C. 4 пинты
- D. 1 галлоны



Ледяной сундук

- A. 100 кварталы
- B. 16 чаши
- C. 5 галлоны
- D. 2 кварталы