



Определите под какой буквой объем представлен наиболее верно.

**ОТВЕТЫ**

**Xicara**

Una taza se refiere a la cantidad de leche que se obtiene de la cafetería.



**Pinta**

Uma pinta é aproximadamente a quantidade que você recebe em um copo grande.  
1 pinta = 2 xícaras



**Quarto**

Um quarto é mais ou menos a quantidade que você consegue em um recipiente grande de leite.  
1 cuarto = 2 pintas



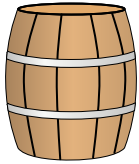
**Galón**

Un galón es la cantidad que viene en un recipiente de plástico grande.  
1 galón = 4 cuartos



1. \_\_\_\_\_
2. \_\_\_\_\_
3. \_\_\_\_\_
4. \_\_\_\_\_
5. \_\_\_\_\_
6. \_\_\_\_\_
7. \_\_\_\_\_
8. \_\_\_\_\_
9. \_\_\_\_\_

1)



Вода в бочке

- A. 50 галлоны
- B. 20 чаши
- C. 3 дюймов
- D. 10 пинты

2)



газировка в банке

- A. 4 чаши
- B. 1 галлоны
- C. 4 пинты
- D. 1.5 чаши

3)



Мука в пачке печенья

- A. 5 галлоны
- B. 2 кварталы
- C. 1.5 чаши
- D. 2 галлоны

4)



Песок в ведре

- A. 7 жидкие унции
- B. 1 чаши
- C. 1 галлоны
- D. 32 галлоны

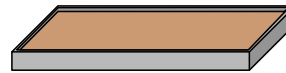
5)



Измерительная чашка

- A. 1 чаши
- B. 1 галлоны
- C. 1 кварталы
- D. 1 пинты


6)



Мука на сковороде с пирожными

- A. 3 галлоны
- B. 2 чаши
- C. 8 галлоны
- D. 16 кварталы

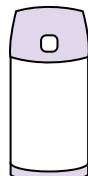
7)



Отшлифуйте тачку

- A. 8 кварталы
- B. 45 галлоны
- C. 1000 граммов(ма)
- D. 4 чаши

8)



Жидкость в термосе

- A. 1 чаши
- B. 1 галлоны
- C. 2 фунтов(та)
- D. 4 кварталы

9)



Вода для комнатного растения

- A. 3 галлоны
- B. 6 кварталы
- C. 4 фунтов(та)
- D. 2 чаши



Определите под какой буквой объем представлен наиболее верно.

**ОТВЕТЫ**

**Xícara**

Una taza se refiere a la cantidad de leche que se obtiene de la cafetería.



**Pinta**

Uma pinta é aproximadamente a quantidade que você recebe em um copo grande.  
1 pinta = 2 xícaras



**Quarto**

Um quarto é mais ou menos a quantidade que você consegue em um recipiente grande de leite.  
1 cuarto = 2 pintas




**Galón**

Un galón es la cantidad que viene en un recipiente de plástico grande.  
1 galón = 4 cuartos




1)



Вода в бочке

- A. 50 галлоны
- B. 20 чаши
- C. 3 дюймов
- D. 10 пинты

2)



газировка в банке

- A. 4 чаши
- B. 1 галлоны
- C. 4 пинты
- D. 1.5 чаши

3)



Мука в пачке печенья

- A. 5 галлоны
- B. 2 кварталы
- C. 1.5 чаши
- D. 2 галлоны

4)



Песок в ведре

- A. 7 жидкие унции
- B. 1 чаши
- C. 1 галлоны
- D. 32 галлоны

5)



Измерительная чашка

- A. 1 чаши
- B. 1 галлоны
- C. 1 кварталы
- D. 1 пинты


6)



Мука на сковороде с пирожными

- A. 3 галлоны
- B. 2 чаши
- C. 8 галлоны
- D. 16 кварталы

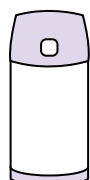
7)



Отшлифуйте тачку

- A. 8 кварталы
- B. 45 галлоны
- C. 1000 граммов(ма)
- D. 4 чаши

8)



Жидкость в термосе

- A. 1 чаши
- B. 1 галлоны
- C. 2 фунтов(та)
- D. 4 кварталы

9)



Вода для комнатного растения

- A. 3 галлоны
- B. 6 кварталы
- C. 4 фунтов(та)
- D. 2 чаши

- 1.   A
- 2.   D
- 3.   C
- 4.   C
- 5.   A
- 6.   B
- 7.   B
- 8.   A
- 9.   D