



Определите под какой буквой объем представлен наиболее верно.

**ОТВЕТЫ**

**Xícara**

Una taza se refiere a la cantidad de leche que se obtiene de la cafetería.



**Pinta**

Uma pinta é aproximadamente a quantidade que você recebe em um copo grande.  
1 pinta = 2 xícaras



**Quarto**

Um quarto é mais ou menos a quantidade que você consegue em um recipiente grande de leite.  
1 cuarto = 2 pintas



**Galón**

Un galón es la cantidad que viene en un recipiente de plástico grande.  
1 galón = 4 cuartos



1. \_\_\_\_\_
2. \_\_\_\_\_
3. \_\_\_\_\_
4. \_\_\_\_\_
5. \_\_\_\_\_
6. \_\_\_\_\_
7. \_\_\_\_\_
8. \_\_\_\_\_
9. \_\_\_\_\_

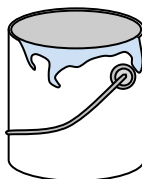
1)



Зубная паста в тюбике

- A. 0.5 чаши
- B. 0.5 галлоны
- C. 5 кварта
- D. 5 граммов(ма)

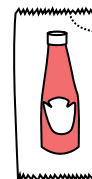
2)



Краска в банке

- A. 0.5 пинты
- B. 3 жидкие унции
- C. 1 галлоны
- D. 1 чаши

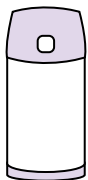
3)



Кетчуп в пачке

- A. 2 кварта
- B. меньше, чем 1 чаши
- C. 1.5 пинты
- D. 0.5 галлоны

4)



Жидкость в термосе

- A. 1 галлоны
- B. 1 чаши
- C. 2 фунтов(та)
- D. 4 кварта

5)



Шампунь во флаконе

- A. 2 пинты
- B. 0.5 галлоны
- C. 100 чаши
- D. 1 чаши

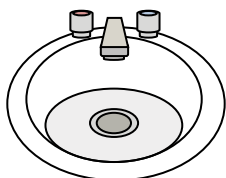
6)



Клей в бутылке

- A. 0.5 чаши
- B. 2 кварта
- C. 1 пинты
- D. 3 галлоны

7)



Вода в раковине в ванной

- A. 2 галлоны
- B. 2 жидкие унции
- C. 2 пинты
- D. 2 чаши


8)



Жидкость в чайной чашке

- A. 1 чаши
- B. 1 галлоны
- C. 1 кварта
- D. 1 пинты

9)



Отшлифуйте тачку

- A. 45 галлоны
- B. 1000 граммов(ма)
- C. 4 чаши
- D. 8 кварта



Определите под какой буквой объем представлен наиболее верно.

**ОТВЕТЫ**

**Xícara**

Una taza se refiere a la cantidad de leche que se obtiene de la cafetería.



**Pinta**

Uma pinta é aproximadamente a quantidade que você recebe em um copo grande.  
1 pinta = 2 xícaras



**Quarto**

Um quarto é mais ou menos a quantidade que você consegue em um recipiente grande de leite.  
1 cuarto = 2 pintas



**Galón**

Un galón es la cantidad que viene en un recipiente de plástico grande.  
1 galón = 4 cuartos



1.     A    

2.     C    

3.     B    

4.     B    

5.     A    

6.     A    

7.     A    

8.     A    

9.     A    


1)



Зубная паста в тюбике

- A. 0.5 чаши
- B. 0.5 галлоны
- C. 5 кварты
- D. 5 граммов(ма)

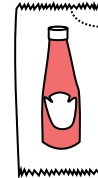
2)



Краска в банке

- A. 0.5 пинты
- B. 3 жидкие унции
- C. 1 галлоны
- D. 1 чаши

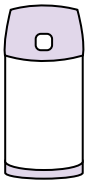
3)



Кетчуп в пачке

- A. 2 кварты
- B. меньше, чем 1 чаши
- C. 1.5 пинты
- D. 0.5 галлоны

4)



Жидкость в термосе

- A. 1 галлоны
- B. 1 чаши
- C. 2 фунтов(та)
- D. 4 кварты

5)



Шампунь во флаконе

- A. 2 пинты
- B. 0.5 галлоны
- C. 100 чаши
- D. 1 чаши

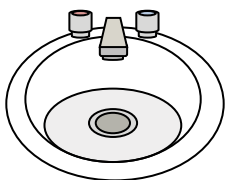
6)



Клей в бутылке

- A. 0.5 чаши
- B. 2 кварты
- C. 1 пинты
- D. 3 галлоны

7)



Вода в раковине в ванной

- A. 2 галлоны
- B. 2 жидкие унции
- C. 2 пинты
- D. 2 чаши


8)



Жидкость в чайной чашке

- A. 1 чаши
- B. 1 галлоны
- C. 1 кварты
- D. 1 пинты

9)



Отшлифуйте тачку

- A. 45 галлоны
- B. 1000 граммов(ма)
- C. 4 чаши
- D. 8 кварты