



Определите под какой буквой объем представлен наиболее верно.

ОТВЕТЫ

Xícara

Una taza se refiere a la cantidad de leche que se obtiene de la cafetería.



Pinta

Uma pinta é aproximadamente a quantidade que você recebe em um copo grande.
1 pinta = 2 xícaras



Quarto

Um quarto é mais ou menos a quantidade que você consegue em um recipiente grande de leite.
1 cuarto = 2 pintas



Galón

Un galón es la cantidad que viene en un recipiente de plástico grande.
1 galón = 4 cuartos



1. _____
2. _____
3. _____
4. _____
5. _____
6. _____
7. _____
8. _____
9. _____


1)



Вода для комнатного растения

- A. 3 галлоны
- B. 2 чаши
- C. 6 кварта
- D. 4 фунтов(та)

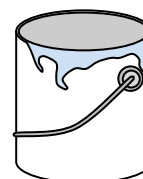
2)



Вода в бочке

- A. 20 чаши
- B. 50 галлоны
- C. 3 дюймов
- D. 10 пинты

3)



Краска в банке

- A. 3 жидкие унции
- B. 1 чаши
- C. 1 галлоны
- D. 0.5 пинты

4)



Чернила в ручке

- A. 1 кварта
- B. меньше, чем 1 чаши
- C. 1 галлоны
- D. 2 пинты


5)



Чаша для хлопьев

- A. 2 галлоны
- B. 1 пинты
- C. 4 пинты
- D. 0.5 галлоны

6)



Жидкость в термосе

- A. 2 фунтов(та)
- B. 4 кварта
- C. 1 галлоны
- D. 1 чаши

7)



Жидкость в чайной чашке

- A. 1 пинты
- B. 1 кварта
- C. 1 чаши
- D. 1 галлоны


8)



Мука в пачке печенья

- A. 2 кварта
- B. 1.5 чаши
- C. 2 галлоны
- D. 5 галлоны

9)



Жидкость в кувшине

- A. 1 пинты
- B. 2 кварта
- C. 8 галлоны
- D. 2 чаши



Определите под какой буквой объем представлен наиболее верно.

ОТВЕТЫ

Xícara

Una taza se refiere a la cantidad de leche que se obtiene de la cafetería.



Pinta

Uma pinta é aproximadamente a quantidade que você recebe em um copo grande.
1 pinta = 2 xícaras



Quarto

Um quarto é mais ou menos a quantidade que você consegue em um recipiente grande de leite.
1 cuarto = 2 pintas



Galón

Un galón es la cantidad que viene en un recipiente de plástico grande.
1 galón = 4 cuartos



1. B

2. B

3. C

4. B

5. B

6. D

7. C

8. B

9. B


1)



Вода для комнатного растения

- A. 3 галлоны
- B. 2 чаши
- C. 6 кварта
- D. 4 фунтов(та)

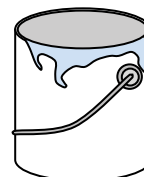
2)



Вода в бочке

- A. 20 чаши
- B. 50 галлоны
- C. 3 дюймов
- D. 10 пинты

3)



Краска в банке

- A. 3 жидкие унции
- B. 1 чаши
- C. 1 галлоны
- D. 0.5 пинты

4)



Чернила в ручке

- A. 1 кварта
- B. меньше, чем 1 чаши
- C. 1 галлоны
- D. 2 пинты


5)



Чаша для хлопьев

- A. 2 галлоны
- B. 1 пинты
- C. 4 пинты
- D. 0.5 галлоны

6)



Жидкость в термосе

- A. 2 фунтов(та)
- B. 4 кварта
- C. 1 галлоны
- D. 1 чаши

7)



Жидкость в чайной чашке

- A. 1 пинты
- B. 1 кварта
- C. 1 чаши
- D. 1 галлоны


8)



Мука в пачке печенья

- A. 2 кварта
- B. 1.5 чаши
- C. 2 галлоны
- D. 5 галлоны

9)



Жидкость в кувшине

- A. 1 пинты
- B. 2 кварта
- C. 8 галлоны
- D. 2 чаши