



Определите под какой буквой объем представлен наиболее верно.

ОТВЕТЫ

Xícara

Una taza se refiere a la cantidad de leche que se obtiene de la cafetería.



Pinta

Uma pinta é aproximadamente a quantidade que você recebe em um copo grande.
1 pinta = 2 xícaras



Quarto

Um quarto é mais ou menos a quantidade que você consegue em um recipiente grande de leite.
1 cuarto = 2 pintas




Galón

Un galón es la cantidad que viene en un recipiente de plástico grande.
1 galón = 4 cuartos



1. _____
2. _____
3. _____
4. _____
5. _____
6. _____
7. _____
8. _____
9. _____

1)



Бензобак в машине

- A. 16 чаш
- B. 4 пинты
- C. 3 кварты
- D. 15 галлоны

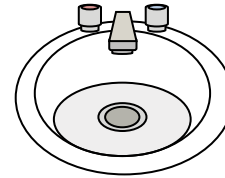
2)



Зубная паста в тюбике

- A. 0.5 галлоны
- B. 5 граммов(ма)
- C. 5 кварты
- D. 0.5 чаш

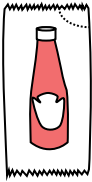
3)



Вода в раковине в ванной

- A. 2 пинты
- B. 2 жидкие унции
- C. 2 галлоны
- D. 2 чаш

4)



Кетчуп в пачке

- A. 2 кварты
- B. 0.5 галлоны
- C. меньше, чем 1 чаш
- D. 1.5 пинты


5)



Клей в бутылке

- A. 1 пинты
- B. 3 галлоны
- C. 0.5 чаш
- D. 2 кварты

6)



Отшлифуйте тачку

- A. 45 галлоны
- B. 1000 граммов(ма)
- C. 8 кварты
- D. 4 чаш

7)



Песок в ведре

- A. 7 жидкие унции
- B. 1 галлоны
- C. 32 галлоны
- D. 1 чаш

8)



Жидкость в ложке

- A. Less than a cup
- B. 1 чаш
- C. 1 пинты
- D. 1 кварты

9)



газировка в банке

- A. 1 галлоны
- B. 1.5 чаш
- C. 4 чаш
- D. 4 пинты



Определите под какой буквой объем представлен наиболее верно.

ОТВЕТЫ

Xícara

Una taza se refiere a la cantidad de leche que se obtiene de la cafetería.



Pinta

Uma pinta é aproximadamente a quantidade que você recebe em um copo grande.
1 pinta = 2 xícaras



Quarto

Um quarto é mais ou menos a quantidade que você consegue em um recipiente grande de leite.
1 cuarto = 2 pintas




Galón

Un galón es la cantidad que viene en un recipiente de plástico grande.
1 galón = 4 cuartos



1)



Бензобак в машине

- A. 16 чаш
- B. 4 пинты
- C. 3 кварты
- D. 15 галлоны

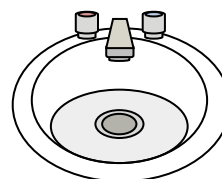
2)



Зубная паста в тубике

- A. 0.5 галлоны
- B. 5 граммов(ма)
- C. 5 кварты
- D. 0.5 чаш

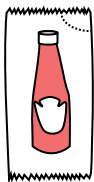
3)



Вода в раковине в ванной

- A. 2 пинты
- B. 2 жидкие унции
- C. 2 галлоны
- D. 2 чаш

4)



Кетчуп в пачке

- A. 2 кварты
- B. 0.5 галлоны
- C. меньше, чем 1 чаш
- D. 1.5 пинты


5)



Клей в бутылке

- A. 1 пинты
- B. 3 галлоны
- C. 0.5 чаш
- D. 2 кварты

6)



Отшлифуйте тачку

- A. 45 галлоны
- B. 1000 граммов(ма)
- C. 8 кварты
- D. 4 чаш

7)



Песок в ведре

- A. 7 жидкие унции
- B. 1 галлоны
- C. 32 галлоны
- D. 1 чаш

8)



Жидкость в ложке

- A. Less than a cup
- B. 1 чаш
- C. 1 пинты
- D. 1 кварты

9)



газировка в банке

- A. 1 галлоны
- B. 1.5 чаш
- C. 4 чаш
- D. 4 пинты

1. **D**
2. **D**
3. **C**
4. **C**
5. **C**
6. **A**
7. **B**
8. **A**
9. **B**