



Определите под какой буквой объем представлен наиболее верно.

ОТВЕТЫ

Xicara

Una taza se refiere a la cantidad de leche que se obtiene de la cafetería.



Pinta

Uma pinta é aproximadamente a quantidade que você recebe em um copo grande.
1 pinta = 2 xícaras



Quarto

Um quarto é mais ou menos a quantidade que você consegue em um recipiente grande de leite.
1 cuarto = 2 pintas



Galón

Un galón es la cantidad que viene en un recipiente de plástico grande.
1 galón = 4 cuartos



1. _____
2. _____
3. _____
4. _____
5. _____
6. _____
7. _____
8. _____
9. _____


1)



Клей в бутылке

- A. 1 пинты
- B. 3 галлоны
- C. 2 кварты
- D. 0.5 чаши


2)



Отшлифуйте тачку

- A. 8 кварты
- B. 45 галлоны
- C. 4 чаши
- D. 1000 граммов(ма)

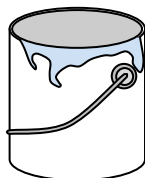
3)



Ледяной сундук

- A. 16 чаши
- B. 2 кварты
- C. 100 кварты
- D. 5 галлоны

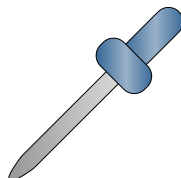
4)



Краска в банке

- A. 3 жидкие унции
- B. 1 чаши
- C. 0.5 пинты
- D. 1 галлоны

5)



Пипетка держит

- A. 3 галлоны
- B. 1 пинты
- C. меньше, чем 1 чаши
- D. 1 чаши

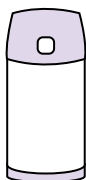
6)



Зубная паста в тюбике

- A. 0.5 чаши
- B. 5 граммов(ма)
- C. 5 кварты
- D. 0.5 галлоны

7)



Жидкость в термосе

- A. 1 галлоны
- B. 1 чаши
- C. 4 кварты
- D. 2 фунтов(та)


8)



Песок в ведре

- A. 32 галлоны
- B. 1 чаши
- C. 1 галлоны
- D. 7 жидкие унции

9)



Ванна

- A. 20 пинты
- B. 45 галлоны
- C. 40 чаши
- D. 8 кварты



Определите под какой буквой объем представлен наиболее верно.

ОТВЕТЫ

Xicara

Una taza se refiere a la cantidad de leche que se obtiene de la cafetería.



Pinta

Uma pinta é aproximadamente a quantidade que você recebe em um copo grande.
1 pinta = 2 xícaras



Quarto

Um quarto é mais ou menos a quantidade que você consegue em um recipiente grande de leite.
1 cuarto = 2 pintas



Galón

Un galón es la cantidad que viene en un recipiente de plástico grande.
1 galón = 4 cuartos




1)



Клей в бутылке

- A. 1 пинты
- B. 3 галлоны
- C. 2 кварты
- D. 0.5 чаши


2)



Отшлифуйте тачку

- A. 8 кварты
- B. 45 галлоны
- C. 4 чаши
- D. 1000 граммов(ма)

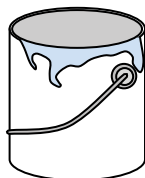
3)



Ледяной сундук

- A. 16 чаши
- B. 2 кварты
- C. 100 кварты
- D. 5 галлоны

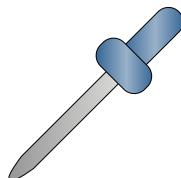
4)



Краска в банке

- A. 3 жидкие унции
- B. 1 чаши
- C. 0.5 пинты
- D. 1 галлоны

5)



Пипетка держит

- A. 3 галлоны
- B. 1 пинты
- C. меньше, чем 1 чаши
- D. 1 чаши

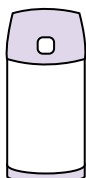
6)



Зубная паста в тюбике

- A. 0.5 чаши
- B. 5 граммов(ма)
- C. 5 кварты
- D. 0.5 галлоны

7)



Жидкость в термосе

- A. 1 галлоны
- B. 1 чаши
- C. 4 кварты
- D. 2 фунтов(та)

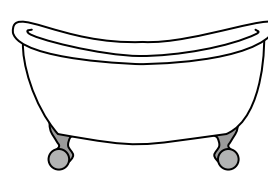
8)



Песок в ведре

- A. 32 галлоны
- B. 1 чаши
- C. 1 галлоны
- D. 7 жидкие унции

9)



Ванна

- A. 20 пинты
- B. 45 галлоны
- C. 40 чаши
- D. 8 кварты

1. D

2. B

3. C

4. D

5. C

6. A

7. B

8. C

9. B