



Определите под какой буквой объем представлен наиболее верно.

ОТВЕТЫ

Xícara

Una taza se refiere a la cantidad de leche que se obtiene de la cafetería.



Pinta

Uma pinta é aproximadamente a quantidade que você recebe em um copo grande.
1 pinta = 2 xícaras



Quarto

Um quarto é mais ou menos a quantidade que você consegue em um recipiente grande de leite.
1 cuarto = 2 pintas



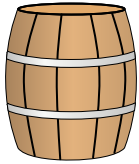
Galón

Un galón es la cantidad que viene en un recipiente de plástico grande.
1 galón = 4 cuartos




1. _____
2. _____
3. _____
4. _____
5. _____
6. _____
7. _____
8. _____
9. _____

1)




Вода в бочке
A. 20 чаши
B. 10 пинты
C. 3 дюймов
D. 50 галлоны

2)



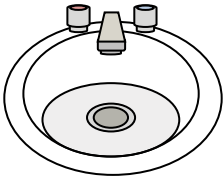
Бензобак в машине
A. 3 кварты
B. 4 пинты
C. 15 галлоны
D. 16 чаши

3)




Отшлифуйте тачку
A. 8 кварты
B. 45 галлоны
C. 1000 граммов(ма)
D. 4 чаши

4)



Вода в раковине в ванной
A. 2 жидкие унции
B. 2 галлоны
C. 2 чаши
D. 2 пинты

5)




Жидкость в термосе
A. 1 чаши
B. 1 галлоны
C. 2 фунтов(та)
D. 4 кварты

6)



Жидкость в ложке
A. 1 чаши
B. Less than a cup
C. 1 пинты
D. 1 кварты

7)



Жидкость в кувшине
A. 1 пинты
B. 2 кварты
C. 2 чаши
D. 8 галлоны

8)



Чернила в ручке
A. 1 галлоны
B. 2 пинты
C. меньше, чем 1 чаши
D. 1 кварты

9)



газировка в банке
A. 4 чаши
B. 1.5 чаши
C. 4 пинты
D. 1 галлоны



Определите под какой буквой объем представлен наиболее верно.

ОТВЕТЫ

Xícara

Una taza se refiere a la cantidad de leche que se obtiene de la cafetería.



Pinta

Uma pinta é aproximadamente a quantidade que você recebe em um copo grande.
1 pinta = 2 xícaras



Quarto

Um quarto é mais ou menos a quantidade que você consegue em um recipiente grande de leite.
1 cuarto = 2 pintas

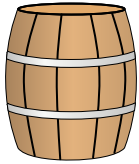


Galón

Un galón es la cantidad que viene en un recipiente de plástico grande.
1 galón = 4 cuartos




1)




Вода в бочке
A. 20 чаши
B. 10 пинты
C. 3 дюймов
D. 50 галлоны

2)



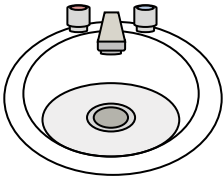
Бензобак в машине
A. 3 кварты
B. 4 пинты
C. 15 галлоны
D. 16 чаши

3)



Отшлифуйте тачку
A. 8 кварты
B. 45 галлоны
C. 1000 граммов(ма)
D. 4 чаши

4)



Вода в раковине в ванной
A. 2 жидкие унции
B. 2 галлоны
C. 2 чаши
D. 2 пинты

5)




Жидкость в термосе
A. 1 чаши
B. 1 галлоны
C. 2 фунтов(та)
D. 4 кварты

6)



Жидкость в ложке
A. 1 чаши
B. Less than a cup
C. 1 пинты
D. 1 кварты

7)



Жидкость в кувшине
A. 1 пинты
B. 2 кварты
C. 2 чаши
D. 8 галлоны

8)



Чернила в ручке
A. 1 галлоны
B. 2 пинты
C. меньше, чем 1 чаши
D. 1 кварты

9)



газировка в банке
A. 4 чаши
B. 1.5 чаши
C. 4 пинты
D. 1 галлоны

1. **D**
2. **C**
3. **B**
4. **B**
5. **A**
6. **B**
7. **B**
8. **C**
9. **B**