



Определите под какой буквой объем представлен наиболее верно.

ОТВЕТЫ

Xícara

Una taza se refiere a la cantidad de leche que se obtiene de la cafetería.



Pinta

Uma pinta é aproximadamente a quantidade que você recebe em um copo grande.
1 pinta = 2 xícaras



Quarto

Um quarto é mais ou menos a quantidade que você consegue em um recipiente grande de leite.
1 cuarto = 2 pintas

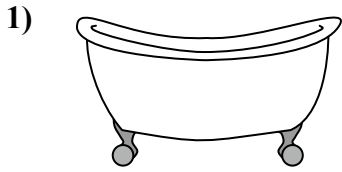


Galón

Un galón es la cantidad que viene en un recipiente de plástico grande.
1 galón = 4 cuartos



1. _____
2. _____
3. _____
4. _____
5. _____
6. _____
7. _____
8. _____
9. _____




Ванна

- A. 40 чаши
- B. 20 пинты
- C. 45 галлоны
- D. 8 кварта



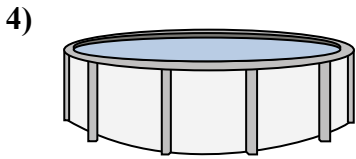
Песок в ведре

- A. 32 галлоны
- B. 1 галлоны
- C. 1 чаши
- D. 7 жидкие унции



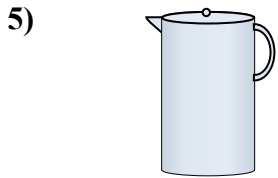
Пипетка держит

- A. 3 галлоны
- B. 1 чаши
- C. меньше, чем 1 чаши
- D. 1 пинты



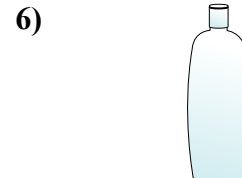
Вода в бассейне

- A. 5000 футов
- B. 25 чаши
- C. 20 галлоны
- D. 3000 галлоны



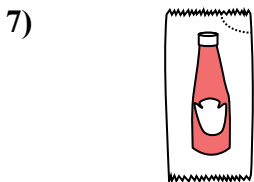
Жидкость в кувшине

- A. 1 пинты
- B. 8 галлоны
- C. 2 чаши
- D. 2 кварта



Шампунь во флаконе

- A. 0.5 галлоны
- B. 100 чаши
- C. 1 чаши
- D. 2 пинты



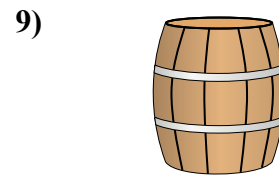
Кетчуп в пачке

- A. 0.5 галлоны
- B. 1.5 пинты
- C. меньше, чем 1 чаши
- D. 2 кварта



Вода для комнатного растения

- A. 6 кварта
- B. 4 фунтов(та)
- C. 2 чаши
- D. 3 галлоны



Вода в бочке

- A. 3 дюймов
- B. 10 пинты
- C. 20 чаши
- D. 50 галлоны



Определите под какой буквой объем представлен наиболее верно.

ОТВЕТЫ

Xícara

Una taza se refiere a la cantidad de leche que se obtiene de la cafetería.



Pinta

Uma pinta é aproximadamente a quantidade que você recebe em um copo grande.
1 pinta = 2 xícaras



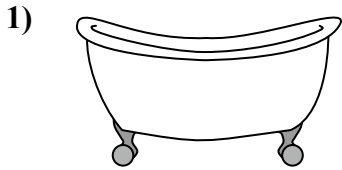
Quarto

Um quarto é mais ou menos a quantidade que você consegue em um recipiente grande de leite.
1 cuarto = 2 pintas



Galón

Un galón es la cantidad que viene en un recipiente de plástico grande.
1 galón = 4 cuartos




Ванна

- A. 40 чаши
- B. 20 пинты
- C. 45 галлоны
- D. 8 кварта



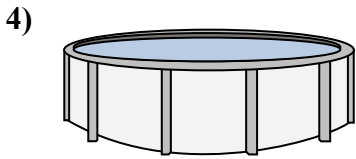
Песок в ведре

- A. 32 галлоны
- B. 1 галлоны
- C. 1 чаши
- D. 7 жидкие унции



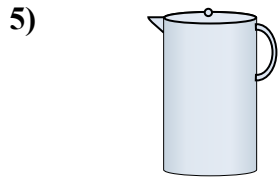
Пипетка держит

- A. 3 галлоны
- B. 1 чаши
- C. меньше, чем 1 чаши
- D. 1 пинты



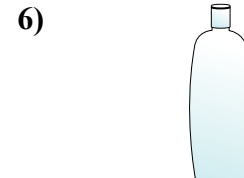
Вода в бассейне

- A. 5000 футов
- B. 25 чаши
- C. 20 галлоны
- D. 3000 галлоны



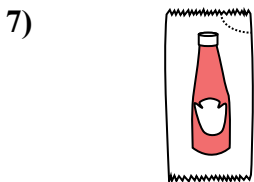
Жидкость в кувшине

- A. 1 пинты
- B. 8 галлоны
- C. 2 чаши
- D. 2 кварта



Шампунь во флаконе

- A. 0.5 галлоны
- B. 100 чаши
- C. 1 чаши
- D. 2 пинты



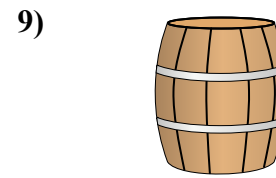
Кетчуп в пачке

- A. 0.5 галлоны
- B. 1.5 пинты
- C. меньше, чем 1 чаши
- D. 2 кварта



Вода для комнатного растения

- A. 6 кварта
- B. 4 фунтов(та)
- C. 2 чаши
- D. 3 галлоны



Вода в бочке

- A. 3 дюймов
- B. 10 пинты
- C. 20 чаши
- D. 50 галлоны

- 1. C
- 2. B
- 3. C
- 4. D
- 5. D
- 6. D
- 7. C
- 8. C
- 9. D