



Определите под какой буквой объем представлен наиболее верно.

ОТВЕТЫ

Xícara

Una taza se refiere a la cantidad de leche que se obtiene de la cafetería.



Pinta

Uma pinta é aproximadamente a quantidade que você recebe em um copo grande.
1 pinta = 2 xícaras



Quarto

Um quarto é mais ou menos a quantidade que você consegue em um recipiente grande de leite.
1 cuarto = 2 pintas



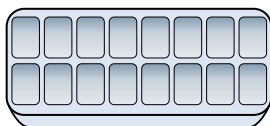
Galón

Un galón es la cantidad que viene en un recipiente de plástico grande.
1 galón = 4 cuartos



1. _____
2. _____
3. _____
4. _____
5. _____
6. _____
7. _____
8. _____
9. _____

1)



Вода в лотке для льда

- A. 10 галлоны
- B. 1 пинты
- C. 4 пинты
- D. 1 галлоны

2)



газировка в банке

- A. 1.5 чаши
- B. 4 чаши
- C. 4 пинты
- D. 1 галлоны


3)



Измерительная чашка

- A. 1 кварта
- B. 1 пинты
- C. 1 галлоны
- D. 1 чаши


4)



Отшлифуйте тачку

- A. 4 чаши
- B. 1000 граммов(ма)
- C. 45 галлоны
- D. 8 кварта


5)



Бензобак в машине

- A. 16 чаши
- B. 4 пинты
- C. 15 галлоны
- D. 3 кварта

6)



Пипетка держит

- A. меньше, чем 1 чаши
- B. 1 чаши
- C. 3 галлоны
- D. 1 пинты

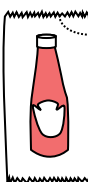
7)



2 литра газировки

- A. 2 чаши
- B. 1 пинты
- C. 0.5 галлоны
- D. 5 галлоны

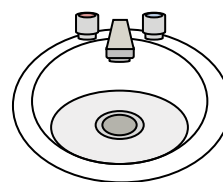
8)



Кетчуп в пачке

- A. 0.5 галлоны
- B. меньше, чем 1 чаши
- C. 1.5 пинты
- D. 2 кварта

9)



Вода в раковине в ванной

- A. 2 чаши
- B. 2 галлоны
- C. 2 пинты
- D. 2 жидкие унции



Определите под какой буквой объем представлен наиболее верно.

ОТВЕТЫ

Xícara

Una taza se refiere a la cantidad de leche que se obtiene de la cafetería.



Pinta

Uma pinta é aproximadamente a quantidade que você recebe em um copo grande.
1 pinta = 2 xícaras



Quarto

Um quarto é mais ou menos a quantidade que você consegue em um recipiente grande de leite.
1 cuarto = 2 pintas



Galón

Un galón es la cantidad que viene en un recipiente de plástico grande.
1 galón = 4 cuartos



1. B

2. A

3. D

4. C

5. C

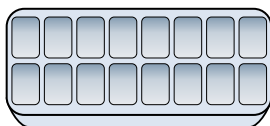
6. A

7. C

8. B

9. B

1)



Вода в лотке для льда

- A. 10 галлоны
- B. 1 пинты
- C. 4 пинты
- D. 1 галлоны

2)



газировка в банке

- A. 1.5 чаши
- B. 4 чаши
- C. 4 пинты
- D. 1 галлоны


3)



Измерительная чашка

- A. 1 кварты
- B. 1 пинты
- C. 1 галлоны
- D. 1 чаши


4)



Отшлифуйте тачку

- A. 4 чаши
- B. 1000 граммов(ма)
- C. 45 галлоны
- D. 8 кварты


5)



Бензобак в машине

- A. 16 чаши
- B. 4 пинты
- C. 15 галлоны
- D. 3 кварты

6)



Пипетка держит

- A. меньше, чем 1 чаши
- B. 1 чаши
- C. 3 галлоны
- D. 1 пинты

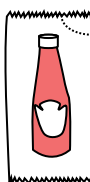
7)



2 литра газировки

- A. 2 чаши
- B. 1 пинты
- C. 0.5 галлоны
- D. 5 галлоны

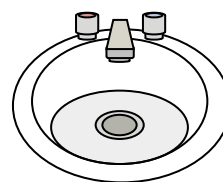
8)



Кетчуп в пачке

- A. 0.5 галлоны
- B. меньше, чем 1 чаши
- C. 1.5 пинты
- D. 2 кварты

9)



Вода в раковине в ванной

- A. 2 чаши
- B. 2 галлоны
- C. 2 пинты
- D. 2 жидкие унции