



Определите под какой буквой объем представлен наиболее верно.

ОТВЕТЫ

Xícara

Una taza se refiere a la cantidad de leche que se obtiene de la cafetería.



Pinta

Uma pinta é aproximadamente a quantidade que você recebe em um copo grande.
1 pinta = 2 xícaras



Quarto

Um quarto é mais ou menos a quantidade que você consegue em um recipiente grande de leite.
1 cuarto = 2 pintas




Galón

Un galón es la cantidad que viene en un recipiente de plástico grande.
1 galón = 4 cuartos



1. _____
2. _____
3. _____
4. _____
5. _____
6. _____
7. _____
8. _____
9. _____


1)



Вода в бочке

- A. 20 чаши
- B. 3 дюймов
- C. 50 галлоны
- D. 10 пинты

2)



Отшлифуйте тачку

- A. 45 галлоны
- B. 1000 граммов(ма)
- C. 8 кварталы
- D. 4 чаши

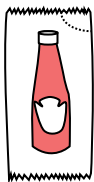
3)



Мука на сковороде с пирожными

- A. 2 чаши
- B. 3 галлоны
- C. 8 галлоны
- D. 16 кварталы

4)



Кетчуп в пакче

- A. меньше, чем 1 чаши
- B. 2 кварталы
- C. 0.5 галлоны
- D. 1.5 пинты


5)



Песок в ведре

- A. 7 жидкие унции
- B. 1 галлоны
- C. 32 галлоны
- D. 1 чаши

6)



Жидкость в кувшине

- A. 2 кварталы
- B. 1 пинты
- C. 8 галлоны
- D. 2 чаши

7)



Зубная паста в тубике

- A. 0.5 чаши
- B. 5 граммов(ма)
- C. 5 кварталы
- D. 0.5 галлоны

8)



2 литра газировки

- A. 0.5 галлоны
- B. 5 галлоны
- C. 1 пинты
- D. 2 чаши

9)



Вода для комнатного растения

- A. 4 фунтов(та)
- B. 2 чаши
- C. 6 кварталы
- D. 3 галлоны



Определите под какой буквой объем представлен наиболее верно.

ОТВЕТЫ

Xícara

Una taza se refiere a la cantidad de leche que se obtiene de la cafetería.



Pinta

Uma pinta é aproximadamente a quantidade que você recebe em um copo grande.
1 pinta = 2 xícaras



Quarto

Um quarto é mais ou menos a quantidade que você consegue em um recipiente grande de leite.
1 cuarto = 2 pintas




Galón

Un galón es la cantidad que viene en un recipiente de plástico grande.
1 galón = 4 cuartos




1)



Вода в бочке

- A. 20 чаши
- B. 3 дюймов
- C. 50 галлоны
- D. 10 пинты

2)



Отшлифуйте тачку

- A. 45 галлоны
- B. 1000 граммов(ма)
- C. 8 кварталы
- D. 4 чаши

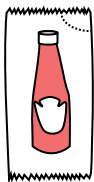
3)



Мука на сковороде с пирожными

- A. 2 чаши
- B. 3 галлоны
- C. 8 галлоны
- D. 16 кварталы

4)



Кетчуп в пачке

- A. меньше, чем 1 чаши
- B. 2 кварталы
- C. 0.5 галлоны
- D. 1.5 пинты


5)



Песок в ведре

- A. 7 жидкие унции
- B. 1 галлоны
- C. 32 галлоны
- D. 1 чаши

6)



Жидкость в кувшине

- A. 2 кварталы
- B. 1 пинты
- C. 8 галлоны
- D. 2 чаши

7)



Зубная паста в тубике

- A. 0.5 чаши
- B. 5 граммов(ма)
- C. 5 кварталы
- D. 0.5 галлоны

8)



2 литра газировки

- A. 0.5 галлоны
- B. 5 галлоны
- C. 1 пинты
- D. 2 чаши

9)



Вода для комнатного растения

- A. 4 фунтов(та)
- B. 2 чаши
- C. 6 кварталы
- D. 3 галлоны

- 1. C
- 2. A
- 3. A
- 4. A
- 5. B
- 6. A
- 7. A
- 8. A
- 9. B