




Определите под какой буквой объем представлен наиболее верно.

**Milliliter**

Un mililitro equivale a unas 20 gotas de agua. Muchas botellas grandes de refrescos tienen 1 o 2 litros.

**Liter**

1 Liter = 1,000 Milliliters

**ОТВЕТЫ**

1. \_\_\_\_\_

2. \_\_\_\_\_

3. \_\_\_\_\_

4. \_\_\_\_\_

5. \_\_\_\_\_

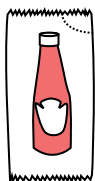
6. \_\_\_\_\_

7. \_\_\_\_\_

8. \_\_\_\_\_

9. \_\_\_\_\_

1)



Кетчуп в пачке

- A. 500 миллилитров(ра)
- B. 1 литров(ра)
- C. 1 milliliter
- D. 50 миллилитров(ра)


2)



Жидкость в ложке

- A. 5 литров(ра)
- B. 500 миллилитров(ра)
- C. 5 миллилитров(ра)
- D. 1 литров(ра)

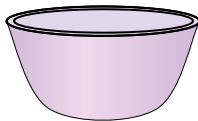
3)



Жидкость в кувшине

- A. 1 литров(ра)
- B. 5 литров(ра)
- C. 20 миллилитров(ра)
- D. 500 миллилитров(ра)


4)



Чаша для хлопьев

- A. 1 milliliter
- B. 50 миллилитров(ра)
- C. 475 миллилитров(ра)
- D. 2 литров(ра)

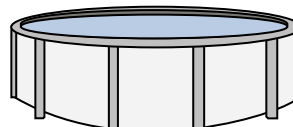
5)



Измерительная чашка

- A. 237 литров(ра)
- B. 50 миллилитров(ра)
- C. 237 миллилитров(ра)
- D. 1 литров(ра)

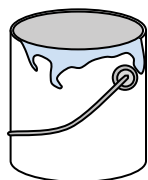
6)



Вода в бассейне

- A. 12000 миллилитров(ра)
- B. 12000 литров(ра)
- C. 800 литров(ра)
- D. 800 миллилитров(ра)

7)



Краска в банке

- A. 400 миллилитров(ра)
- B. 20 миллилитров(ра)
- C. 3.75 литров(ра)
- D. 1 литров(ра)

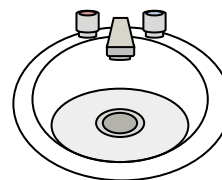
8)



Шампунь во флаконе

- A. 1 milliliter
- B. 1.5 литров(ра)
- C. 20 миллилитров(ра)
- D. 20 литров(ра)

9)



Вода в раковине в ванной


- A. 10 миллилитров(ра)
- B. 2 литров(ра)
- C. 500 миллилитров(ра)
- D. 7.5 литров(ра)



Определите под какой буквой объем представлен наиболее верно.

**Milliliter**

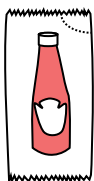
Un mililitro equivale a unas 20 gotas de agua. Muchas botellas grandes de refrescos tienen 1 o 2 litros.

**Liter**

1 Liter = 1,000 Milliliters

**ОТВЕТЫ**

1)



Кетчуп в пачке

- A. 500 миллилитров(ра)
- B. 1 литров(ра)
- C. 1 milliliter
- D. 50 миллилитров(ра)


2)



Жидкость в ложке

- A. 5 литров(ра)
- B. 500 миллилитров(ра)
- C. 5 миллилитров(ра)
- D. 1 литров(ра)

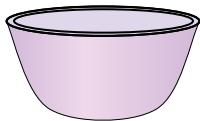
3)



Жидкость в кувшине

- A. 1 литров(ра)
- B. 5 литров(ра)
- C. 20 миллилитров(ра)
- D. 500 миллилитров(ра)

4)



Чаша для хлопьев

- A. 1 milliliter
- B. 50 миллилитров(ра)
- C. 475 миллилитров(ра)
- D. 2 литров(ра)

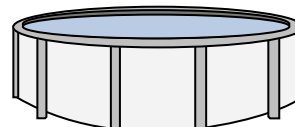
5)



Измерительная чашка

- A. 237 литров(ра)
- B. 50 миллилитров(ра)
- C. 237 миллилитров(ра)
- D. 1 литров(ра)

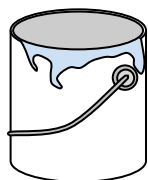
6)



Вода в бассейне

- A. 12000 миллилитров(ра)
- B. 12000 литров(ра)
- C. 800 литров(ра)
- D. 800 миллилитров(ра)

7)



Краска в банке

- A. 400 миллилитров(ра)
- B. 20 миллилитров(ра)
- C. 3.75 литров(ра)
- D. 1 литров(ра)

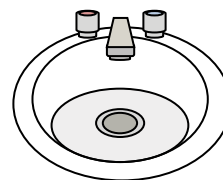
8)



Шампунь во флаконе

- A. 1 milliliter
- B. 1.5 литров(ра)
- C. 20 миллилитров(ра)
- D. 20 литров(ра)

9)



Вода в раковине в ванной

- A. 10 миллилитров(ра)
- B. 2 литров(ра)
- C. 500 миллилитров(ра)
- D. 7.5 литров(ра)

1.   C
2.   C
3.   B
4.   C
5.   C
6.   B
7.   C
8.   B
9.   D