




Определите под какой буквой объем представлен наиболее верно.

Milliliter

Un mililitro equivale a unas 20 gotas de agua. Muchas botellas grandes de refrescos tienen 1 o 2 litros.

**Liter**

1 Liter = 1,000 Milliliters

**ОТВЕТЫ**

1. _____

2. _____

3. _____

4. _____

5. _____

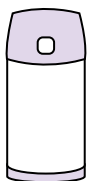
6. _____

7. _____

8. _____

9. _____

1)



Жидкость в термосе

- A. 20 литров(ра)
- B. 3 литров(ра)
- C. 440 миллилитров(ра)
- D. 20 миллилитров(ра)

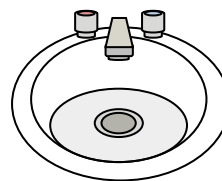
2)



Галлон молока

- A. 1 литров(ра)
- B. 3.75 литров(ра)
- C. 50 миллилитров(ра)
- D. 750 миллилитров(ра)

3)



Вода в раковине в ванной

- A. 500 миллилитров(ра)
- B. 10 миллилитров(ра)
- C. 7.5 литров(ра)
- D. 2 литров(ра)


4)



Измерительная чашка

- A. 50 миллилитров(ра)
- B. 237 миллилитров(ра)
- C. 1 литров(ра)
- D. 237 литров(ра)

5)



газировка в банке

- A. 2 литров(ра)
- B. 350 миллилитров(ра)
- C. 350 литров(ра)
- D. 2 миллилитров(ра)

6)



Вода для комнатного растения

- A. 2 миллилитров(ра)
- B. 80 литров(ра)
- C. 500 миллилитров(ра)
- D. 3 литров(ра)

7)



Кафетерий Молоко

- A. 237 литров(ра)
- B. 1 литров(ра)
- C. 237 миллилитров(ра)
- D. 2 литров(ра)

8)



Чернила в ручке

- A. 2 миллилитров(ра)
- B. 0.25 миллилитров(ра)
- C. 1 литров(ра)
- D. 400 миллилитров(ра)

9)



Жидкость в чайной чашке


- A. 2 миллилитров(ра)
- B. 250 миллилитров(ра)
- C. 2 литров(ра)
- D. 5 литров(ра)



Определите под какой буквой объем представлен наиболее верно.

Milliliter

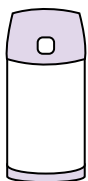
Un mililitro equivale a unas 20 gotas de agua. Muchas botellas grandes de refrescos tienen 1 o 2 litros.

**Liter**

1 Liter = 1,000 Milliliters

**ОТВЕТЫ**1. **C**2. **B**3. **C**4. **B**5. **B**6. **C**7. **C**8. **B**9. **B**

1)



Жидкость в термосе

- A. 20 литров(ра)
- B. 3 литров(ра)
- C. 440 миллилитров(ра)
- D. 20 миллилитров(ра)

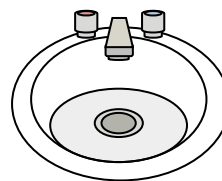
2)



Галлон молока

- A. 1 литров(ра)
- B. 3.75 литров(ра)
- C. 50 миллилитров(ра)
- D. 750 миллилитров(ра)

3)



Вода в раковине в ванной

- A. 500 миллилитров(ра)
- B. 10 миллилитров(ра)
- C. 7.5 литров(ра)
- D. 2 литров(ра)


4)



Измерительная чашка

- A. 50 миллилитров(ра)
- B. 237 миллилитров(ра)
- C. 1 литров(ра)
- D. 237 литров(ра)

5)



газировка в банке

- A. 2 литров(ра)
- B. 350 миллилитров(ра)
- C. 350 литров(ра)
- D. 2 миллилитров(ра)

6)



Вода для комнатного растения

- A. 2 миллилитров(ра)
- B. 80 литров(ра)
- C. 500 миллилитров(ра)
- D. 3 литров(ра)

7)



Кафетерий Молоко

- A. 237 литров(ра)
- B. 1 литров(ра)
- C. 237 миллилитров(ра)
- D. 2 литров(ра)

8)



Чернила в ручке

- A. 2 миллилитров(ра)
- B. 0.25 миллилитров(ра)
- C. 1 литров(ра)
- D. 400 миллилитров(ра)

9)



Жидкость в чайной чашке

- A. 2 миллилитров(ра)
- B. 250 миллилитров(ра)
- C. 2 литров(ра)
- D. 5 литров(ра)