




Определите под какой буквой объем представлен наиболее верно.

Milliliter

Un mililitro equivale a unas 20 gotas de agua. Muchas botellas grandes de refrescos tienen 1 o 2 litros.


**Liter**

1 Liter = 1,000 Milliliters

**ОТВЕТЫ**

1. _____
2. _____
3. _____
4. _____
5. _____
6. _____
7. _____
8. _____
9. _____

1)



Бензобак в машине

- A. 15 миллилитров(ра)
- B. 70 миллилитров(ра)
- C. 3 литров(ра)
- D. 60 литров(ра)

2)



Жидкость в ложке

- A. 500 миллилитров(ра)
- B. 5 миллилитров(ра)
- C. 1 литров(ра)
- D. 5 литров(ра)

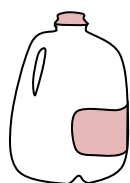
3)



Шампунь во флаконе

- A. 1 milliliter
- B. 20 литров(ра)
- C. 1.5 литров(ра)
- D. 20 миллилитров(ра)

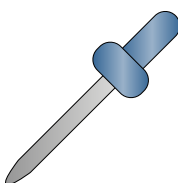
4)



Галлон молока

- A. 750 миллилитров(ра)
- B. 1 литров(ра)
- C. 50 миллилитров(ра)
- D. 3.75 литров(ра)

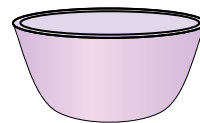
5)



Пипетка держит

- A. 1000 миллилитров(ра)
- B. 500 миллилитров(ра)
- C. 2 миллилитров(ра)
- D. 2 литров(ра)

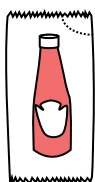
6)



Чаша для хлопьев

- A. 475 миллилитров(ра)
- B. 50 миллилитров(ра)
- C. 1 milliliter
- D. 2 литров(ра)

7)



Кетчуп в пачке

- A. 50 миллилитров(ра)
- B. 1 milliliter
- C. 1 литров(ра)
- D. 500 миллилитров(ра)

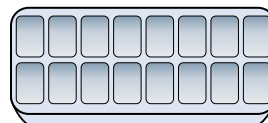
8)



Зубная паста в тюбике

- A. 5 миллилитров(ра)
- B. 1 литров(ра)
- C. 120 миллилитров(ра)
- D. 2 литров(ра)

9)



Вода в лотке для льда


- A. 2 миллилитров(ра)
- B. 0.5 литров(ра)
- C. 2 литров(ра)
- D. 50 миллилитров(ра)



Определите под какой буквой объем представлен наиболее верно.

Milliliter


Un mililitro equivale a unas 20 gotas de agua. Muchas botellas grandes de refrescos tienen 1 o 2 litros.

**Liter**

1 Liter = 1,000 Milliliters

**ОТВЕТЫ**

1)



Бензобак в машине

- A. 15 миллилитров(ра)
- B. 70 миллилитров(ра)
- C. 3 литров(ра)
- D. 60 литров(ра)


2)



Жидкость в ложке

- A. 500 миллилитров(ра)
- B. 5 миллилитров(ра)
- C. 1 литров(ра)
- D. 5 литров(ра)

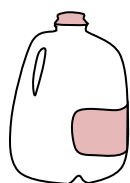
3)



Шампунь во флаконе

- A. 1 milliliter
- B. 20 литров(ра)
- C. 1.5 литров(ра)
- D. 20 миллилитров(ра)

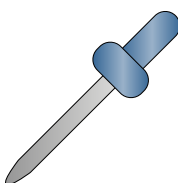
4)



Галлон молока

- A. 750 миллилитров(ра)
- B. 1 литров(ра)
- C. 50 миллилитров(ра)
- D. 3.75 литров(ра)

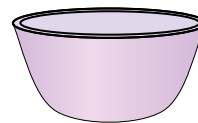
5)



Пипетка держит

- A. 1000 миллилитров(ра)
- B. 500 миллилитров(ра)
- C. 2 миллилитров(ра)
- D. 2 литров(ра)

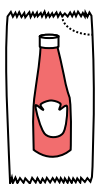
6)



Чаша для хлопьев

- A. 475 миллилитров(ра)
- B. 50 миллилитров(ра)
- C. 1 milliliter
- D. 2 литров(ра)

7)



Кетчуп в пакче

- A. 50 миллилитров(ра)
- B. 1 milliliter
- C. 1 литров(ра)
- D. 500 миллилитров(ра)

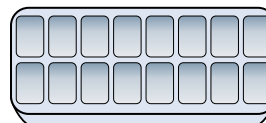
8)



Зубная паста в тюбике

- A. 5 миллилитров(ра)
- B. 1 литров(ра)
- C. 120 миллилитров(ра)
- D. 2 литров(ра)

9)



Вода в лотке для льда

- A. 2 миллилитров(ра)
- B. 0.5 литров(ра)
- C. 2 литров(ра)
- D. 50 миллилитров(ра)

1. D
2. B
3. C
4. D
5. C
6. A
7. B
8. C
9. B