




Определите под какой буквой объем представлен наиболее верно.

**Milliliter**

Un mililitro equivale a unas 20 gotas de agua. Muchas botellas grandes de refrescos tienen 1 o 2 litros.

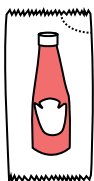
**Liter**

1 Liter = 1,000 Milliliters

**ОТВЕТЫ**

1. \_\_\_\_\_
2. \_\_\_\_\_
3. \_\_\_\_\_
4. \_\_\_\_\_
5. \_\_\_\_\_
6. \_\_\_\_\_
7. \_\_\_\_\_
8. \_\_\_\_\_
9. \_\_\_\_\_

1)



Кетчуп в пачке

- A. 500 миллилитров(ра)
- B. 1 литров(ра)
- C. 1 milliliter
- D. 50 миллилитров(ра)


2)



Жидкость в ложке

- A. 5 литров(ра)
- B. 500 миллилитров(ра)
- C. 5 миллилитров(ра)
- D. 1 литров(ра)

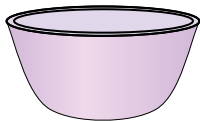
3)



Жидкость в кувшине

- A. 1 литров(ра)
- B. 5 литров(ра)
- C. 20 миллилитров(ра)
- D. 500 миллилитров(ра)

4)



Чаша для хлопьев

- A. 1 milliliter
- B. 50 миллилитров(ра)
- C. 475 миллилитров(ра)
- D. 2 литров(ра)

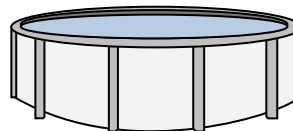
5)



Измерительная чашка

- A. 237 литров(ра)
- B. 50 миллилитров(ра)
- C. 237 миллилитров(ра)
- D. 1 литров(ра)

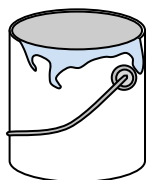
6)



Вода в бассейне

- A. 12000 миллилитров(ра)
- B. 12000 литров(ра)
- C. 800 литров(ра)
- D. 800 миллилитров(ра)

7)



Краска в банке

- A. 400 миллилитров(ра)
- B. 20 миллилитров(ра)
- C. 3.75 литров(ра)
- D. 1 литров(ра)

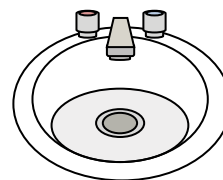
8)



Шампунь во флаконе

- A. 1 milliliter
- B. 1.5 литров(ра)
- C. 20 миллилитров(ра)
- D. 20 литров(ра)

9)



Вода в раковине в ванной


- A. 10 миллилитров(ра)
- B. 2 литров(ра)
- C. 500 миллилитров(ра)
- D. 7.5 литров(ра)



Определите под какой буквой объем представлен наиболее верно.

**Milliliter**

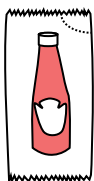
Un mililitro equivale a unas 20 gotas de agua. Muchas botellas grandes de refrescos tienen 1 o 2 litros.

**Liter**

1 Liter = 1,000 Milliliters

**ОТВЕТЫ**

1)



Кетчуп в пачке

- A. 500 миллилитров(ра)
- B. 1 литров(ра)
- C. 1 milliliter
- D. 50 миллилитров(ра)


2)



Жидкость в ложке

- A. 5 литров(ра)
- B. 500 миллилитров(ра)
- C. 5 миллилитров(ра)
- D. 1 литров(ра)

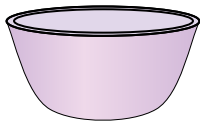
3)



Жидкость в кувшине

- A. 1 литров(ра)
- B. 5 литров(ра)
- C. 20 миллилитров(ра)
- D. 500 миллилитров(ра)

4)



Чаша для хлопьев

- A. 1 milliliter
- B. 50 миллилитров(ра)
- C. 475 миллилитров(ра)
- D. 2 литров(ра)

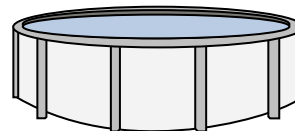
5)



Измерительная чашка

- A. 237 литров(ра)
- B. 50 миллилитров(ра)
- C. 237 миллилитров(ра)
- D. 1 литров(ра)

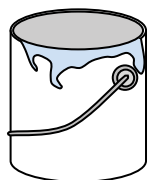
6)



Вода в бассейне

- A. 12000 миллилитров(ра)
- B. 12000 литров(ра)
- C. 800 литров(ра)
- D. 800 миллилитров(ра)

7)



Краска в банке

- A. 400 миллилитров(ра)
- B. 20 миллилитров(ра)
- C. 3.75 литров(ра)
- D. 1 литров(ра)

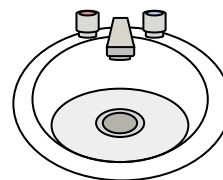
8)



Шампунь во флаконе

- A. 1 milliliter
- B. 1.5 литров(ра)
- C. 20 миллилитров(ра)
- D. 20 литров(ра)

9)



Вода в раковине в ванной

- A. 10 миллилитров(ра)
- B. 2 литров(ра)
- C. 500 миллилитров(ра)
- D. 7.5 литров(ра)


1.   C
2.   C
3.   B
4.   C
5.   C
6.   B
7.   C
8.   B
9.   D



Определите под какой буквой объем представлен наиболее верно.

**Milliliter**

Un mililitro equivale a unas 20 gotas de agua. Muchas botellas grandes de refrescos tienen 1 o 2 litros.


**Liter**

1 Liter = 1,000 Milliliters

**ОТВЕТЫ**

1. \_\_\_\_\_
2. \_\_\_\_\_
3. \_\_\_\_\_
4. \_\_\_\_\_
5. \_\_\_\_\_
6. \_\_\_\_\_
7. \_\_\_\_\_
8. \_\_\_\_\_
9. \_\_\_\_\_

1)



Пипетка держит

- A. 500 миллилитров(ра)
- B. 1000 миллилитров(ра)
- C. 2 литров(ра)
- D. 2 миллилитров(ра)

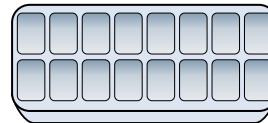
2)



газировка в банке

- A. 2 литров(ра)
- B. 2 миллилитров(ра)
- C. 350 литров(ра)
- D. 350 миллилитров(ра)


3)



Вода в лотке для льда

- A. 2 миллилитров(ра)
- B. 50 миллилитров(ра)
- C. 2 литров(ра)
- D. 0.5 литров(ра)

4)



Ванна

- A. 3 литров(ра)
- B. 500 миллилитров(ра)
- C. 170 литров(ра)
- D. 5 миллилитров(ра)


5)



Чернила в ручке

- A. 0.25 миллилитров(ра)
- B. 2 миллилитров(ра)
- C. 400 миллилитров(ра)
- D. 1 литров(ра)

6)



Вода в бочке

- A. 200 миллилитров(ра)
- B. 200 литров(ра)
- C. 5 миллилитров(ра)
- D. 3 литров(ра)

7)



Измерительная чашка

- A. 50 миллилитров(ра)
- B. 237 миллилитров(ра)
- C. 1 литров(ра)
- D. 237 литров(ра)

8)



Шампунь во флаконе

- A. 1.5 литров(ра)
- B. 1 milliliter
- C. 20 литров(ра)
- D. 20 миллилитров(ра)

9)



Зубная паста в тюбике


- A. 1 литров(ра)
- B. 2 литров(ра)
- C. 5 миллилитров(ра)
- D. 120 миллилитров(ра)



Определите под какой буквой объем представлен наиболее верно.

**Milliliter**


Un mililitro equivale a unas 20 gotas de agua. Muchas botellas grandes de refrescos tienen 1 o 2 litros.

**Liter**

1 Liter = 1,000 Milliliters

**ОТВЕТЫ**

1)



Пипетка держит

- A. 500 миллилитров(ра)
- B. 1000 миллилитров(ра)
- C. 2 литров(ра)
- D. 2 миллилитров(ра)

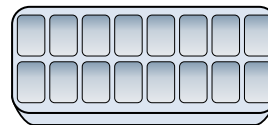
2)



газировка в банке

- A. 2 литров(ра)
- B. 2 миллилитров(ра)
- C. 350 литров(ра)
- D. 350 миллилитров(ра)


3)



Вода в лотке для льда

- A. 2 миллилитров(ра)
- B. 50 миллилитров(ра)
- C. 2 литров(ра)
- D. 0.5 литров(ра)

4)



Ванна

- A. 3 литров(ра)
- B. 500 миллилитров(ра)
- C. 170 литров(ра)
- D. 5 миллилитров(ра)


5)



Чернила в ручке

- A. 0.25 миллилитров(ра)
- B. 2 миллилитров(ра)
- C. 400 миллилитров(ра)
- D. 1 литров(ра)

6)



Вода в бочке

- A. 200 миллилитров(ра)
- B. 200 литров(ра)
- C. 5 миллилитров(ра)
- D. 3 литров(ра)

7)



Измерительная чашка

- A. 50 миллилитров(ра)
- B. 237 миллилитров(ра)
- C. 1 литров(ра)
- D. 237 литров(ра)

8)



Шампунь во флаконе

- A. 1.5 литров(ра)
- B. 1 milliliter
- C. 20 литров(ра)
- D. 20 миллилитров(ра)

9)



Зубная паста в тюбике

- A. 1 литров(ра)
- B. 2 литров(ра)
- C. 5 миллилитров(ра)
- D. 120 миллилитров(ра)


1.   D
2.   D
3.   D
4.   C
5.   A
6.   B
7.   B
8.   A
9.   D



Определите под какой буквой объем представлен наиболее верно.

**Milliliter**

Un mililitro equivale a unas 20 gotas de agua. Muchas botellas grandes de refrescos tienen 1 o 2 litros.

**Liter**

1 Liter = 1,000 Milliliters

**ОТВЕТЫ**

1. \_\_\_\_\_
2. \_\_\_\_\_
3. \_\_\_\_\_
4. \_\_\_\_\_
5. \_\_\_\_\_
6. \_\_\_\_\_
7. \_\_\_\_\_
8. \_\_\_\_\_
9. \_\_\_\_\_

1)



Измерительная чашка

- A. 237 литров(ра)
- B. 1 литров(ра)
- C. 237 миллилитров(ра)
- D. 50 миллилитров(ра)


2)



Вода для комнатного растения

- A. 3 литров(ра)
- B. 80 литров(ра)
- C. 500 миллилитров(ра)
- D. 2 миллилитров(ра)

3)



Бензобак в машине

- A. 3 литров(ра)
- B. 60 литров(ра)
- C. 15 миллилитров(ра)
- D. 70 миллилитров(ра)

4)



Галлон молока

- A. 750 миллилитров(ра)
- B. 3.75 литров(ра)
- C. 1 литров(ра)
- D. 50 миллилитров(ра)

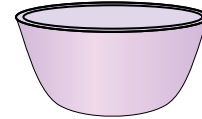
5)



Мука в пачке печенья

- A. 350 миллилитров(ра)
- B. 1 milliliter
- C. 2 литров(ра)
- D. 10 миллилитров(ра)


6)



Чаша для хлопьев

- A. 475 миллилитров(ра)
- B. 1 milliliter
- C. 50 миллилитров(ра)
- D. 2 литров(ра)


7)



Ледяной сундук

- A. 100 литров(ра)
- B. 200 миллилитров(ра)
- C. 100 миллилитров(ра)
- D. 20 миллилитров(ра)

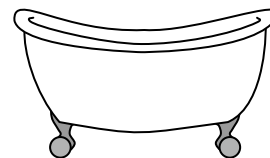
8)



газировка в банке

- A. 350 миллилитров(ра)
- B. 350 литров(ра)
- C. 2 миллилитров(ра)
- D. 2 литров(ра)

9)



Ванна


- A. 170 литров(ра)
- B. 3 литров(ра)
- C. 500 миллилитров(ра)
- D. 5 миллилитров(ра)



Определите под какой буквой объем представлен наиболее верно.

**Milliliter**

Un mililitro equivale a unas 20 gotas de agua. Muchas botellas grandes de refrescos tienen 1 o 2 litros.

**Liter**

1 Liter = 1,000 Milliliters

**ОТВЕТЫ**1. **C**2. **C**3. **B**4. **B**5. **A**6. **A**7. **A**8. **A**9. **A**

1)



Измерительная чашка

- A. 237 литров(ра)
- B. 1 литров(ра)
- C. 237 миллилитров(ра)
- D. 50 миллилитров(ра)


2)



Вода для комнатного растения

- A. 3 литров(ра)
- B. 80 литров(ра)
- C. 500 миллилитров(ра)
- D. 2 миллилитров(ра)

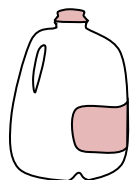
3)



Бензобак в машине

- A. 3 литров(ра)
- B. 60 литров(ра)
- C. 15 миллилитров(ра)
- D. 70 миллилитров(ра)

4)



Галлон молока

- A. 750 миллилитров(ра)
- B. 3.75 литров(ра)
- C. 1 литров(ра)
- D. 50 миллилитров(ра)

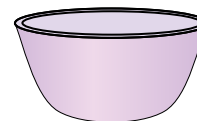
5)



Мука в пачке печенья

- A. 350 миллилитров(ра)
- B. 1 milliliter
- C. 2 литров(ра)
- D. 10 миллилитров(ра)


6)



Чаша для хлопьев

- A. 475 миллилитров(ра)
- B. 1 milliliter
- C. 50 миллилитров(ра)
- D. 2 литров(ра)

7)



Ледяной сундук

- A. 100 литров(ра)
- B. 200 миллилитров(ра)
- C. 100 миллилитров(ра)
- D. 20 миллилитров(ра)


8)



газировка в банке

- A. 350 миллилитров(ра)
- B. 350 литров(ра)
- C. 2 миллилитров(ра)
- D. 2 литров(ра)

9)



Ванна


- A. 170 литров(ра)
- B. 3 литров(ра)
- C. 500 миллилитров(ра)
- D. 5 миллилитров(ра)



Определите под какой буквой объем представлен наиболее верно.

**Milliliter**

Un mililitro equivale a unas 20 gotas de agua. Muchas botellas grandes de refrescos tienen 1 o 2 litros.

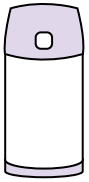
**Liter**

1 Liter = 1,000 Milliliters

**ОТВЕТЫ**

1. \_\_\_\_\_
2. \_\_\_\_\_
3. \_\_\_\_\_
4. \_\_\_\_\_
5. \_\_\_\_\_
6. \_\_\_\_\_
7. \_\_\_\_\_
8. \_\_\_\_\_
9. \_\_\_\_\_

1)



Жидкость в термосе

- A. 20 литров(ра)
- B. 3 литров(ра)
- C. 440 миллилитров(ра)
- D. 20 миллилитров(ра)

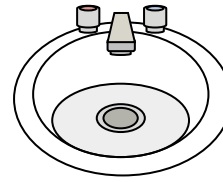
2)



Галлон молока

- A. 1 литров(ра)
- B. 3.75 литров(ра)
- C. 50 миллилитров(ра)
- D. 750 миллилитров(ра)

3)



Вода в раковине в ванной

- A. 500 миллилитров(ра)
- B. 10 миллилитров(ра)
- C. 7.5 литров(ра)
- D. 2 литров(ра)


4)



Измерительная чашка

- A. 50 миллилитров(ра)
- B. 237 миллилитров(ра)
- C. 1 литров(ра)
- D. 237 литров(ра)

5)



газировка в банке

- A. 2 литров(ра)
- B. 350 миллилитров(ра)
- C. 350 литров(ра)
- D. 2 миллилитров(ра)

6)



Вода для комнатного растения

- A. 2 миллилитров(ра)
- B. 80 литров(ра)
- C. 500 миллилитров(ра)
- D. 3 литров(ра)

7)



Кафетерий Молоко

- A. 237 литров(ра)
- B. 1 литров(ра)
- C. 237 миллилитров(ра)
- D. 2 литров(ра)

8)



Чернила в ручке

- A. 2 миллилитров(ра)
- B. 0.25 миллилитров(ра)
- C. 1 литров(ра)
- D. 400 миллилитров(ра)

9)



Жидкость в чайной чашке

- A. 2 миллилитров(ра)
- B. 250 миллилитров(ра)
- C. 2 литров(ра)
- D. 5 литров(ра)



Определите под какой буквой объем представлен наиболее верно.

**Milliliter**

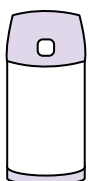
Un mililitro equivale a unas 20 gotas de agua. Muchas botellas grandes de refrescos tienen 1 o 2 litros.

**Liter**

1 Liter = 1,000 Milliliters

**ОТВЕТЫ**1. **C**2. **B**3. **C**4. **B**5. **B**6. **C**7. **C**8. **B**9. **B**

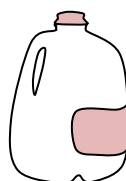
1)



Жидкость в термосе

- A. 20 литров(ра)
- B. 3 литров(ра)
- C. 440 миллилитров(ра)
- D. 20 миллилитров(ра)

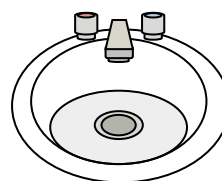
2)



Галлон молока

- A. 1 литров(ра)
- B. 3.75 литров(ра)
- C. 50 миллилитров(ра)
- D. 750 миллилитров(ра)

3)



Вода в раковине в ванной

- A. 500 миллилитров(ра)
- B. 10 миллилитров(ра)
- C. 7.5 литров(ра)
- D. 2 литров(ра)

4)



Измерительная чашка

- A. 50 миллилитров(ра)
- B. 237 миллилитров(ра)
- C. 1 литров(ра)
- D. 237 литров(ра)

5)



газировка в банке

- A. 2 литров(ра)
- B. 350 миллилитров(ра)
- C. 350 литров(ра)
- D. 2 миллилитров(ра)

6)



Вода для комнатного растения

- A. 2 миллилитров(ра)
- B. 80 литров(ра)
- C. 500 миллилитров(ра)
- D. 3 литров(ра)

7)



Кафетерий Молоко

- A. 237 литров(ра)
- B. 1 литров(ра)
- C. 237 миллилитров(ра)
- D. 2 литров(ра)

8)



Чернила в ручке

- A. 2 миллилитров(ра)
- B. 0.25 миллилитров(ра)
- C. 1 литров(ра)
- D. 400 миллилитров(ра)

9)



Жидкость в чайной чашке

- A. 2 миллилитров(ра)
- B. 250 миллилитров(ра)
- C. 2 литров(ра)
- D. 5 литров(ра)






Определите под какой буквой объем представлен наиболее верно.

**Milliliter**

Un mililitro equivale a unas 20 gotas de agua. Muchas botellas grandes de refrescos tienen 1 o 2 litros.


**Liter**

1 Liter = 1,000 Milliliters

**ОТВЕТЫ**

1. \_\_\_\_\_
2. \_\_\_\_\_
3. \_\_\_\_\_
4. \_\_\_\_\_
5. \_\_\_\_\_
6. \_\_\_\_\_
7. \_\_\_\_\_
8. \_\_\_\_\_
9. \_\_\_\_\_

1)



газировка в банке

- A. 350 литров(ра)
- B. 2 миллилитров(ра)
- C. 350 миллилитров(ра)
- D. 2 литров(ра)


2)



Мука на сковороде с пирожными

- A. 10 миллилитров(ра)
- B. 0.5 литров(ра)
- C. 3 литров(ра)
- D. 16 литров(ра)


3)



Отшлифуйте тачку

- A. 500 миллилитров(ра)
- B. 3 литров(ра)
- C. 170 литров(ра)
- D. 50 миллилитров(ра)

4)



Бензобак в машине

- A. 3 литров(ра)
- B. 70 миллилитров(ра)
- C. 60 литров(ра)
- D. 15 миллилитров(ра)

5)



Песок в ведре

- A. 20 литров(ра)
- B. 1 milliliter
- C. 4 литров(ра)
- D. 4 миллилитров(ра)

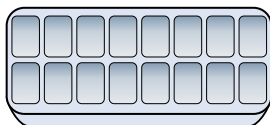
6)



Клей в бутылке

- A. 120 миллилитров(ра)
- B. 3 миллилитров(ра)
- C. 5 литров(ра)
- D. 2 литров(ра)

7)



Вода в лотке для льда

- A. 2 миллилитров(ра)
- B. 0.5 литров(ра)
- C. 50 миллилитров(ра)
- D. 2 литров(ра)

8)



Измерительная чашка

- A. 237 миллилитров(ра)
- B. 237 литров(ра)
- C. 50 миллилитров(ра)
- D. 1 литров(ра)

9)



Шампунь во флаконе


- A. 1 milliliter
- B. 1.5 литров(ра)
- C. 20 литров(ра)
- D. 20 миллилитров(ра)



Определите под какой буквой объем представлен наиболее верно.

**Milliliter**


Un mililitro equivale a unas 20 gotas de agua. Muchas botellas grandes de refrescos tienen 1 o 2 litros.

**Liter**

1 Liter = 1,000 Milliliters

**ОТВЕТЫ**

1)



газировка в банке

- A. 350 литров(ра)
- B. 2 миллилитров(ра)
- C. 350 миллилитров(ра)
- D. 2 литров(ра)


2)



Мука на сковороде с пирожными

- A. 10 миллилитров(ра)
- B. 0.5 литров(ра)
- C. 3 литров(ра)
- D. 16 литров(ра)


3)



Отшлифуйте тачку

- A. 500 миллилитров(ра)
- B. 3 литров(ра)
- C. 170 литров(ра)
- D. 50 миллилитров(ра)

4)



Бензобак в машине

- A. 3 литров(ра)
- B. 70 миллилитров(ра)
- C. 60 литров(ра)
- D. 15 миллилитров(ра)

5)



Песок в ведре

- A. 20 литров(ра)
- B. 1 milliliter
- C. 4 литров(ра)
- D. 4 миллилитров(ра)

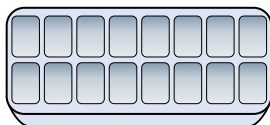
6)



Клей в бутылке

- A. 120 миллилитров(ра)
- B. 3 миллилитров(ра)
- C. 5 литров(ра)
- D. 2 литров(ра)

7)



Вода в лотке для льда

- A. 2 миллилитров(ра)
- B. 0.5 литров(ра)
- C. 50 миллилитров(ра)
- D. 2 литров(ра)

8)



Измерительная чашка

- A. 237 миллилитров(ра)
- B. 237 литров(ра)
- C. 50 миллилитров(ра)
- D. 1 литров(ра)

9)



Шампунь во флаконе

- A. 1 milliliter
- B. 1.5 литров(ра)
- C. 20 литров(ра)
- D. 20 миллилитров(ра)


1.   C
2.   B
3.   C
4.   C
5.   C
6.   A
7.   B
8.   A
9.   B



Определите под какой буквой объем представлен наиболее верно.

**Milliliter**

Un mililitro equivale a unas 20 gotas de agua. Muchas botellas grandes de refrescos tienen 1 o 2 litros.

**Liter**

1 Liter = 1,000 Milliliters

**ОТВЕТЫ**

1. \_\_\_\_\_

2. \_\_\_\_\_

3. \_\_\_\_\_

4. \_\_\_\_\_

5. \_\_\_\_\_


6. \_\_\_\_\_

7. \_\_\_\_\_

8. \_\_\_\_\_

9. \_\_\_\_\_

1)



Бензобак в машине

- A. 15 миллилитров(ра)
- B. 70 миллилитров(ра)
- C. 3 литров(ра)
- D. 60 литров(ра)

2)



Жидкость в ложке

- A. 500 миллилитров(ра)
- B. 5 миллилитров(ра)
- C. 1 литров(ра)
- D. 5 литров(ра)

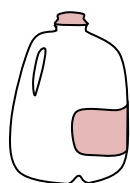
3)



Шампунь во флаконе

- A. 1 milliliter
- B. 20 литров(ра)
- C. 1.5 литров(ра)
- D. 20 миллилитров(ра)


4)



Галлон молока

- A. 750 миллилитров(ра)
- B. 1 литров(ра)
- C. 50 миллилитров(ра)
- D. 3.75 литров(ра)

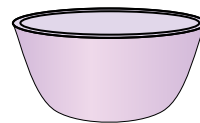
5)



Пипетка держит

- A. 1000 миллилитров(ра)
- B. 500 миллилитров(ра)
- C. 2 миллилитров(ра)
- D. 2 литров(ра)

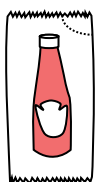
6)



Чаша для хлопьев

- A. 475 миллилитров(ра)
- B. 50 миллилитров(ра)
- C. 1 milliliter
- D. 2 литров(ра)

7)



Кетчуп в пачке

- A. 50 миллилитров(ра)
- B. 1 milliliter
- C. 1 литров(ра)
- D. 500 миллилитров(ра)

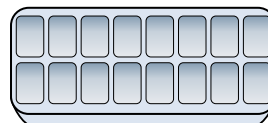
8)



Зубная паста в тюбике

- A. 5 миллилитров(ра)
- B. 1 литров(ра)
- C. 120 миллилитров(ра)
- D. 2 литров(ра)

9)



Вода в лотке для льда

- A. 2 миллилитров(ра)
- B. 0.5 литров(ра)
- C. 2 литров(ра)
- D. 50 миллилитров(ра)



Определите под какой буквой объем представлен наиболее верно.

**Milliliter**


Un mililitro equivale a unas 20 gotas de agua. Muchas botellas grandes de refrescos tienen 1 o 2 litros.

**Liter**

1 Liter = 1,000 Milliliters

**ОТВЕТЫ**

1)



Бензобак в машине

- A. 15 миллилитров(ра)
- B. 70 миллилитров(ра)
- C. 3 литров(ра)
- D. 60 литров(ра)


2)



Жидкость в ложке

- A. 500 миллилитров(ра)
- B. 5 миллилитров(ра)
- C. 1 литров(ра)
- D. 5 литров(ра)

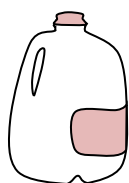
3)



Шампунь во флаконе

- A. 1 milliliter
- B. 20 литров(ра)
- C. 1.5 литров(ра)
- D. 20 миллилитров(ра)

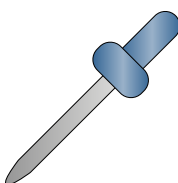
4)



Галлон молока

- A. 750 миллилитров(ра)
- B. 1 литров(ра)
- C. 50 миллилитров(ра)
- D. 3.75 литров(ра)

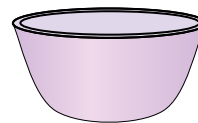
5)



Пипетка держит

- A. 1000 миллилитров(ра)
- B. 500 миллилитров(ра)
- C. 2 миллилитров(ра)
- D. 2 литров(ра)

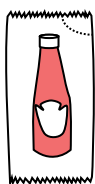
6)



Чаша для хлопьев

- A. 475 миллилитров(ра)
- B. 50 миллилитров(ра)
- C. 1 milliliter
- D. 2 литров(ра)

7)



Кетчуп в пачке

- A. 50 миллилитров(ра)
- B. 1 milliliter
- C. 1 литров(ра)
- D. 500 миллилитров(ра)

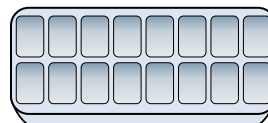
8)



Зубная паста в тюбике

- A. 5 миллилитров(ра)
- B. 1 литров(ра)
- C. 120 миллилитров(ра)
- D. 2 литров(ра)

9)



Вода в лотке для льда

- A. 2 миллилитров(ра)
- B. 0.5 литров(ра)
- C. 2 литров(ра)
- D. 50 миллилитров(ра)


1.   D
2.   B
3.   C
4.   D
5.   C
6.   A
7.   B
8.   C
9.   B



Определите под какой буквой объем представлен наиболее верно.

**Milliliter**

Un mililitro equivale a unas 20 gotas de agua. Muchas botellas grandes de refrescos tienen 1 o 2 litros.

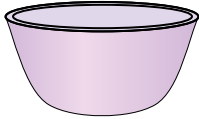
**Liter**

1 Liter = 1,000 Milliliters

**ОТВЕТЫ**

1. \_\_\_\_\_
2. \_\_\_\_\_
3. \_\_\_\_\_
4. \_\_\_\_\_
5. \_\_\_\_\_
6. \_\_\_\_\_
7. \_\_\_\_\_
8. \_\_\_\_\_
9. \_\_\_\_\_


1)



Чаша для хлопьев

- A. 50 миллилитров(ра)
- B. 475 миллилитров(ра)
- C. 1 milliliter
- D. 2 литров(ра)

2)



Пипетка держит

- A. 500 миллилитров(ра)
- B. 1000 миллилитров(ра)
- C. 2 миллилитров(ра)
- D. 2 литров(ра)

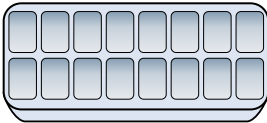
3)



Кафетерий Молоко

- A. 1 литров(ра)
- B. 237 миллилитров(ра)
- C. 237 литров(ра)
- D. 2 литров(ра)

4)



Вода в лотке для льда

- A. 2 миллилитров(ра)
- B. 0.5 литров(ра)
- C. 50 миллилитров(ра)
- D. 2 литров(ра)


5)



газировка в банке

- A. 350 миллилитров(ра)
- B. 2 миллилитров(ра)
- C. 2 литров(ра)
- D. 350 литров(ра)

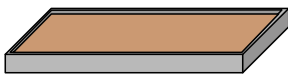
6)



Бензобак в машине

- A. 15 миллилитров(ра)
- B. 60 литров(ра)
- C. 70 миллилитров(ра)
- D. 3 литров(ра)

7)



Мука на сковороде с пирожными

- A. 3 литров(ра)
- B. 0.5 литров(ра)
- C. 16 литров(ра)
- D. 10 миллилитров(ра)

8)



Вода для комнатного растения

- A. 2 миллилитров(ра)
- B. 3 литров(ра)
- C. 500 миллилитров(ра)
- D. 80 литров(ра)

9)



Шампунь во флаконе

- A. 20 литров(ра)
- B. 1.5 литров(ра)
- C. 20 миллилитров(ра)
- D. 1 milliliter



Определите под какой буквой объем представлен наиболее верно.

**Milliliter**

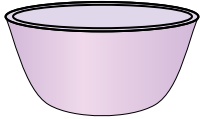
Un mililitro equivale a unas 20 gotas de agua. Muchas botellas grandes de refrescos tienen 1 o 2 litros.

**Liter**

1 Liter = 1,000 Milliliters

**ОТВЕТЫ**


1)



Чаша для хлопьев

- A. 50 миллилитров(ра)
- B. 475 миллилитров(ра)
- C. 1 milliliter
- D. 2 литров(ра)

2)



Пипетка держит

- A. 500 миллилитров(ра)
- B. 1000 миллилитров(ра)
- C. 2 миллилитров(ра)
- D. 2 литров(ра)

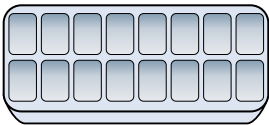
3)



Кафетерий Молоко

- A. 1 литров(ра)
- B. 237 миллилитров(ра)
- C. 237 литров(ра)
- D. 2 литров(ра)


4)



Вода в лотке для льда

- A. 2 миллилитров(ра)
- B. 0.5 литров(ра)
- C. 50 миллилитров(ра)
- D. 2 литров(ра)


5)



газировка в банке

- A. 350 миллилитров(ра)
- B. 2 миллилитров(ра)
- C. 2 литров(ра)
- D. 350 литров(ра)

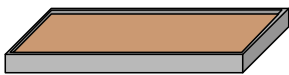
6)



Бензобак в машине

- A. 15 миллилитров(ра)
- B. 60 литров(ра)
- C. 70 миллилитров(ра)
- D. 3 литров(ра)

7)



Мука на сковороде с пирожными

- A. 3 литров(ра)
- B. 0.5 литров(ра)
- C. 16 литров(ра)
- D. 10 миллилитров(ра)

8)



Вода для комнатного растения

- A. 2 миллилитров(ра)
- B. 3 литров(ра)
- C. 500 миллилитров(ра)
- D. 80 литров(ра)

9)



Шампунь во флаконе

- A. 20 литров(ра)
- B. 1.5 литров(ра)
- C. 20 миллилитров(ра)
- D. 1 milliliter


1. **B**
2. **C**
3. **B**
4. **B**
5. **A**
6. **B**
7. **B**
8. **C**
9. **B**



Определите под какой буквой объем представлен наиболее верно.

**Milliliter**

Un mililitro equivale a unas 20 gotas de agua. Muchas botellas grandes de refrescos tienen 1 o 2 litros.


**Liter**

1 Liter = 1,000 Milliliters

**ОТВЕТЫ**

1. \_\_\_\_\_
2. \_\_\_\_\_
3. \_\_\_\_\_
4. \_\_\_\_\_
5. \_\_\_\_\_
6. \_\_\_\_\_
7. \_\_\_\_\_
8. \_\_\_\_\_
9. \_\_\_\_\_

1)



Жидкость в кувшине

- A. 5 литров(ра)
- B. 20 миллилитров(ра)
- C. 1 литров(ра)
- D. 500 миллилитров(ра)

2)



Мука на сковороде с пирожными

- A. 3 литров(ра)
- B. 0.5 литров(ра)
- C. 10 миллилитров(ра)
- D. 16 литров(ра)


3)



Жидкость в чайной чашке

- A. 2 миллилитров(ра)
- B. 2 литров(ра)
- C. 250 миллилитров(ра)
- D. 5 литров(ра)


4)



Пипетка держит

- A. 1000 миллилитров(ра)
- B. 2 литров(ра)
- C. 500 миллилитров(ра)
- D. 2 миллилитров(ра)

5)



Отшлифуйте тачку

- A. 50 миллилитров(ра)
- B. 500 миллилитров(ра)
- C. 3 литров(ра)
- D. 170 литров(ра)

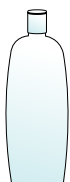
6)



Измерительная чашка

- A. 1 литров(ра)
- B. 237 литров(ра)
- C. 50 миллилитров(ра)
- D. 237 миллилитров(ра)

7)



Шампунь во флаконе

- A. 1 milliliter
- B. 20 миллилитров(ра)
- C. 1.5 литров(ра)
- D. 20 литров(ра)

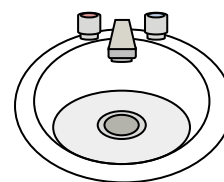
8)



Бензобак в машине

- A. 60 литров(ра)
- B. 15 миллилитров(ра)
- C. 70 миллилитров(ра)
- D. 3 литров(ра)

9)



Вода в раковине в ванной

- A. 10 миллилитров(ра)
- B. 2 литров(ра)
- C. 500 миллилитров(ра)
- D. 7.5 литров(ра)



Определите под какой буквой объем представлен наиболее верно.

**Milliliter**


Un mililitro equivale a unas 20 gotas de agua. Muchas botellas grandes de refrescos tienen 1 o 2 litros.

**Liter**

1 Liter = 1,000 Milliliters

**ОТВЕТЫ**1. **A**2. **B**3. **C**4. **D**5. **D**6. **D**7. **C**8. **A**9. **D**

1)



Жидкость в кувшине

- A. 5 литров(ра)
- B. 20 миллилитров(ра)
- C. 1 литров(ра)
- D. 500 миллилитров(ра)

2)



Мука на сковороде с пирожными

- A. 3 литров(ра)
- B. 0.5 литров(ра)
- C. 10 миллилитров(ра)
- D. 16 литров(ра)

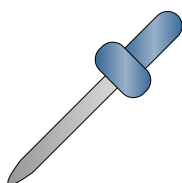
3)



Жидкость в чайной чашке

- A. 2 миллилитров(ра)
- B. 2 литров(ра)
- C. 250 миллилитров(ра)
- D. 5 литров(ра)


4)



Пипетка держит

- A. 1000 миллилитров(ра)
- B. 2 литров(ра)
- C. 500 миллилитров(ра)
- D. 2 миллилитров(ра)

5)



Отшлифуйте тачку

- A. 50 миллилитров(ра)
- B. 500 миллилитров(ра)
- C. 3 литров(ра)
- D. 170 литров(ра)

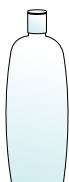
6)



Измерительная чашка

- A. 1 литров(ра)
- B. 237 литров(ра)
- C. 50 миллилитров(ра)
- D. 237 миллилитров(ра)


7)



Шампунь во флаконе

- A. 1 milliliter
- B. 20 миллилитров(ра)
- C. 1.5 литров(ра)
- D. 20 литров(ра)

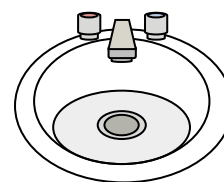
8)



Бензобак в машине

- A. 60 литров(ра)
- B. 15 миллилитров(ра)
- C. 70 миллилитров(ра)
- D. 3 литров(ра)

9)



Вода в раковине в ванной

- A. 10 миллилитров(ра)
- B. 2 литров(ра)
- C. 500 миллилитров(ра)
- D. 7.5 литров(ра)






Определите под какой буквой объем представлен наиболее верно.

**Milliliter**

Un mililitro equivale a unas 20 gotas de agua. Muchas botellas grandes de refrescos tienen 1 o 2 litros.

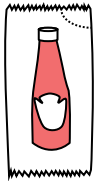
**Liter**

1 Liter = 1,000 Milliliters

**ОТВЕТЫ**

1. \_\_\_\_\_
2. \_\_\_\_\_
3. \_\_\_\_\_
4. \_\_\_\_\_
5. \_\_\_\_\_
6. \_\_\_\_\_
7. \_\_\_\_\_
8. \_\_\_\_\_
9. \_\_\_\_\_

1)



Кетчуп в пачке

- A. 1 milliliter
- B. 50 миллилитров(ра)
- C. 1 литров(ра)
- D. 500 миллилитров(ра)

2)



Клей в бутылке

- A. 120 миллилитров(ра)
- B. 3 миллилитров(ра)
- C. 2 литров(ра)
- D. 5 литров(ра)

3)



Мука на сковороде с пирожными

- A. 3 литров(ра)
- B. 10 миллилитров(ра)
- C. 16 литров(ра)
- D. 0.5 литров(ра)

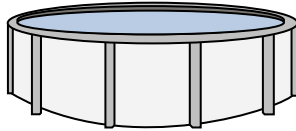
4)



Песок в ведре

- A. 1 milliliter
- B. 20 литров(ра)
- C. 4 литров(ра)
- D. 4 миллилитров(ра)


5)



Вода в бассейне

- A. 12000 миллилитров(ра)
- B. 800 литров(ра)
- C. 12000 литров(ра)
- D. 800 миллилитров(ра)


6)



Жидкость в термосе

- A. 440 миллилитров(ра)
- B. 20 литров(ра)
- C. 3 литров(ра)
- D. 20 миллилитров(ра)


7)



Бензобак в машине

- A. 15 миллилитров(ра)
- B. 60 литров(ра)
- C. 3 литров(ра)
- D. 70 миллилитров(ра)

8)



Отшлифуйте тачку

- A. 50 миллилитров(ра)
- B. 170 литров(ра)
- C. 500 миллилитров(ра)
- D. 3 литров(ра)

9)



газировка в банке


- A. 350 литров(ра)
- B. 2 литров(ра)
- C. 2 миллилитров(ра)
- D. 350 миллилитров(ра)



Определите под какой буквой объем представлен наиболее верно.

**Milliliter**

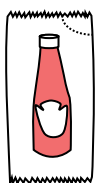
Un mililitro equivale a unas 20 gotas de agua. Muchas botellas grandes de refrescos tienen 1 o 2 litros.

**Liter**

1 Liter = 1,000 Milliliters

**ОТВЕТЫ**1.   **A**  2.   **A**  3.   **D**  4.   **C**  5.   **C**  6.   **A**  7.   **B**  8.   **B**  9.   **D**  

1)



Кетчуп в пачке

- A. 1 milliliter
- B. 50 миллилитров(ра)
- C. 1 литров(ра)
- D. 500 миллилитров(ра)

2)



Клей в бутылке

- A. 120 миллилитров(ра)
- B. 3 миллилитров(ра)
- C. 2 литров(ра)
- D. 5 литров(ра)

3)



Мука на сковороде с пирожными

- A. 3 литров(ра)
- B. 10 миллилитров(ра)
- C. 16 литров(ра)
- D. 0.5 литров(ра)

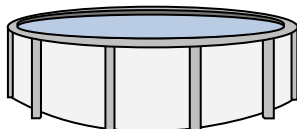
4)



Песок в ведре

- A. 1 milliliter
- B. 20 литров(ра)
- C. 4 литров(ра)
- D. 4 миллилитров(ра)

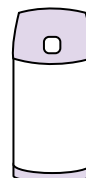
5)



Вода в бассейне

- A. 12000 миллилитров(ра)
- B. 800 литров(ра)
- C. 12000 литров(ра)
- D. 800 миллилитров(ра)


6)



Жидкость в термосе

- A. 440 миллилитров(ра)
- B. 20 литров(ра)
- C. 3 литров(ра)
- D. 20 миллилитров(ра)


7)



Бензобак в машине

- A. 15 миллилитров(ра)
- B. 60 литров(ра)
- C. 3 литров(ра)
- D. 70 миллилитров(ра)

8)



Отшлифуйте тачку

- A. 50 миллилитров(ра)
- B. 170 литров(ра)
- C. 500 миллилитров(ра)
- D. 3 литров(ра)

9)



газировка в банке


- A. 350 литров(ра)
- B. 2 литров(ра)
- C. 2 миллилитров(ра)
- D. 350 миллилитров(ра)



Определите под какой буквой объем представлен наиболее верно.

**Milliliter**

Un mililitro equivale a unas 20 gotas de agua. Muchas botellas grandes de refrescos tienen 1 o 2 litros.

**Liter**

1 Liter = 1,000 Milliliters

**ОТВЕТЫ**

1. \_\_\_\_\_
2. \_\_\_\_\_
3. \_\_\_\_\_
4. \_\_\_\_\_
5. \_\_\_\_\_
6. \_\_\_\_\_
7. \_\_\_\_\_
8. \_\_\_\_\_
9. \_\_\_\_\_

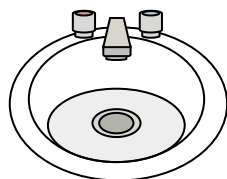
1)



Клей в бутылке

- A. 5 литров(ра)
- B. 120 миллилитров(ра)
- C. 2 литров(ра)
- D. 3 миллилитров(ра)

2)



Вода в раковине в ванной

- A. 10 миллилитров(ра)
- B. 7.5 литров(ра)
- C. 500 миллилитров(ра)
- D. 2 литров(ра)


3)



Шампунь во флаконе

- A. 20 литров(ра)
- B. 1 milliliter
- C. 1.5 литров(ра)
- D. 20 миллилитров(ра)

4)



Ледяной сундук

- A. 20 миллилитров(ра)
- B. 100 миллилитров(ра)
- C. 200 миллилитров(ра)
- D. 100 литров(ра)


5)



Жидкость в чайной чашке

- A. 250 миллилитров(ра)
- B. 2 литров(ра)
- C. 2 миллилитров(ра)
- D. 5 литров(ра)


6)



Пипетка держит

- A. 1000 миллилитров(ра)
- B. 2 миллилитров(ра)
- C. 500 миллилитров(ра)
- D. 2 литров(ра)

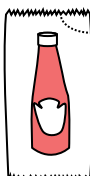
7)



Отшлифуйте тачку

- A. 50 миллилитров(ра)
- B. 3 литров(ра)
- C. 170 литров(ра)
- D. 500 миллилитров(ра)


8)



Кетчуп в пачке

- A. 500 миллилитров(ра)
- B. 1 milliliter
- C. 1 литров(ра)
- D. 50 миллилитров(ра)

9)



Бензобак в машине


- A. 60 литров(ра)
- B. 70 миллилитров(ра)
- C. 15 миллилитров(ра)
- D. 3 литров(ра)



Определите под какой буквой объем представлен наиболее верно.

**Milliliter**

Un mililitro equivale a unas 20 gotas de agua. Muchas botellas grandes de refrescos tienen 1 o 2 litros.

**Liter**

1 Liter = 1,000 Milliliters

**ОТВЕТЫ**

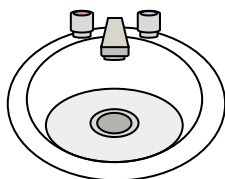
1)



Клей в бутылке

- A. 5 литров(ра)
- B. 120 миллилитров(ра)
- C. 2 литров(ра)
- D. 3 миллилитров(ра)

2)



Вода в раковине в ванной

- A. 10 миллилитров(ра)
- B. 7.5 литров(ра)
- C. 500 миллилитров(ра)
- D. 2 литров(ра)


3)



Шампунь во флаконе

- A. 20 литров(ра)
- B. 1 milliliter
- C. 1.5 литров(ра)
- D. 20 миллилитров(ра)

4)



Ледяной сундук

- A. 20 миллилитров(ра)
- B. 100 миллилитров(ра)
- C. 200 миллилитров(ра)
- D. 100 литров(ра)


5)



Жидкость в чайной чашке

- A. 250 миллилитров(ра)
- B. 2 литров(ра)
- C. 2 миллилитров(ра)
- D. 5 литров(ра)


6)



Пипетка держит

- A. 1000 миллилитров(ра)
- B. 2 миллилитров(ра)
- C. 500 миллилитров(ра)
- D. 2 литров(ра)

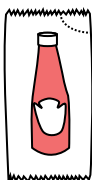
7)



Отшлифуйте тачку

- A. 50 миллилитров(ра)
- B. 3 литров(ра)
- C. 170 литров(ра)
- D. 500 миллилитров(ра)


8)



Кетчуп в пачке

- A. 500 миллилитров(ра)
- B. 1 milliliter
- C. 1 литров(ра)
- D. 50 миллилитров(ра)

9)



Бензобак в машине

- A. 60 литров(ра)
- B. 70 миллилитров(ра)
- C. 15 миллилитров(ра)
- D. 3 литров(ра)

1. **B**
2. **B**
3. **C**
4. **D**
5. **A**
6. **B**
7. **C**
8. **B**
9. **A**