




Определите под какой буквой объем представлен наиболее верно.

Milliliter

Un mililitro equivale a unas 20 gotas de agua. Muchas botellas grandes de refrescos tienen 1 o 2 litros.

**Liter**

1 Liter = 1,000 Milliliters

**ОТВЕТЫ**

1. _____

2. _____

3. _____

4. _____

5. _____

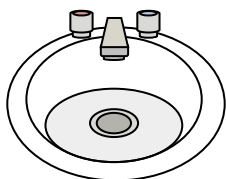
6. _____

7. _____

8. _____

9. _____

1)



Вода в раковине в ванной

- A. 2 литров(ра)
- B. 10 миллилитров(ра)
- C. 7.5 литров(ра)
- D. 500 миллилитров(ра)

2)



Чернила в ручке

- A. 2 миллилитров(ра)
- B. 400 миллилитров(ра)
- C. 0.25 миллилитров(ра)
- D. 1 литров(ра)

3)



Шампунь во флаконе

- A. 1 milliliter
- B. 1.5 литров(ра)
- C. 20 литров(ра)
- D. 20 миллилитров(ра)

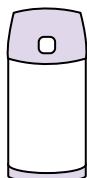
4)



Измерительная чашка

- A. 237 литров(ра)
- B. 237 миллилитров(ра)
- C. 1 литров(ра)
- D. 50 миллилитров(ра)

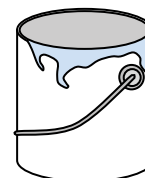
5)



Жидкость в термосе

- A. 20 миллилитров(ра)
- B. 20 литров(ра)
- C. 3 литров(ра)
- D. 440 миллилитров(ра)


6)



Краска в банке

- A. 20 миллилитров(ра)
- B. 1 литров(ра)
- C. 400 миллилитров(ра)
- D. 3.75 литров(ра)

7)



Бензобак в машине

- A. 60 литров(ра)
- B. 3 литров(ра)
- C. 70 миллилитров(ра)
- D. 15 миллилитров(ра)

8)



Галлон молока

- A. 750 миллилитров(ра)
- B. 3.75 литров(ра)
- C. 50 миллилитров(ра)
- D. 1 литров(ра)

9)



Мука в пачке печенья


- A. 1 milliliter
- B. 350 миллилитров(ра)
- C. 2 литров(ра)
- D. 10 миллилитров(ра)



Определите под какой буквой объем представлен наиболее верно.

Milliliter

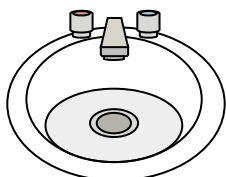
Un mililitro equivale a unas 20 gotas de agua. Muchas botellas grandes de refrescos tienen 1 o 2 litros.

**Liter**

1 Liter = 1,000 Milliliters

**ОТВЕТЫ**1. **C**2. **C**3. **B**4. **B**5. **D**6. **D**7. **A**8. **B**9. **B**

1)



Вода в раковине в ванной

- A. 2 литров(ра)
- B. 10 миллилитров(ра)
- C. 7.5 литров(ра)
- D. 500 миллилитров(ра)

2)



Чернила в ручке

- A. 2 миллилитров(ра)
- B. 400 миллилитров(ра)
- C. 0.25 миллилитров(ра)
- D. 1 литров(ра)

3)



Шампунь во флаконе

- A. 1 milliliter
- B. 1.5 литров(ра)
- C. 20 литров(ра)
- D. 20 миллилитров(ра)

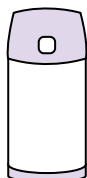
4)



Измерительная чашка

- A. 237 литров(ра)
- B. 237 миллилитров(ра)
- C. 1 литров(ра)
- D. 50 миллилитров(ра)

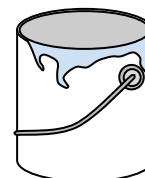
5)



Жидкость в термосе

- A. 20 миллилитров(ра)
- B. 20 литров(ра)
- C. 3 литров(ра)
- D. 440 миллилитров(ра)

6)



Краска в банке

- A. 20 миллилитров(ра)
- B. 1 литров(ра)
- C. 400 миллилитров(ра)
- D. 3.75 литров(ра)

7)



Бензобак в машине

- A. 60 литров(ра)
- B. 3 литров(ра)
- C. 70 миллилитров(ра)
- D. 15 миллилитров(ра)

8)



Галлон молока

- A. 750 миллилитров(ра)
- B. 3.75 литров(ра)
- C. 50 миллилитров(ра)
- D. 1 литров(ра)

9)



Мука в пачке печенья

- A. 1 milliliter
- B. 350 миллилитров(ра)
- C. 2 литров(ра)
- D. 10 миллилитров(ра)