



Подсчитайте количество каждого объекта.

Ответы

1. \_\_\_\_\_

2. \_\_\_\_\_

3. \_\_\_\_\_

4. \_\_\_\_\_

5. \_\_\_\_\_

6. \_\_\_\_\_

7. \_\_\_\_\_

8. \_\_\_\_\_

9. \_\_\_\_\_



Подсчитайте количество каждого объекта.

**Ответы**

1. 7

2. 7

3. 9

4. 16

5. 18

6. 13

7. 12

8. 8

9. 10



Подсчитайте количество каждого объекта.

Ответы

1. \_\_\_\_\_

2. \_\_\_\_\_

3. \_\_\_\_\_

4. \_\_\_\_\_

5. \_\_\_\_\_

6. \_\_\_\_\_

7. \_\_\_\_\_

8. \_\_\_\_\_

9. \_\_\_\_\_



Подсчитайте количество каждого объекта.

ОТВЕТЫ

- 1. 12
- 2. 19
- 3. 2
- 4. 9
- 5. 14
- 6. 20
- 7. 15
- 8. 20
- 9. 8



Подсчитайте количество каждого объекта.

**Ответы**

1. \_\_\_\_\_

2. \_\_\_\_\_

3. \_\_\_\_\_

4. \_\_\_\_\_

5. \_\_\_\_\_

6. \_\_\_\_\_

7. \_\_\_\_\_

8. \_\_\_\_\_

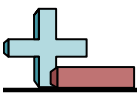
9. \_\_\_\_\_



Подсчитайте количество каждого объекта.

ОТВЕТЫ

- 1. 3
- 2. 17
- 3. 7
- 4. 7
- 5. 5
- 6. 16
- 7. 16
- 8. 6
- 9. 9



Подсчитайте количество каждого объекта.

ОТВЕТЫ

1. \_\_\_\_\_

2. \_\_\_\_\_

3. \_\_\_\_\_

4. \_\_\_\_\_

5. \_\_\_\_\_

6. \_\_\_\_\_

7. \_\_\_\_\_

8. \_\_\_\_\_

9. \_\_\_\_\_



Подсчитайте количество каждого объекта.

ОТВЕТЫ

1. 17

2. 20

3. 3

4. 10

5. 13

6. 10

7. 9

8. 16

9. 9





Подсчитайте количество каждого объекта.

ОТВЕТЫ

1. \_\_\_\_\_

2. \_\_\_\_\_

3. \_\_\_\_\_

4. \_\_\_\_\_

5. \_\_\_\_\_

6. \_\_\_\_\_

7. \_\_\_\_\_

8. \_\_\_\_\_

9. \_\_\_\_\_



Подсчитайте количество каждого объекта.

ОТВЕТЫ

1. 20

2. 18

3. 5

4. 12

5. 5

6. 18

7. 12

8. 12

9. 15



Подсчитайте количество каждого объекта.

**Ответы**

1. \_\_\_\_\_

2. \_\_\_\_\_

3. \_\_\_\_\_

4. \_\_\_\_\_

5. \_\_\_\_\_

6. \_\_\_\_\_

7. \_\_\_\_\_

8. \_\_\_\_\_

9. \_\_\_\_\_



Подсчитайте количество каждого объекта.

ОТВЕТЫ

1. 6

2. 16

3. 15

4. 20

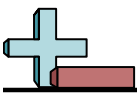
5. 17

6. 9

7. 12

8. 15

9. 10



Подсчитайте количество каждого объекта.

**Ответы**

1. \_\_\_\_\_

2. \_\_\_\_\_

3. \_\_\_\_\_

4. \_\_\_\_\_

5. \_\_\_\_\_

6. \_\_\_\_\_

7. \_\_\_\_\_

8. \_\_\_\_\_

9. \_\_\_\_\_



Подсчитайте количество каждого объекта.

ОТВЕТЫ

1. 7

2. 11

3. 10

4. 18

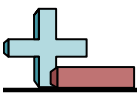
5. 4

6. 19

7. 8

8. 6

9. 9



Подсчитайте количество каждого объекта.

Ответы

1. \_\_\_\_\_

2. \_\_\_\_\_

3. \_\_\_\_\_

4. \_\_\_\_\_

5. \_\_\_\_\_

6. \_\_\_\_\_

7. \_\_\_\_\_

8. \_\_\_\_\_

9. \_\_\_\_\_



Подсчитайте количество каждого объекта.

ОТВЕТЫ

1. 17

2. 19

3. 17

4. 6

5. 9

6. 8

7. 9

8. 20

9. 12





Подсчитайте количество каждого объекта.

ОТВЕТЫ

1. \_\_\_\_\_

2. \_\_\_\_\_

3. \_\_\_\_\_

4. \_\_\_\_\_

5. \_\_\_\_\_

6. \_\_\_\_\_

7. \_\_\_\_\_

8. \_\_\_\_\_

9. \_\_\_\_\_



Подсчитайте количество каждого объекта.

ОТВЕТЫ

- 1. 20
- 2. 6
- 3. 5
- 4. 6
- 5. 16
- 6. 4
- 7. 8
- 8. 4
- 9. 12



Подсчитайте количество каждого объекта.

ОТВЕТЫ

1. \_\_\_\_\_

2. \_\_\_\_\_

3. \_\_\_\_\_

4. \_\_\_\_\_

5. \_\_\_\_\_

6. \_\_\_\_\_

7. \_\_\_\_\_

8. \_\_\_\_\_

9. \_\_\_\_\_



Подсчитайте количество каждого объекта.

ОТВЕТЫ

- 1. 17
- 2. 2
- 3. 9
- 4. 8
- 5. 2
- 6. 9
- 7. 10
- 8. 15
- 9. 16