




Подсчитайте количество данных фигур

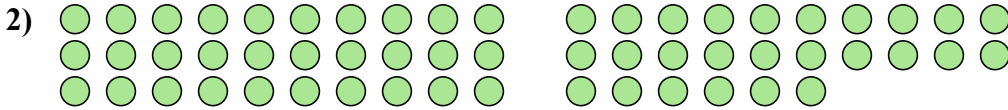
Ответы



1. \_\_\_\_\_

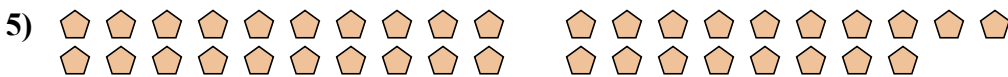
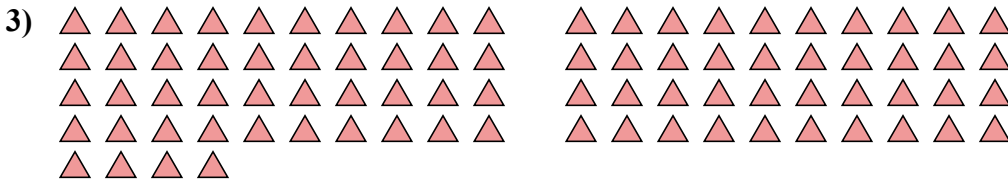
2. \_\_\_\_\_

3. \_\_\_\_\_



4. \_\_\_\_\_


5. \_\_\_\_\_





Подсчитайте количество данных фигур

ОТВЕТЫ



1. 73

2. 56

3. 84

4. 103

5. 38

