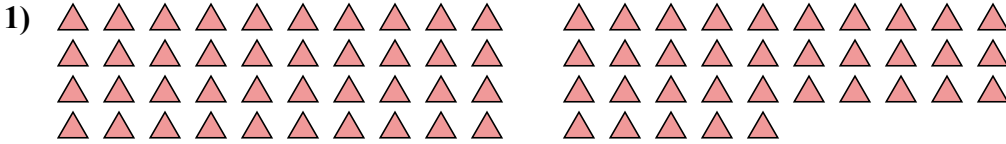




Подсчитайте количество данных фигур

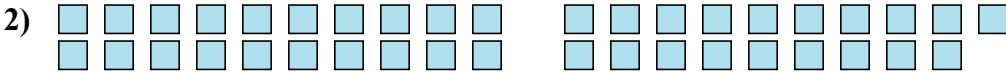
ОТВЕТЫ



1. \_\_\_\_\_

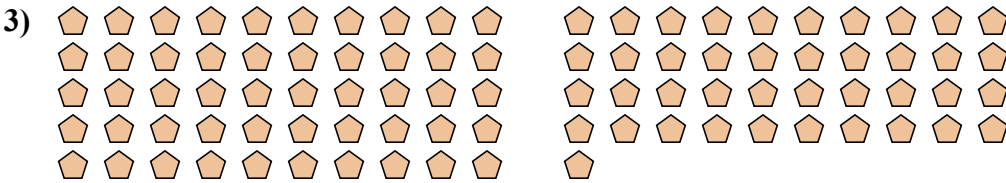
2. \_\_\_\_\_

3. \_\_\_\_\_



4. \_\_\_\_\_

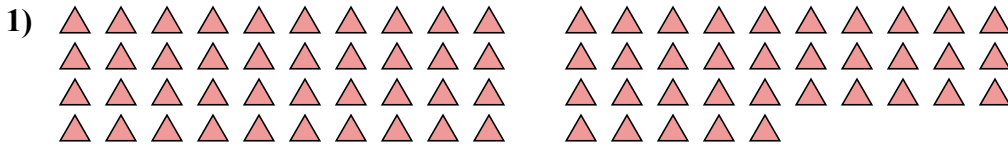
5. \_\_\_\_\_





Подсчитайте количество данных фигур

ОТВЕТЫ



1. 75

2. 39

3. 91

4. 15

5. 106

