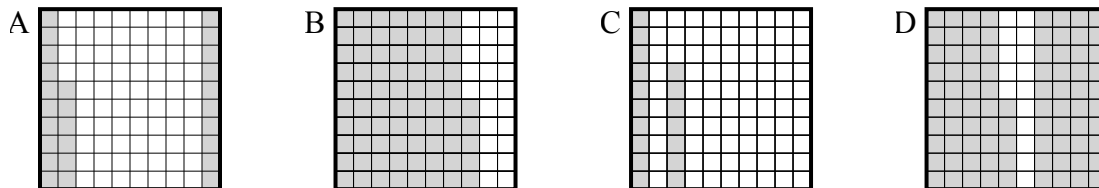




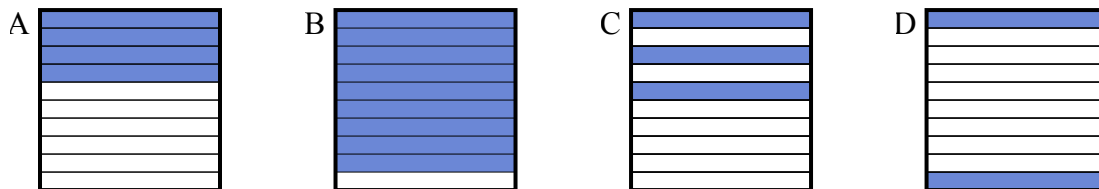
Определите, под какой буквой находится правильный ответ.

Ответы

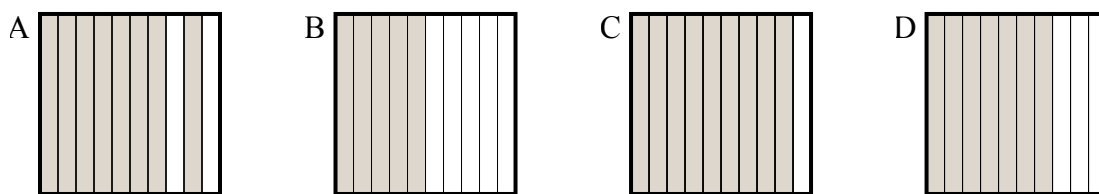
- 1) Что нужно прибавить в решетке 10×10 , которая представляет десятичную дробь, чтобы после прибавления $0,74$, ответ получился $1,00$?



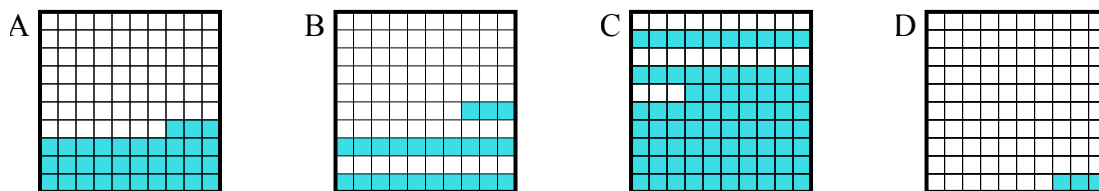
- 2) Что нужно прибавить в решетке 10×1 , которая представляет десятичную дробь, чтобы после прибавления $0,1$, ответ получился $1,00$?



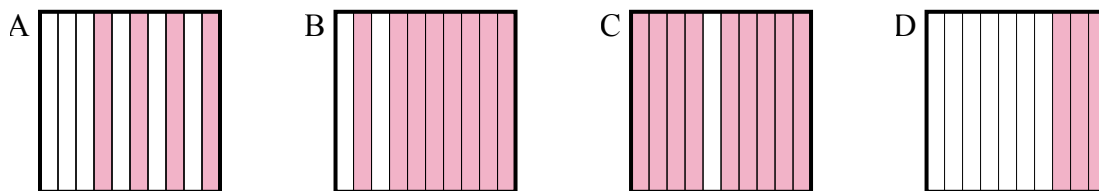
- 3) Что нужно прибавить в решетке 10×1 , которая представляет десятичную дробь, чтобы после прибавления $0,5$, ответ получился $1,00$?



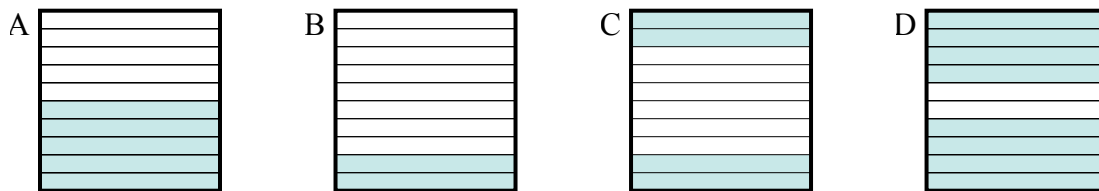
- 4) Что нужно прибавить в решетке 10×10 , которая представляет десятичную дробь, чтобы после прибавления $0,77$, ответ получился $1,00$?



- 5) Что нужно прибавить в решетке 10×1 , которая представляет десятичную дробь, чтобы после прибавления $0,7$, ответ получился $1,00$?



- 6) Что нужно прибавить в решетке 10×1 , которая представляет десятичную дробь, чтобы после прибавления $0,6$, ответ получился $1,00$?

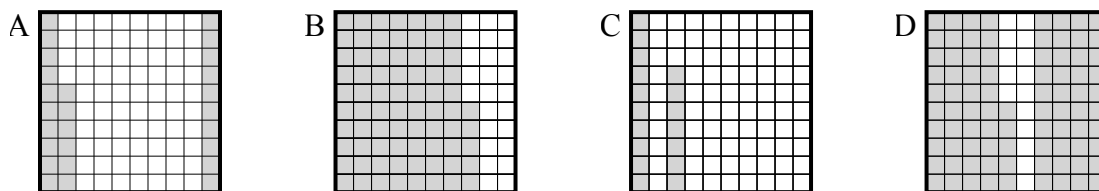


1. _____
2. _____
3. _____
4. _____
5. _____
6. _____

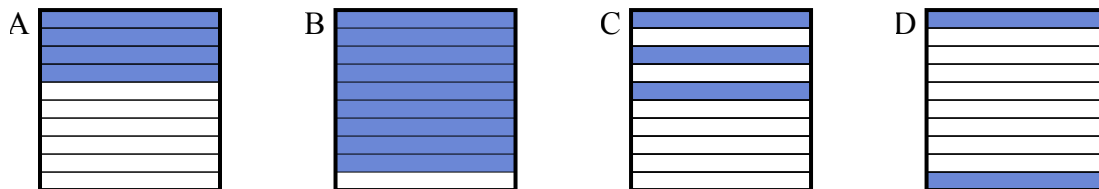


Определите, под какой буквой находится правильный ответ.

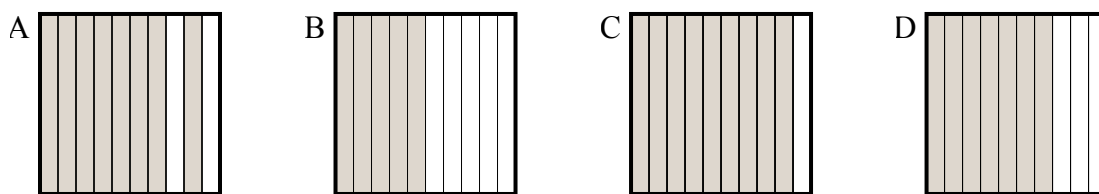
- 1) Что нужно прибавить в решетке 10×10 , которая представляет десятичную дробь, чтобы после прибавления $0,74$, ответ получился $1,00$?



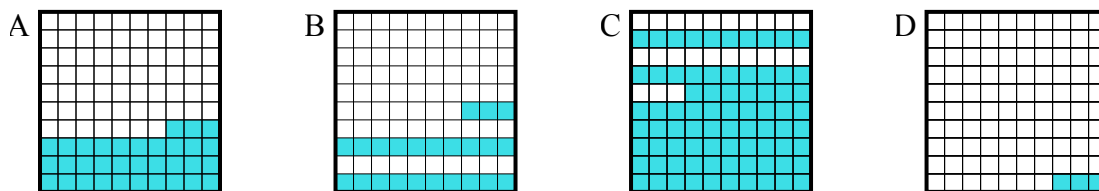
- 2) Что нужно прибавить в решетке 10×1 , которая представляет десятичную дробь, чтобы после прибавления $0,1$, ответ получился $1,00$?



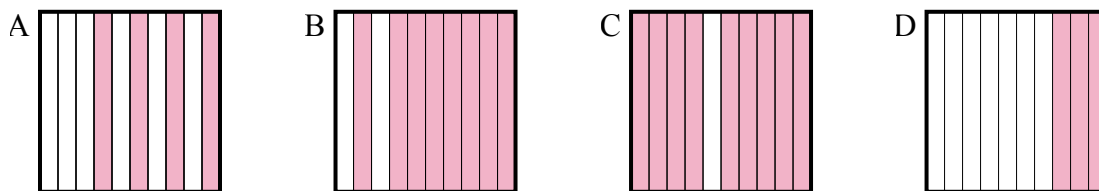
- 3) Что нужно прибавить в решетке 10×1 , которая представляет десятичную дробь, чтобы после прибавления $0,5$, ответ получился $1,00$?



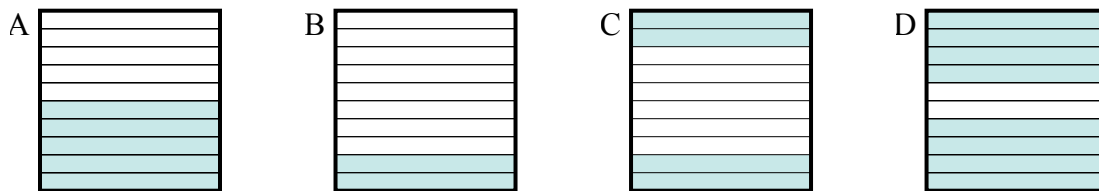
- 4) Что нужно прибавить в решетке 10×10 , которая представляет десятичную дробь, чтобы после прибавления $0,77$, ответ получился $1,00$?



- 5) Что нужно прибавить в решетке 10×1 , которая представляет десятичную дробь, чтобы после прибавления $0,7$, ответ получился $1,00$?



- 6) Что нужно прибавить в решетке 10×1 , которая представляет десятичную дробь, чтобы после прибавления $0,6$, ответ получился $1,00$?

**Ответы**1. **A** 2. **B** 3. **B** 4. **B** 5. **D** 6. **C**