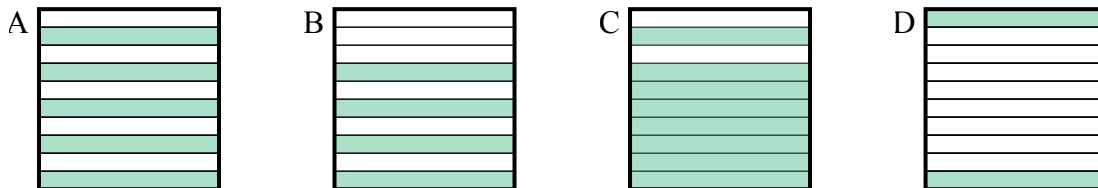




Определите, под какой буквой находится правильный ответ.

Ответы

- 1) Что нужно прибавить в решетке 10×1 , которая представляет десятичную дробь, чтобы после прибавления $0,2$, ответ получился $1,00$?

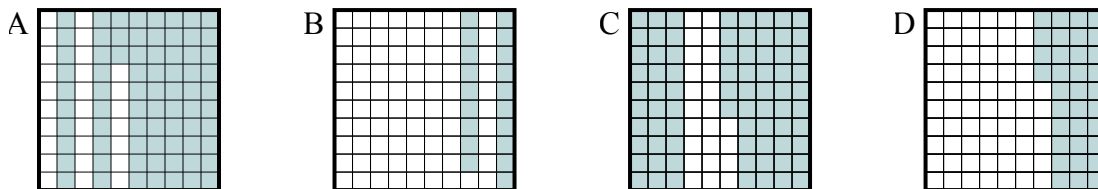


1. _____

2. _____

3. _____

- 2) Что нужно прибавить в решетке 10×10 , которая представляет десятичную дробь, чтобы после прибавления $0,27$, ответ получился $1,00$?

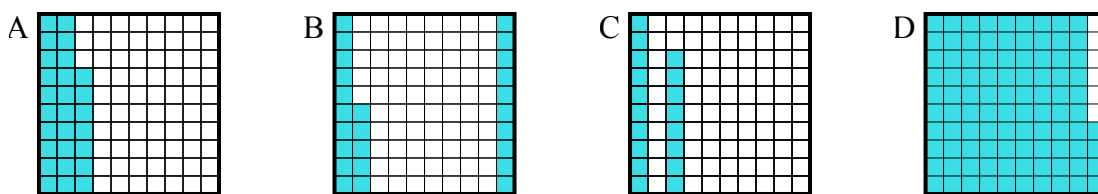


4. _____

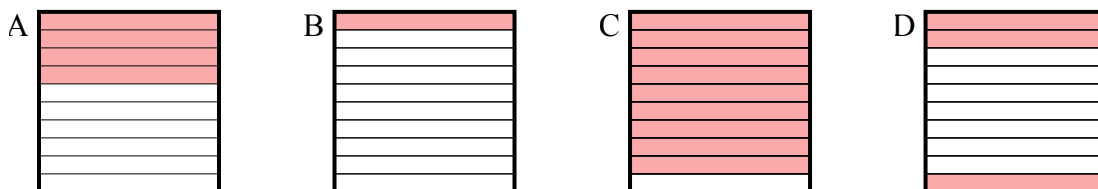
5. _____

6. _____

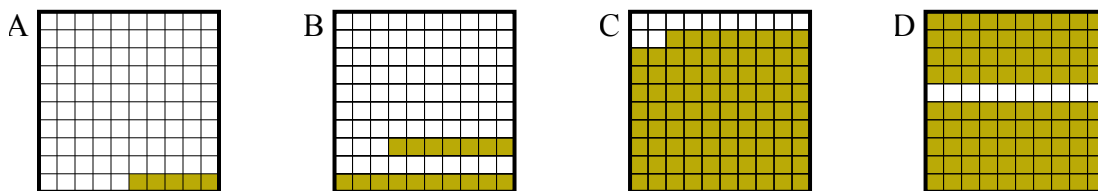
- 3) Что нужно прибавить в решетке 10×10 , которая представляет десятичную дробь, чтобы после прибавления $0,06$, ответ получился $1,00$?



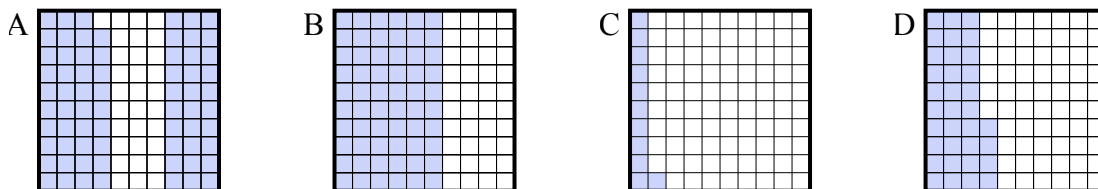
- 4) Что нужно прибавить в решетке 10×1 , которая представляет десятичную дробь, чтобы после прибавления $0,6$, ответ получился $1,00$?



- 5) Что нужно прибавить в решетке 10×10 , которая представляет десятичную дробь, чтобы после прибавления $0,95$, ответ получился $1,00$?



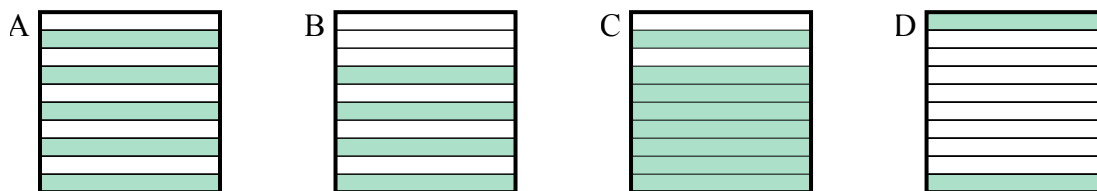
- 6) Что нужно прибавить в решетке 10×10 , которая представляет десятичную дробь, чтобы после прибавления $0,89$, ответ получился $1,00$?



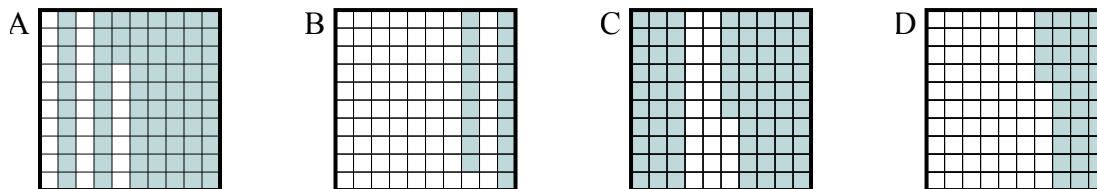


Определите, под какой буквой находится правильный ответ.

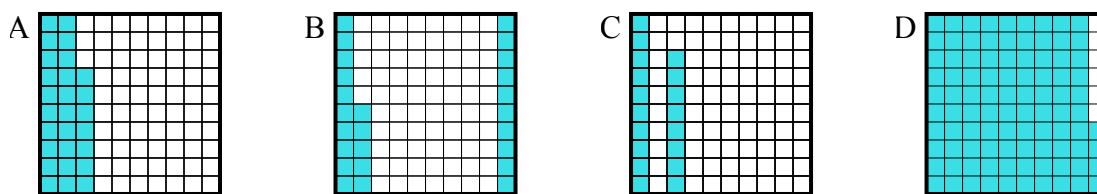
- 1) Что нужно прибавить в решетке 10×1 , которая представляет десятичную дробь, чтобы после прибавления 0,2, ответ получился 1,00?



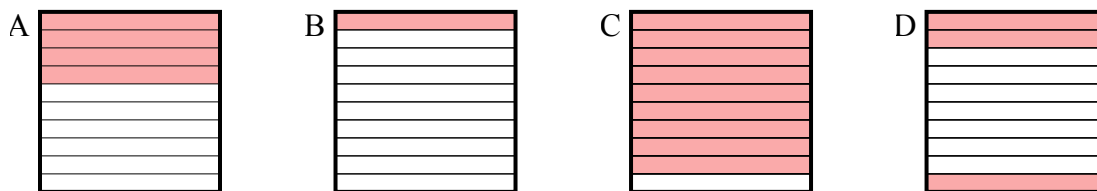
- 2) Что нужно прибавить в решетке 10×10 , которая представляет десятичную дробь, чтобы после прибавления 0,27, ответ получился 1,00?



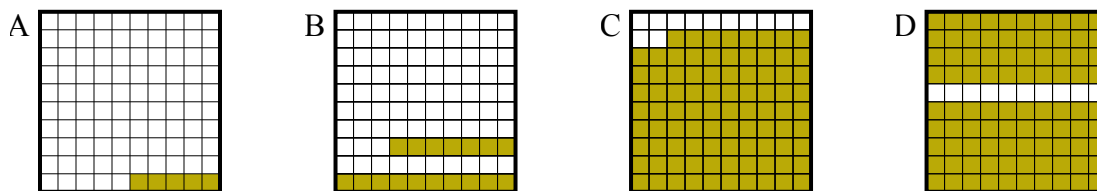
- 3) Что нужно прибавить в решетке 10×10 , которая представляет десятичную дробь, чтобы после прибавления 0,06, ответ получился 1,00?



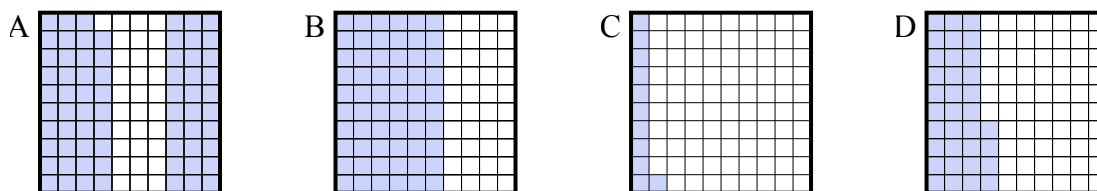
- 4) Что нужно прибавить в решетке 10×1 , которая представляет десятичную дробь, чтобы после прибавления 0,6, ответ получился 1,00?



- 5) Что нужно прибавить в решетке 10×10 , которая представляет десятичную дробь, чтобы после прибавления 0,95, ответ получился 1,00?



- 6) Что нужно прибавить в решетке 10×10 , которая представляет десятичную дробь, чтобы после прибавления 0,89, ответ получился 1,00?

**Ответы**1. **C** 2. **A** 3. **D** 4. **A** 5. **A** 6. **C**