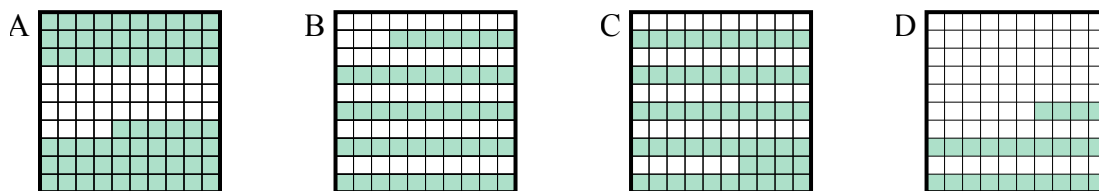




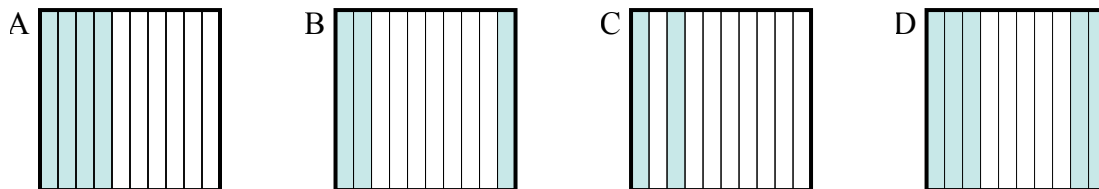
Определите, под какой буквой находится правильный ответ.

Отвeты

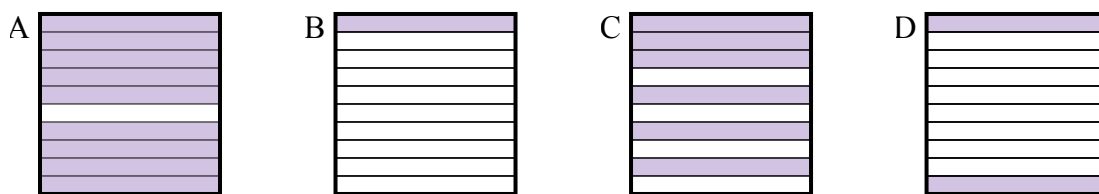
- 1) Что нужно прибавить в решетке 10×10 , которая представляет десятичную дробь, чтобы после прибавления $0,76$, ответ получился $1,00$?



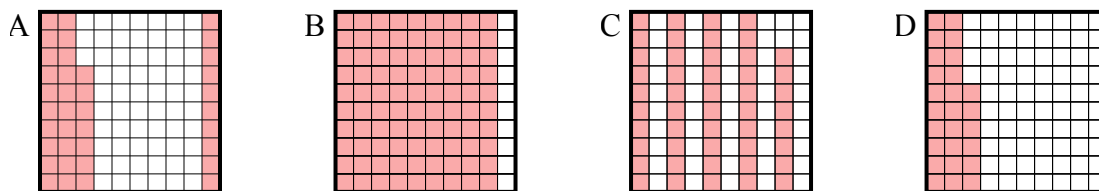
- 2) Что нужно прибавить в решетке 10×1 , которая представляет десятичную дробь, чтобы после прибавления $0,5$, ответ получился $1,00$?



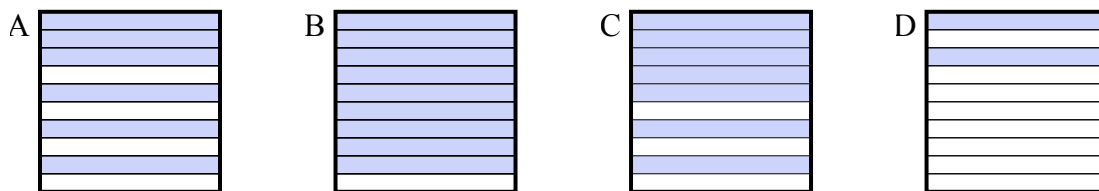
- 3) Что нужно прибавить в решетке 10×1 , которая представляет десятичную дробь, чтобы после прибавления $0,1$, ответ получился $1,00$?



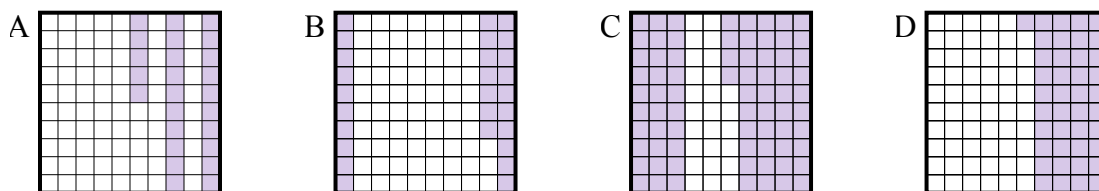
- 4) Что нужно прибавить в решетке 10×10 , которая представляет десятичную дробь, чтобы после прибавления $0,63$, ответ получился $1,00$?



- 5) Что нужно прибавить в решетке 10×1 , которая представляет десятичную дробь, чтобы после прибавления $0,3$, ответ получился $1,00$?



- 6) Что нужно прибавить в решетке 10×10 , которая представляет десятичную дробь, чтобы после прибавления $0,75$, ответ получился $1,00$?

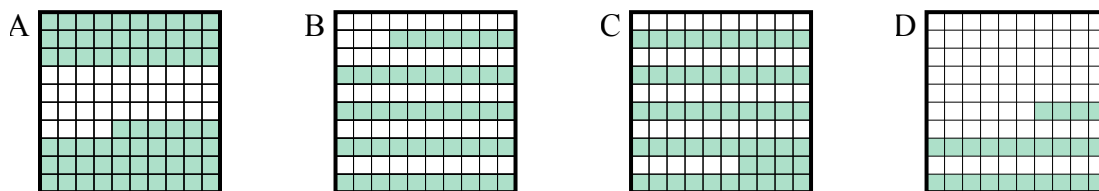


1. _____
2. _____
3. _____
4. _____
5. _____
6. _____

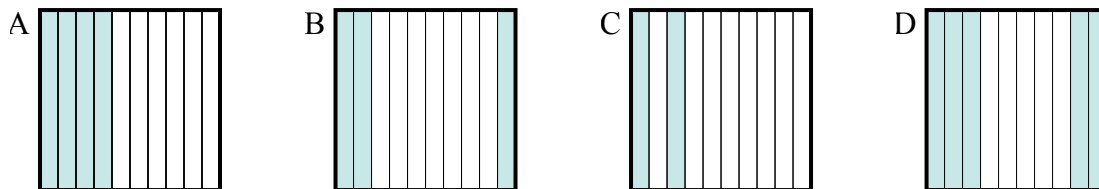


Определите, под какой буквой находится правильный ответ.

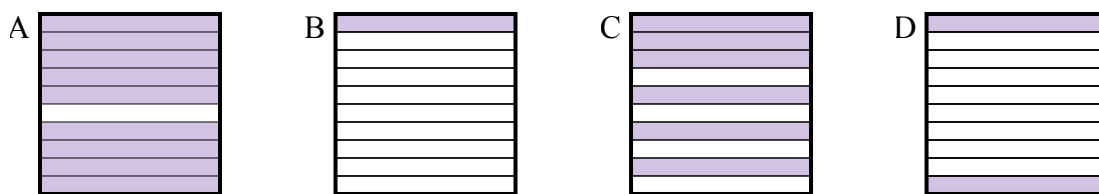
- 1) Что нужно прибавить в решетке 10×10 , которая представляет десятичную дробь, чтобы после прибавления $0,76$, ответ получился $1,00$?



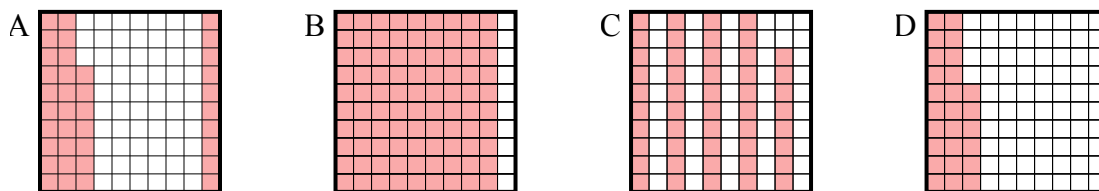
- 2) Что нужно прибавить в решетке 10×1 , которая представляет десятичную дробь, чтобы после прибавления $0,5$, ответ получился $1,00$?



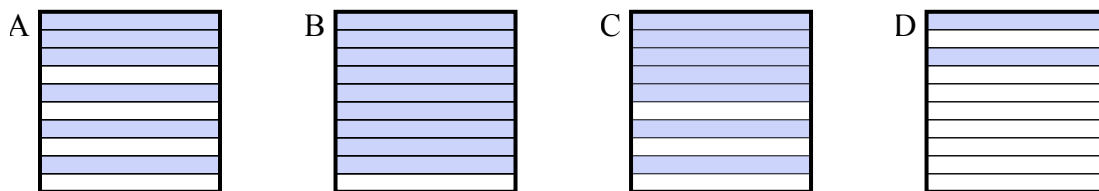
- 3) Что нужно прибавить в решетке 10×1 , которая представляет десятичную дробь, чтобы после прибавления $0,1$, ответ получился $1,00$?



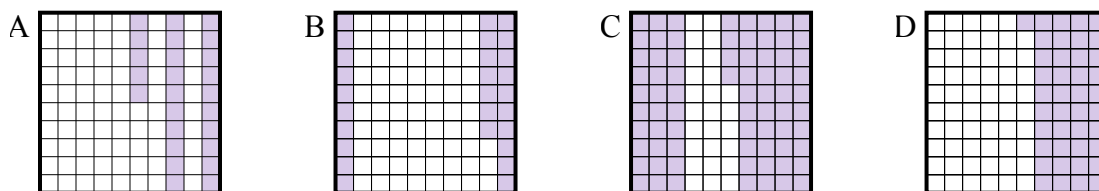
- 4) Что нужно прибавить в решетке 10×10 , которая представляет десятичную дробь, чтобы после прибавления $0,63$, ответ получился $1,00$?



- 5) Что нужно прибавить в решетке 10×1 , которая представляет десятичную дробь, чтобы после прибавления $0,3$, ответ получился $1,00$?



- 6) Что нужно прибавить в решетке 10×10 , которая представляет десятичную дробь, чтобы после прибавления $0,75$, ответ получился $1,00$?

**Ответы**1. **D** 2. **D** 3. **A** 4. **A** 5. **C** 6. **A**