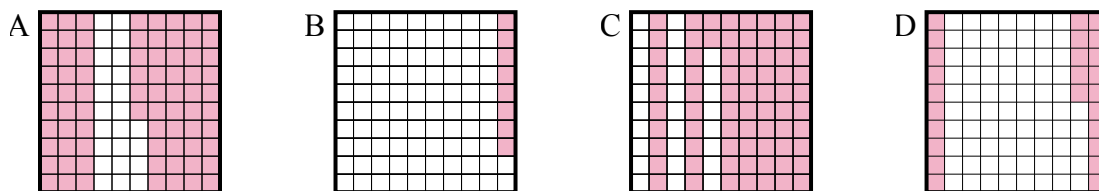




Определите, под какой буквой находится правильный ответ.

Ответы

- 1) Что нужно прибавить в решетке  $10 \times 10$ , которая представляет десятичную дробь, чтобы после прибавления  $0,75$ , ответ получился  $1,00$ ?

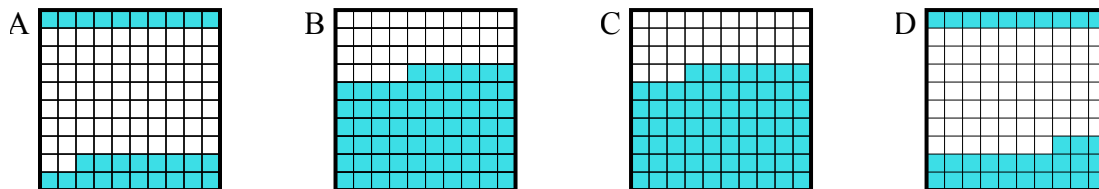


1. \_\_\_\_\_

2. \_\_\_\_\_

3. \_\_\_\_\_

- 2) Что нужно прибавить в решетке  $10 \times 10$ , которая представляет десятичную дробь, чтобы после прибавления  $0,67$ , ответ получился  $1,00$ ?

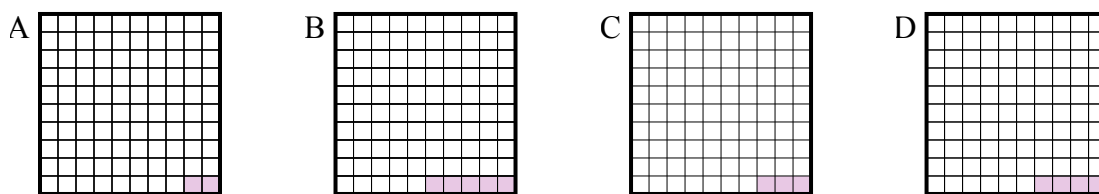


4. \_\_\_\_\_

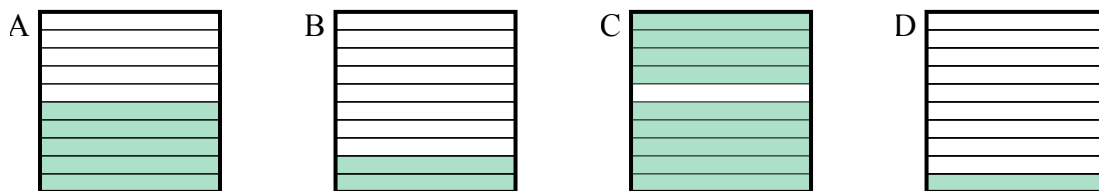
5. \_\_\_\_\_

6. \_\_\_\_\_

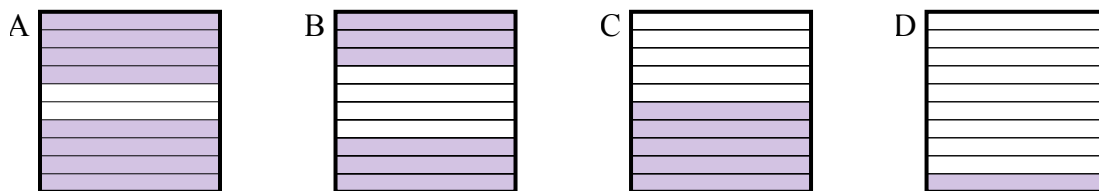
- 3) Что нужно прибавить в решетке  $10 \times 10$ , которая представляет десятичную дробь, чтобы после прибавления  $0,97$ , ответ получился  $1,00$ ?



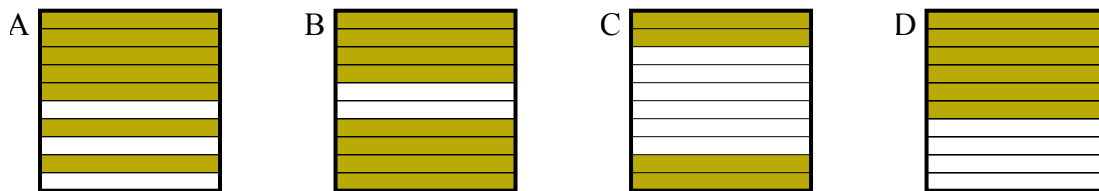
- 4) Что нужно прибавить в решетке  $10 \times 1$ , которая представляет десятичную дробь, чтобы после прибавления  $0,1$ , ответ получился  $1,00$ ?



- 5) Что нужно прибавить в решетке  $10 \times 1$ , которая представляет десятичную дробь, чтобы после прибавления  $0,2$ , ответ получился  $1,00$ ?



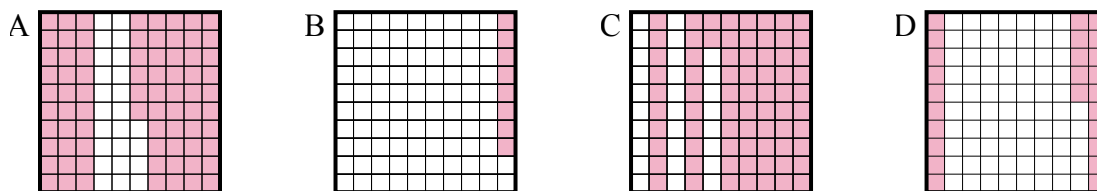
- 6) Что нужно прибавить в решетке  $10 \times 1$ , которая представляет десятичную дробь, чтобы после прибавления  $0,6$ , ответ получился  $1,00$ ?



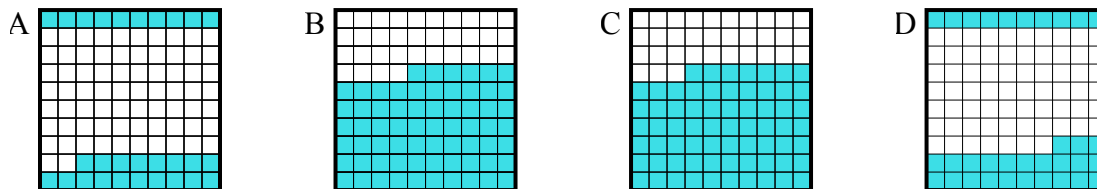


Определите, под какой буквой находится правильный ответ.

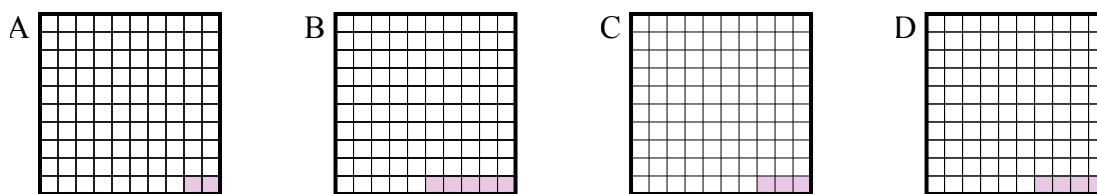
- 1) Что нужно прибавить в решетке  $10 \times 10$ , которая представляет десятичную дробь, чтобы после прибавления  $0,75$ , ответ получился  $1,00$ ?



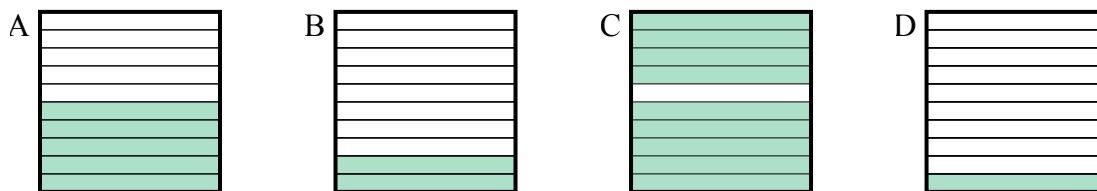
- 2) Что нужно прибавить в решетке  $10 \times 10$ , которая представляет десятичную дробь, чтобы после прибавления  $0,67$ , ответ получился  $1,00$ ?



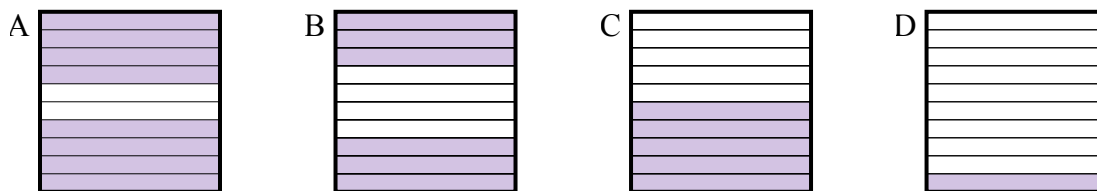
- 3) Что нужно прибавить в решетке  $10 \times 10$ , которая представляет десятичную дробь, чтобы после прибавления  $0,97$ , ответ получился  $1,00$ ?



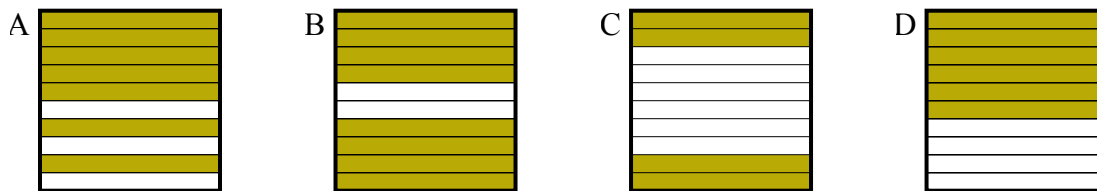
- 4) Что нужно прибавить в решетке  $10 \times 1$ , которая представляет десятичную дробь, чтобы после прибавления  $0,1$ , ответ получился  $1,00$ ?



- 5) Что нужно прибавить в решетке  $10 \times 1$ , которая представляет десятичную дробь, чтобы после прибавления  $0,2$ , ответ получился  $1,00$ ?



- 6) Что нужно прибавить в решетке  $10 \times 1$ , которая представляет десятичную дробь, чтобы после прибавления  $0,6$ , ответ получился  $1,00$ ?

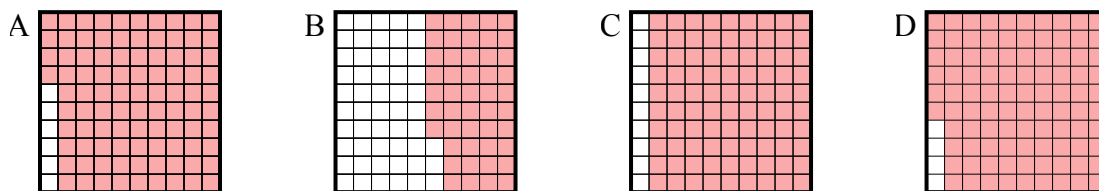
**Ответы**1. **D**2. **D**3. **C**4. **C**5. **A**6. **C**



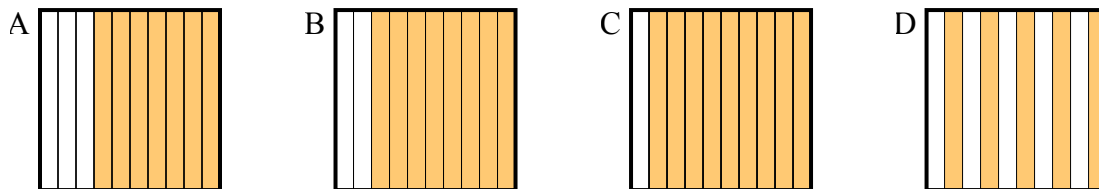
Определите, под какой буквой находится правильный ответ.

Ответы

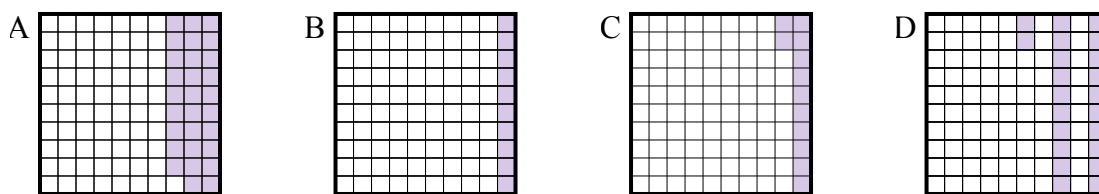
- 1) Что нужно прибавить в решетке  $10 \times 10$ , которая представляет десятичную дробь, чтобы после прибавления  $0,04$ , ответ получился  $1,00$ ?



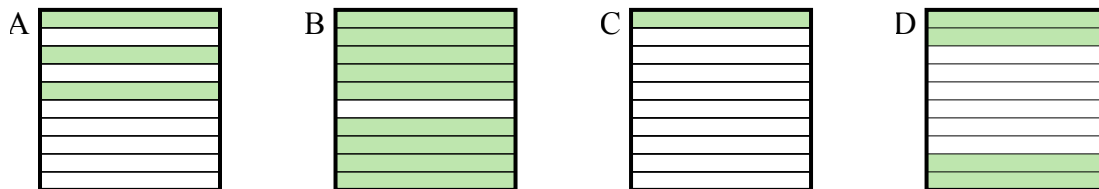
- 2) Что нужно прибавить в решетке  $10 \times 1$ , которая представляет десятичную дробь, чтобы после прибавления  $0,5$ , ответ получился  $1,00$ ?



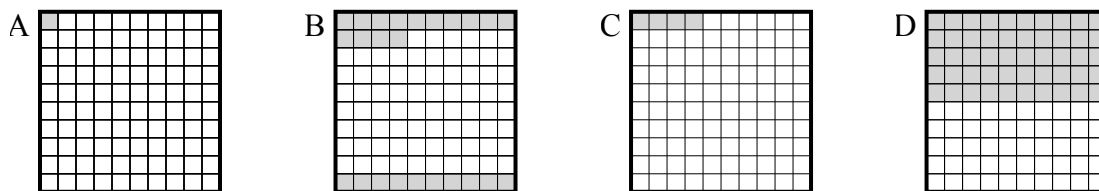
- 3) Что нужно прибавить в решетке  $10 \times 10$ , которая представляет десятичную дробь, чтобы после прибавления  $0,88$ , ответ получился  $1,00$ ?



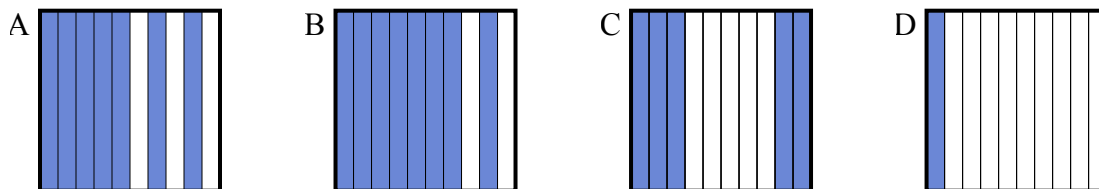
- 4) Что нужно прибавить в решетке  $10 \times 1$ , которая представляет десятичную дробь, чтобы после прибавления  $0,6$ , ответ получился  $1,00$ ?



- 5) Что нужно прибавить в решетке  $10 \times 10$ , которая представляет десятичную дробь, чтобы после прибавления  $0,96$ , ответ получился  $1,00$ ?



- 6) Что нужно прибавить в решетке  $10 \times 1$ , которая представляет десятичную дробь, чтобы после прибавления  $0,3$ , ответ получился  $1,00$ ?

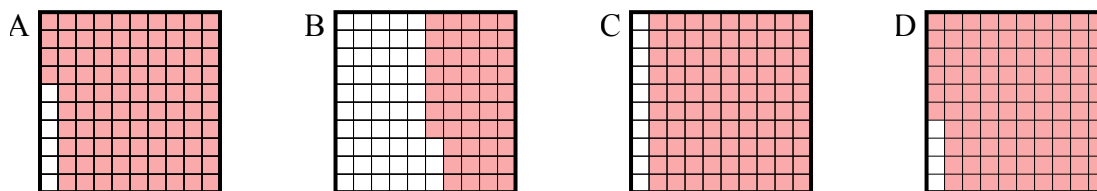


1. \_\_\_\_\_
2. \_\_\_\_\_
3. \_\_\_\_\_
4. \_\_\_\_\_
5. \_\_\_\_\_
6. \_\_\_\_\_

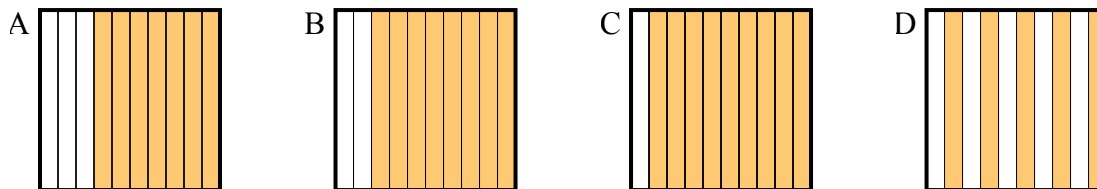


Определите, под какой буквой находится правильный ответ.

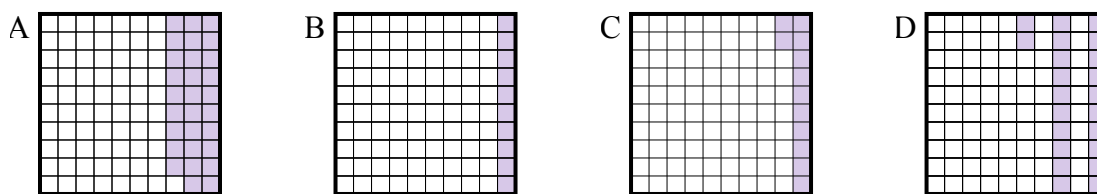
- 1) Что нужно прибавить в решетке  $10 \times 10$ , которая представляет десятичную дробь, чтобы после прибавления  $0,04$ , ответ получился  $1,00$ ?



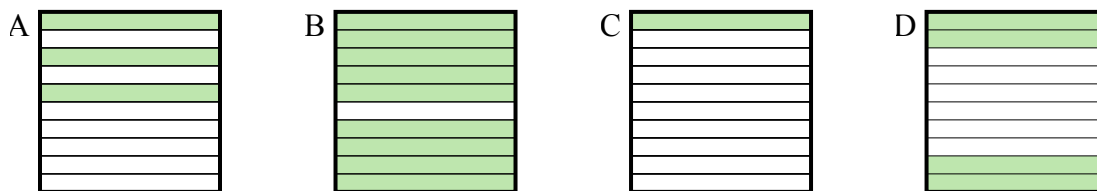
- 2) Что нужно прибавить в решетке  $10 \times 1$ , которая представляет десятичную дробь, чтобы после прибавления  $0,5$ , ответ получился  $1,00$ ?



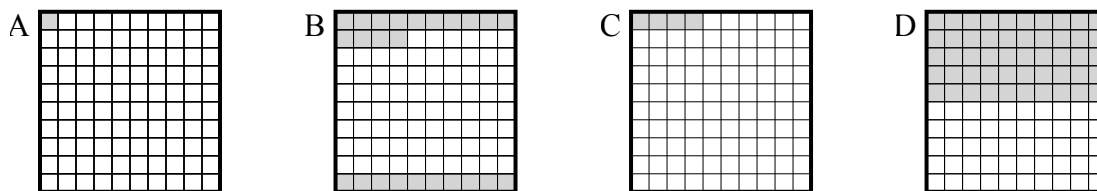
- 3) Что нужно прибавить в решетке  $10 \times 10$ , которая представляет десятичную дробь, чтобы после прибавления  $0,88$ , ответ получился  $1,00$ ?



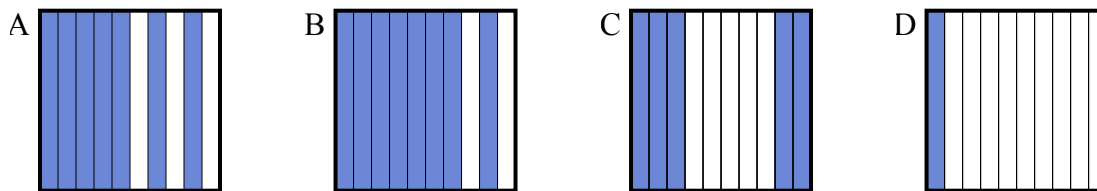
- 4) Что нужно прибавить в решетке  $10 \times 1$ , которая представляет десятичную дробь, чтобы после прибавления  $0,6$ , ответ получился  $1,00$ ?



- 5) Что нужно прибавить в решетке  $10 \times 10$ , которая представляет десятичную дробь, чтобы после прибавления  $0,96$ , ответ получился  $1,00$ ?



- 6) Что нужно прибавить в решетке  $10 \times 1$ , которая представляет десятичную дробь, чтобы после прибавления  $0,3$ , ответ получился  $1,00$ ?

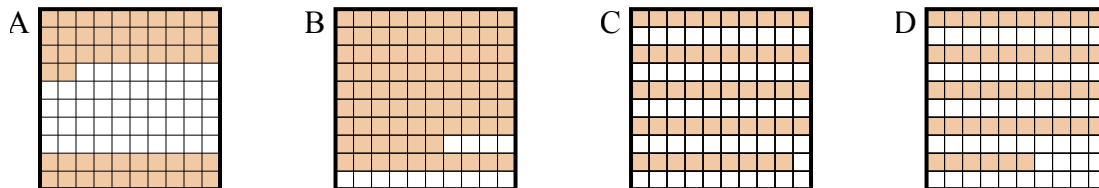
Ответы1.     **D**    2.     **D**    3.     **C**    4.     **D**    5.     **C**    6.     **A**



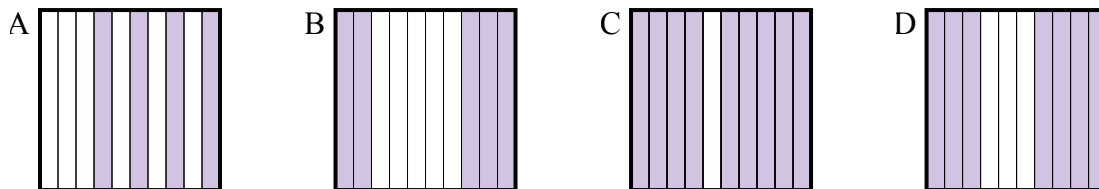
Определите, под какой буквой находится правильный ответ.

Ответы

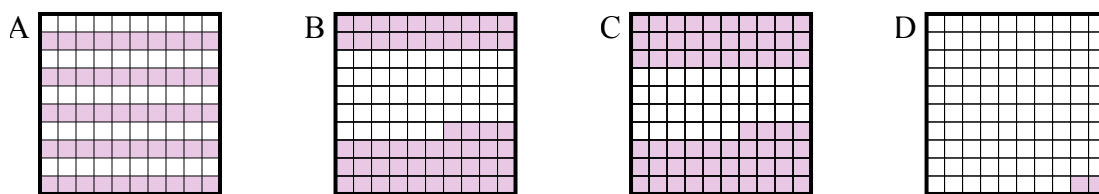
- 1) Что нужно прибавить в решетке  $10 \times 10$ , которая представляет десятичную дробь, чтобы после прибавления 0,48, ответ получился 1,00?



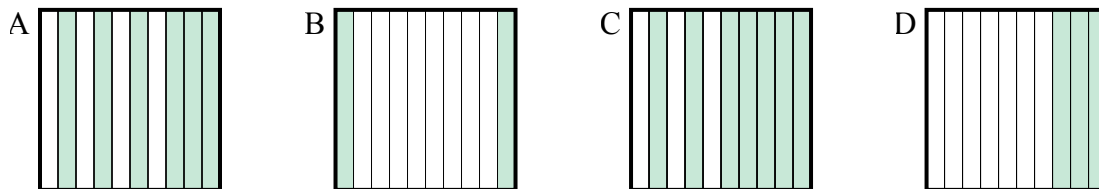
- 2) Что нужно прибавить в решетке  $10 \times 1$ , которая представляет десятичную дробь, чтобы после прибавления 0,5, ответ получился 1,00?



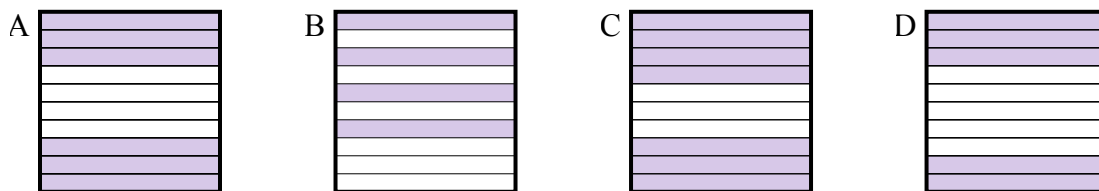
- 3) Что нужно прибавить в решетке  $10 \times 10$ , которая представляет десятичную дробь, чтобы после прибавления 0,5, ответ получился 1,00?



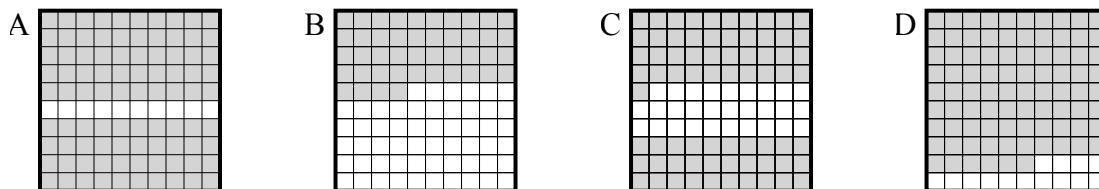
- 4) Что нужно прибавить в решетке  $10 \times 1$ , которая представляет десятичную дробь, чтобы после прибавления 0,8, ответ получился 1,00?



- 5) Что нужно прибавить в решетке  $10 \times 1$ , которая представляет десятичную дробь, чтобы после прибавления 0,6, ответ получился 1,00?



- 6) Что нужно прибавить в решетке  $10 \times 10$ , которая представляет десятичную дробь, чтобы после прибавления 0,1, ответ получился 1,00?

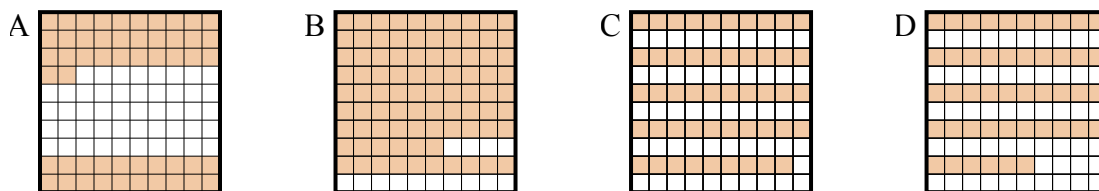


1. \_\_\_\_\_  
2. \_\_\_\_\_  
3. \_\_\_\_\_  
4. \_\_\_\_\_  
5. \_\_\_\_\_  
6. \_\_\_\_\_

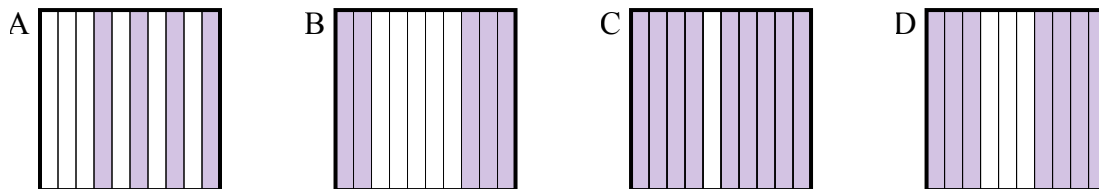


Определите, под какой буквой находится правильный ответ.

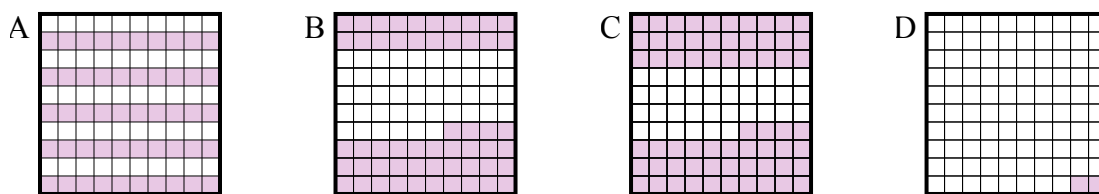
- 1) Что нужно прибавить в решетке  $10 \times 10$ , которая представляет десятичную дробь, чтобы после прибавления 0,48, ответ получился 1,00?



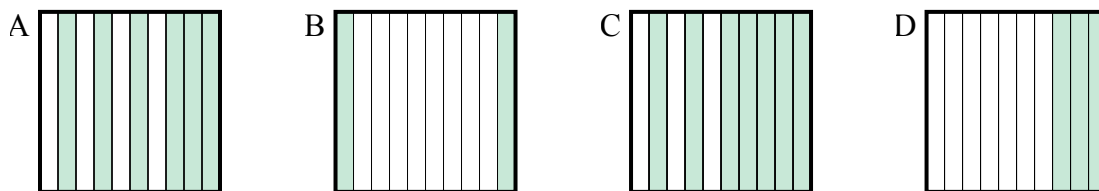
- 2) Что нужно прибавить в решетке  $10 \times 1$ , которая представляет десятичную дробь, чтобы после прибавления 0,5, ответ получился 1,00?



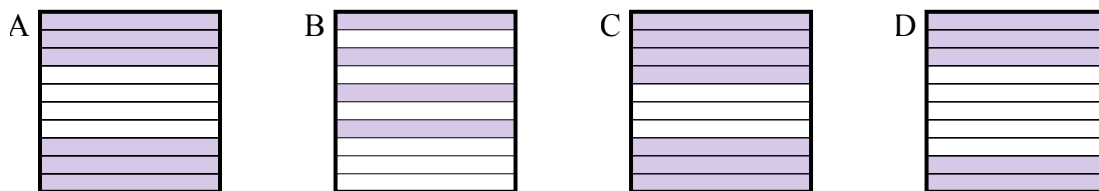
- 3) Что нужно прибавить в решетке  $10 \times 10$ , которая представляет десятичную дробь, чтобы после прибавления 0,5, ответ получился 1,00?



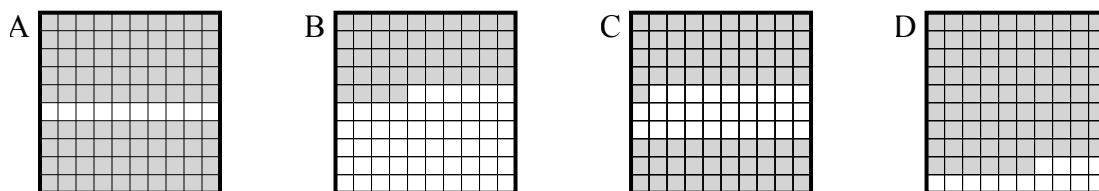
- 4) Что нужно прибавить в решетке  $10 \times 1$ , которая представляет десятичную дробь, чтобы после прибавления 0,8, ответ получился 1,00?



- 5) Что нужно прибавить в решетке  $10 \times 1$ , которая представляет десятичную дробь, чтобы после прибавления 0,6, ответ получился 1,00?



- 6) Что нужно прибавить в решетке  $10 \times 10$ , которая представляет десятичную дробь, чтобы после прибавления 0,1, ответ получился 1,00?

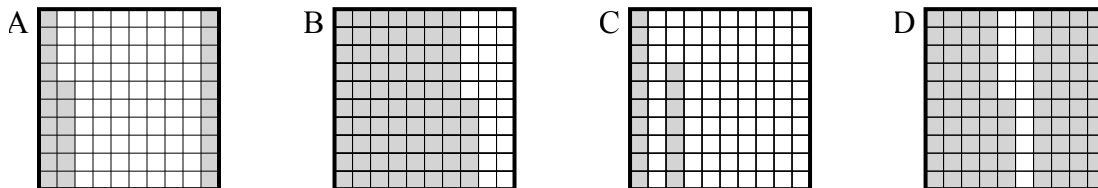
**Ответы**1.          **A**2.          **B**3.          **A**4.          **B**5.          **B**6.          **A**



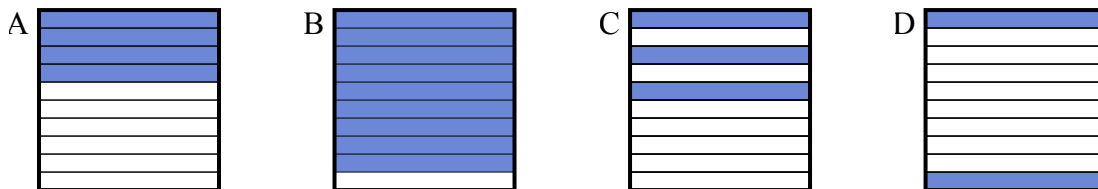
Определите, под какой буквой находится правильный ответ.

**Ответы**

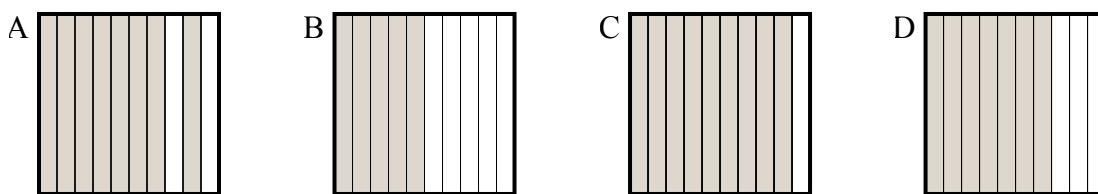
- 1) Что нужно прибавить в решетке  $10 \times 10$ , которая представляет десятичную дробь, чтобы после прибавления  $0,74$ , ответ получился  $1,00$ ?



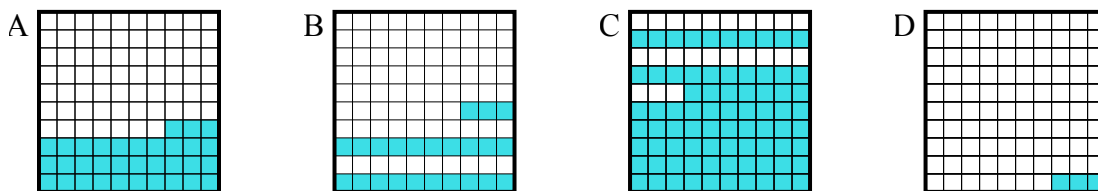
- 2) Что нужно прибавить в решетке  $10 \times 1$ , которая представляет десятичную дробь, чтобы после прибавления  $0,1$ , ответ получился  $1,00$ ?



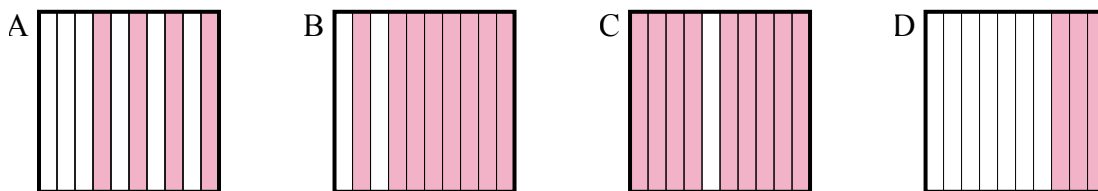
- 3) Что нужно прибавить в решетке  $10 \times 1$ , которая представляет десятичную дробь, чтобы после прибавления  $0,5$ , ответ получился  $1,00$ ?



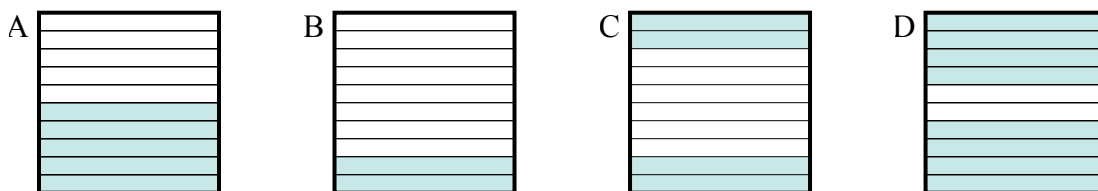
- 4) Что нужно прибавить в решетке  $10 \times 10$ , которая представляет десятичную дробь, чтобы после прибавления  $0,77$ , ответ получился  $1,00$ ?



- 5) Что нужно прибавить в решетке  $10 \times 1$ , которая представляет десятичную дробь, чтобы после прибавления  $0,7$ , ответ получился  $1,00$ ?



- 6) Что нужно прибавить в решетке  $10 \times 1$ , которая представляет десятичную дробь, чтобы после прибавления  $0,6$ , ответ получился  $1,00$ ?

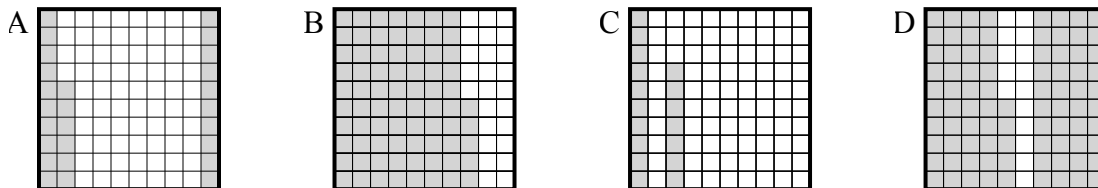


1. \_\_\_\_\_  
2. \_\_\_\_\_  
3. \_\_\_\_\_  
4. \_\_\_\_\_  
5. \_\_\_\_\_  
6. \_\_\_\_\_

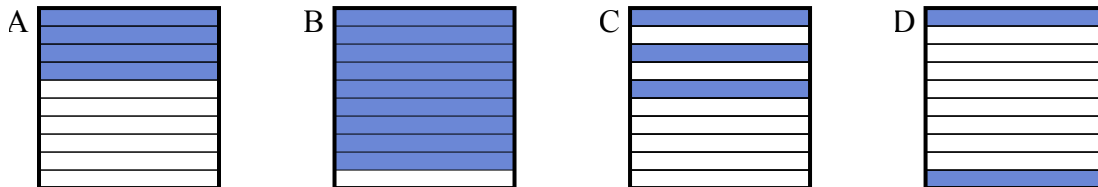


Определите, под какой буквой находится правильный ответ.

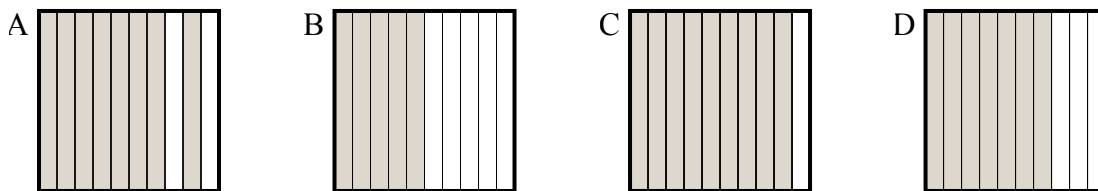
- 1) Что нужно прибавить в решетке  $10 \times 10$ , которая представляет десятичную дробь, чтобы после прибавления  $0,74$ , ответ получился  $1,00$ ?



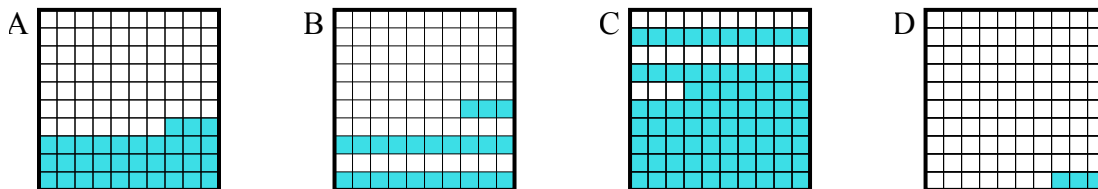
- 2) Что нужно прибавить в решетке  $10 \times 1$ , которая представляет десятичную дробь, чтобы после прибавления  $0,1$ , ответ получился  $1,00$ ?



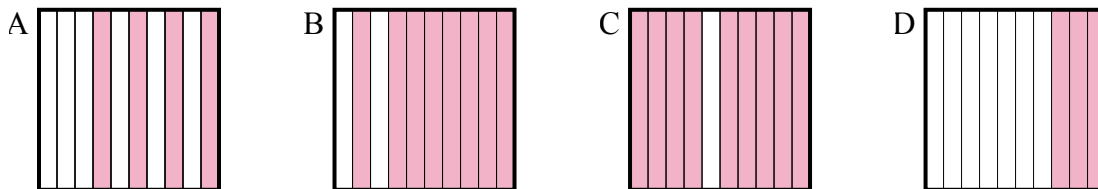
- 3) Что нужно прибавить в решетке  $10 \times 1$ , которая представляет десятичную дробь, чтобы после прибавления  $0,5$ , ответ получился  $1,00$ ?



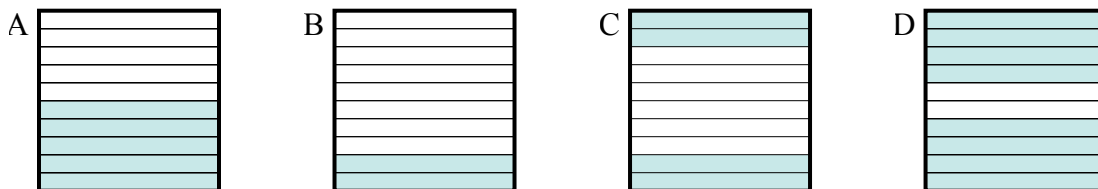
- 4) Что нужно прибавить в решетке  $10 \times 10$ , которая представляет десятичную дробь, чтобы после прибавления  $0,77$ , ответ получился  $1,00$ ?



- 5) Что нужно прибавить в решетке  $10 \times 1$ , которая представляет десятичную дробь, чтобы после прибавления  $0,7$ , ответ получился  $1,00$ ?



- 6) Что нужно прибавить в решетке  $10 \times 1$ , которая представляет десятичную дробь, чтобы после прибавления  $0,6$ , ответ получился  $1,00$ ?

**Ответы**1.     **A**    2.     **B**    3.     **B**    4.     **B**    5.     **D**    6.     **C**

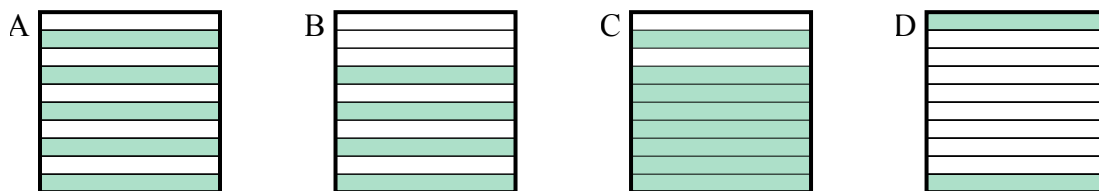




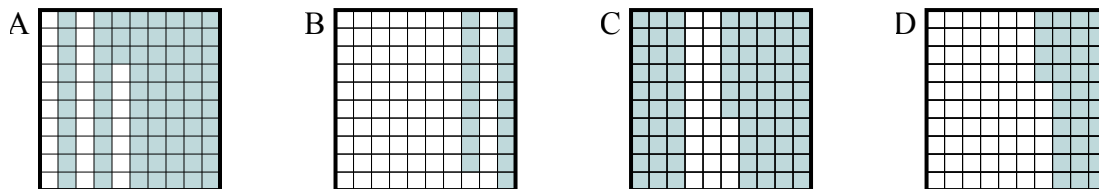
Определите, под какой буквой находится правильный ответ.

Ответы

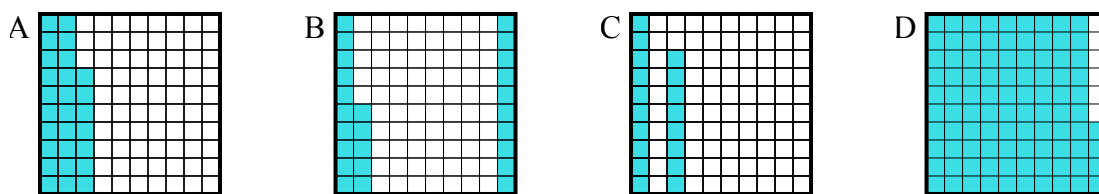
- 1) Что нужно прибавить в решетке  $10 \times 1$ , которая представляет десятичную дробь, чтобы после прибавления  $0,2$ , ответ получился  $1,00$ ?



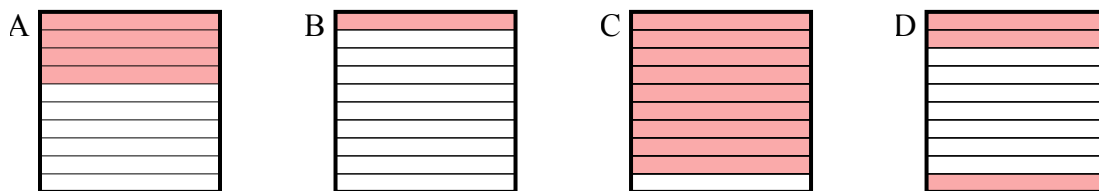
- 2) Что нужно прибавить в решетке  $10 \times 10$ , которая представляет десятичную дробь, чтобы после прибавления  $0,27$ , ответ получился  $1,00$ ?



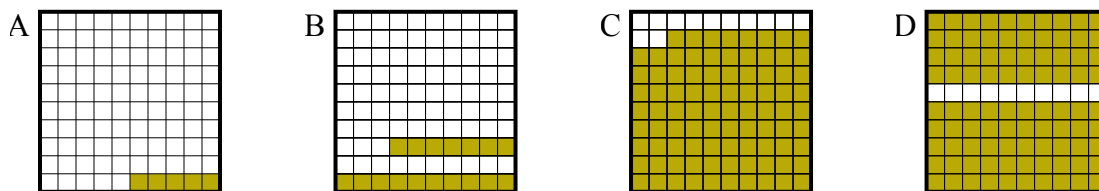
- 3) Что нужно прибавить в решетке  $10 \times 10$ , которая представляет десятичную дробь, чтобы после прибавления  $0,06$ , ответ получился  $1,00$ ?



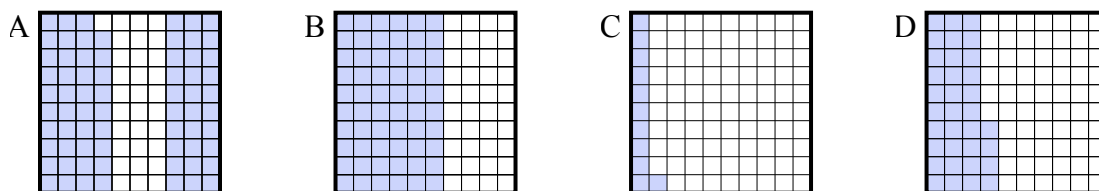
- 4) Что нужно прибавить в решетке  $10 \times 1$ , которая представляет десятичную дробь, чтобы после прибавления  $0,6$ , ответ получился  $1,00$ ?



- 5) Что нужно прибавить в решетке  $10 \times 10$ , которая представляет десятичную дробь, чтобы после прибавления  $0,95$ , ответ получился  $1,00$ ?



- 6) Что нужно прибавить в решетке  $10 \times 10$ , которая представляет десятичную дробь, чтобы после прибавления  $0,89$ , ответ получился  $1,00$ ?

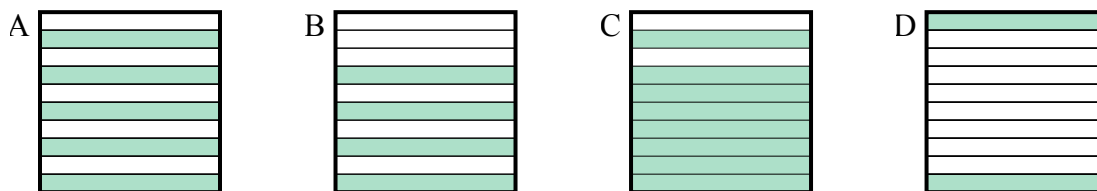


1. \_\_\_\_\_  
2. \_\_\_\_\_  
3. \_\_\_\_\_  
4. \_\_\_\_\_  
5. \_\_\_\_\_  
6. \_\_\_\_\_

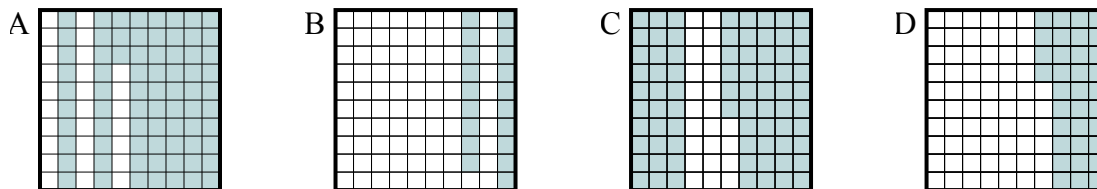


Определите, под какой буквой находится правильный ответ.

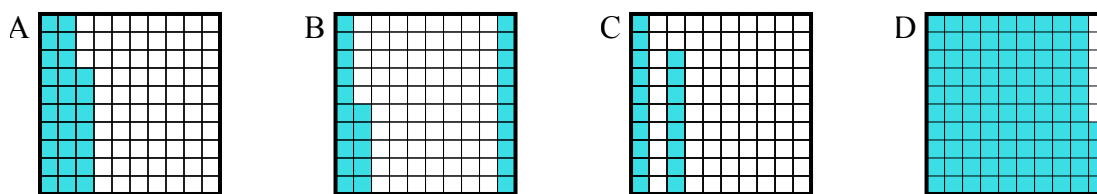
- 1) Что нужно прибавить в решетке  $10 \times 1$ , которая представляет десятичную дробь, чтобы после прибавления 0,2, ответ получился 1,00?



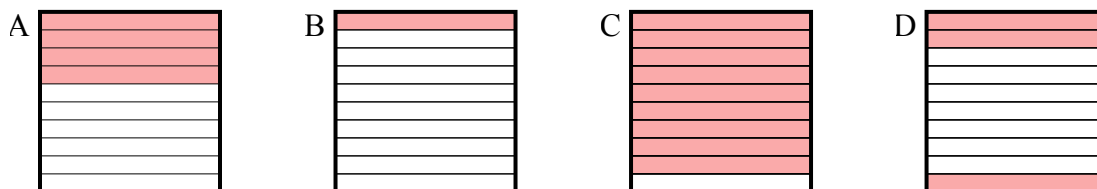
- 2) Что нужно прибавить в решетке  $10 \times 10$ , которая представляет десятичную дробь, чтобы после прибавления 0,27, ответ получился 1,00?



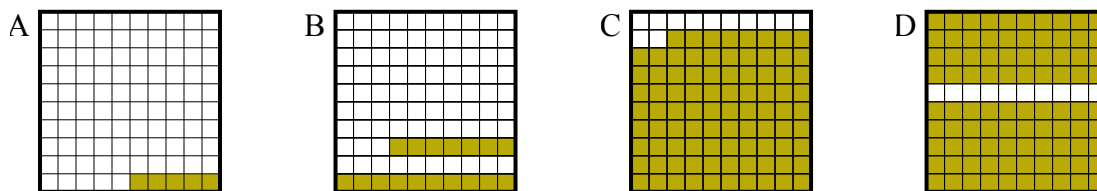
- 3) Что нужно прибавить в решетке  $10 \times 10$ , которая представляет десятичную дробь, чтобы после прибавления 0,06, ответ получился 1,00?



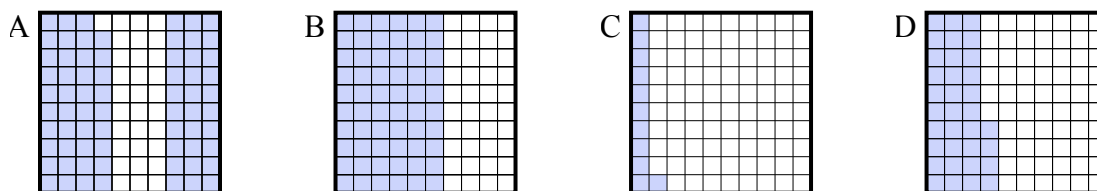
- 4) Что нужно прибавить в решетке  $10 \times 1$ , которая представляет десятичную дробь, чтобы после прибавления 0,6, ответ получился 1,00?



- 5) Что нужно прибавить в решетке  $10 \times 10$ , которая представляет десятичную дробь, чтобы после прибавления 0,95, ответ получился 1,00?



- 6) Что нужно прибавить в решетке  $10 \times 10$ , которая представляет десятичную дробь, чтобы после прибавления 0,89, ответ получился 1,00?

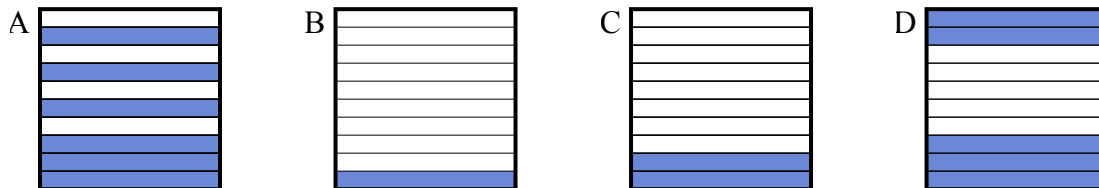
**Ответы**1.       **C**      2.       **A**      3.       **D**      4.       **A**      5.       **A**      6.       **C**



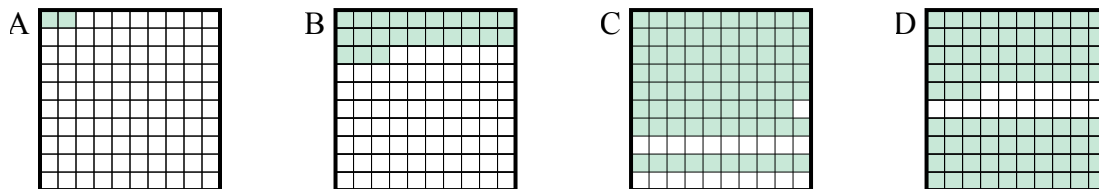
Определите, под какой буквой находится правильный ответ.

Ответы

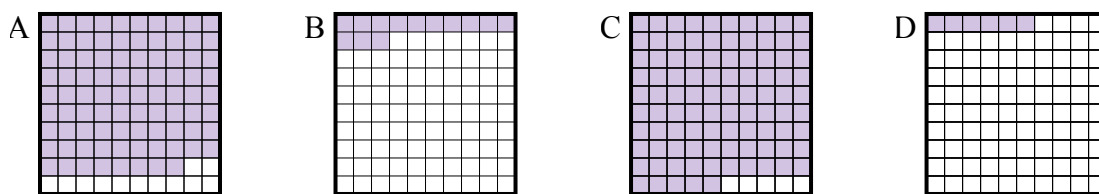
- 1) Что нужно прибавить в решетке  $10 \times 1$ , которая представляет десятичную дробь, чтобы после прибавления 0,9, ответ получился 1,00?



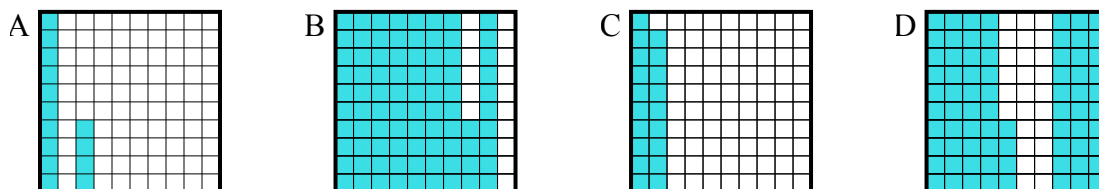
- 2) Что нужно прибавить в решетке  $10 \times 10$ , которая представляет десятичную дробь, чтобы после прибавления 0,21, ответ получился 1,00?



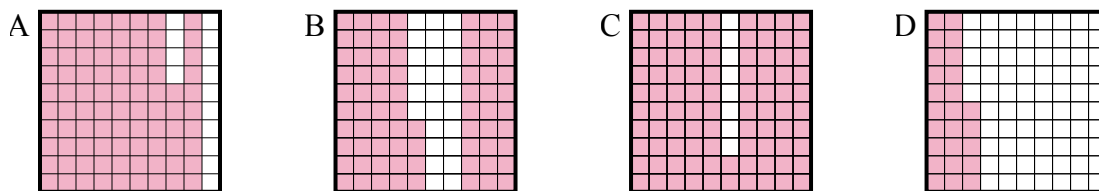
- 3) Что нужно прибавить в решетке  $10 \times 10$ , которая представляет десятичную дробь, чтобы после прибавления 0,87, ответ получился 1,00?



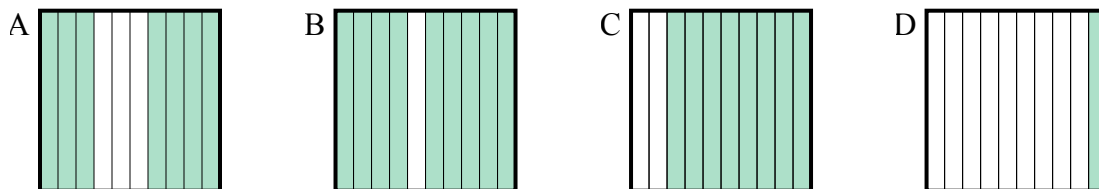
- 4) Что нужно прибавить в решетке  $10 \times 10$ , которая представляет десятичную дробь, чтобы после прибавления 0,86, ответ получился 1,00?



- 5) Что нужно прибавить в решетке  $10 \times 10$ , которая представляет десятичную дробь, чтобы после прибавления 0,14, ответ получился 1,00?



- 6) Что нужно прибавить в решетке  $10 \times 1$ , которая представляет десятичную дробь, чтобы после прибавления 0,3, ответ получился 1,00?

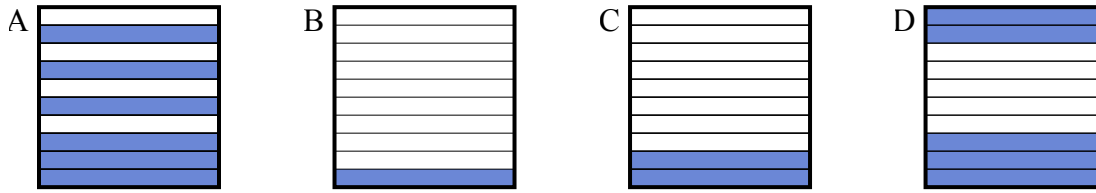


1. \_\_\_\_\_  
2. \_\_\_\_\_  
3. \_\_\_\_\_  
4. \_\_\_\_\_  
5. \_\_\_\_\_  
6. \_\_\_\_\_

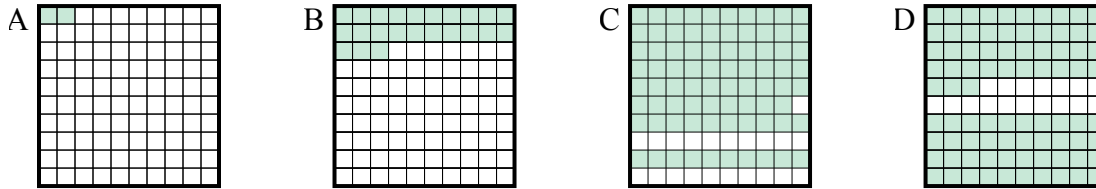


Определите, под какой буквой находится правильный ответ.

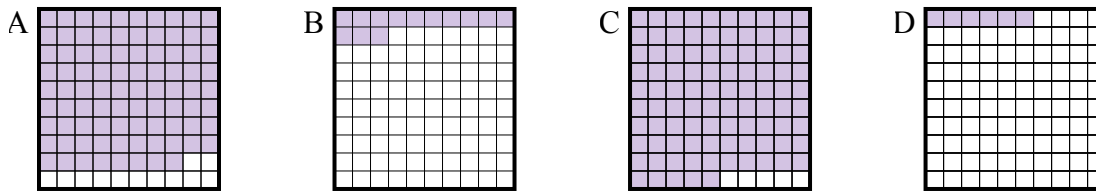
- 1) Что нужно прибавить в решетке  $10 \times 1$ , которая представляет десятичную дробь, чтобы после прибавления  $0,9$ , ответ получился  $1,00$ ?



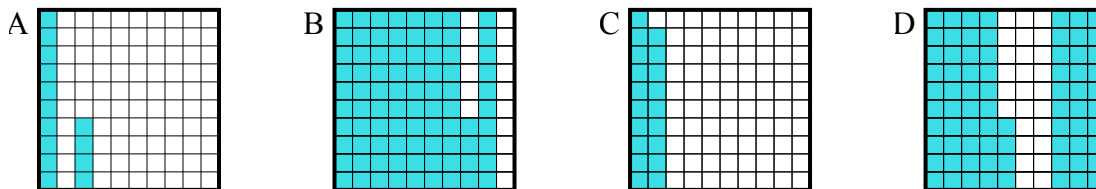
- 2) Что нужно прибавить в решетке  $10 \times 10$ , которая представляет десятичную дробь, чтобы после прибавления  $0,21$ , ответ получился  $1,00$ ?



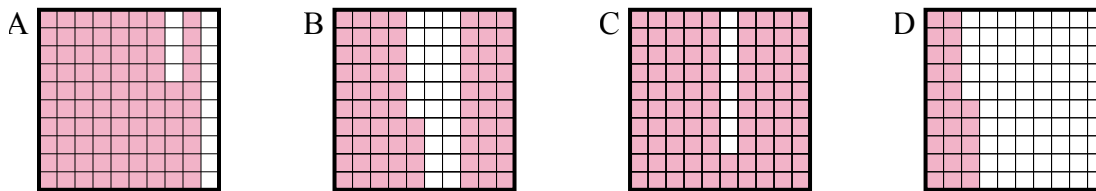
- 3) Что нужно прибавить в решетке  $10 \times 10$ , которая представляет десятичную дробь, чтобы после прибавления  $0,87$ , ответ получился  $1,00$ ?



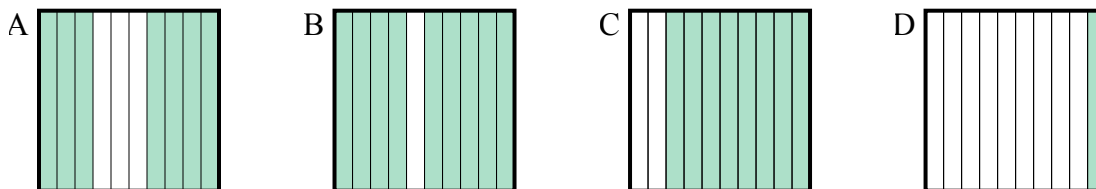
- 4) Что нужно прибавить в решетке  $10 \times 10$ , которая представляет десятичную дробь, чтобы после прибавления  $0,86$ , ответ получился  $1,00$ ?



- 5) Что нужно прибавить в решетке  $10 \times 10$ , которая представляет десятичную дробь, чтобы после прибавления  $0,14$ , ответ получился  $1,00$ ?



- 6) Что нужно прибавить в решетке  $10 \times 1$ , которая представляет десятичную дробь, чтобы после прибавления  $0,3$ , ответ получился  $1,00$ ?

**Ответы**

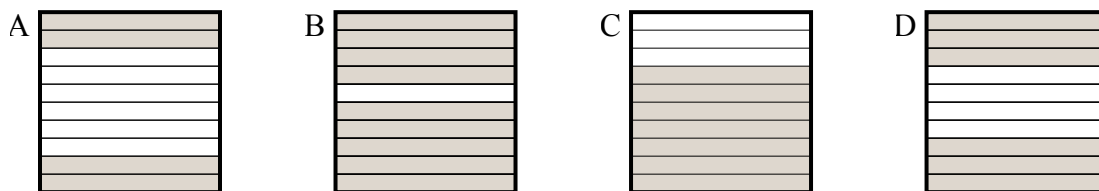
1.         **В**          
 2.         **С**          
 3.         **В**          
 4.         **А**          
 5.         **А**          
 6.         **А**



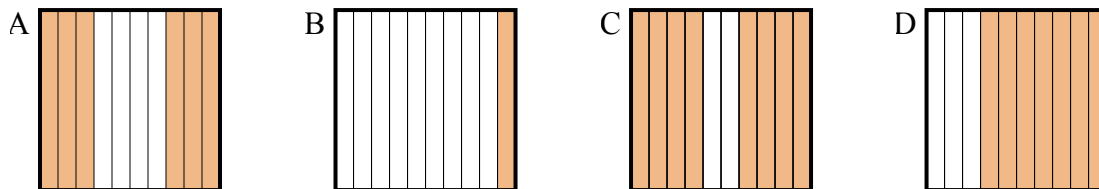
Определите, под какой буквой находится правильный ответ.

Ответы

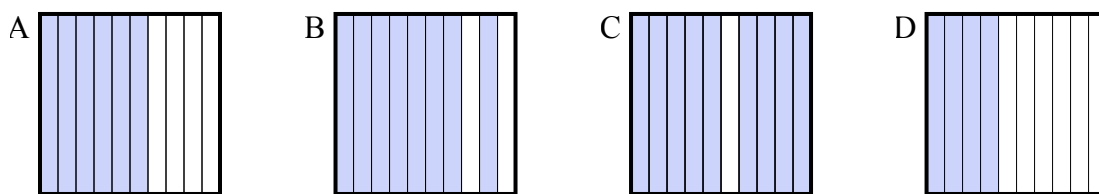
- 1) Что нужно прибавить в решетке  $10 \times 1$ , которая представляет десятичную дробь, чтобы после прибавления 0,3, ответ получился 1,00?



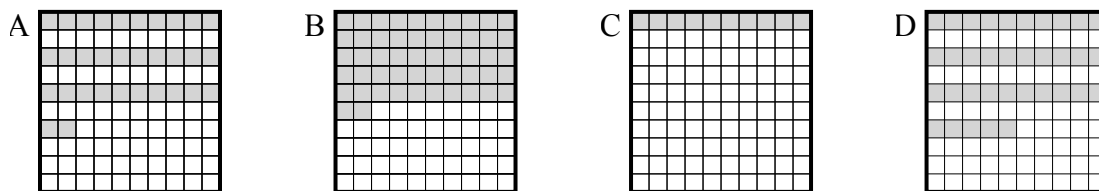
- 2) Что нужно прибавить в решетке  $10 \times 1$ , которая представляет десятичную дробь, чтобы после прибавления 0,4, ответ получился 1,00?



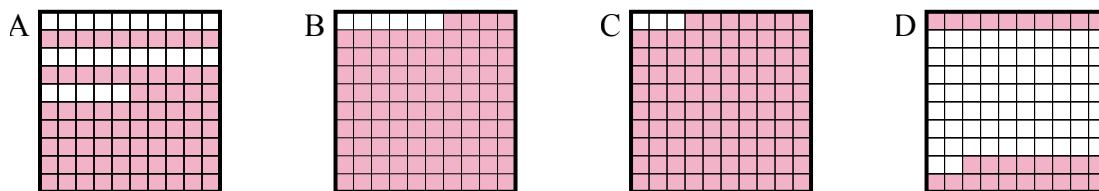
- 3) Что нужно прибавить в решетке  $10 \times 1$ , которая представляет десятичную дробь, чтобы после прибавления 0,6, ответ получился 1,00?



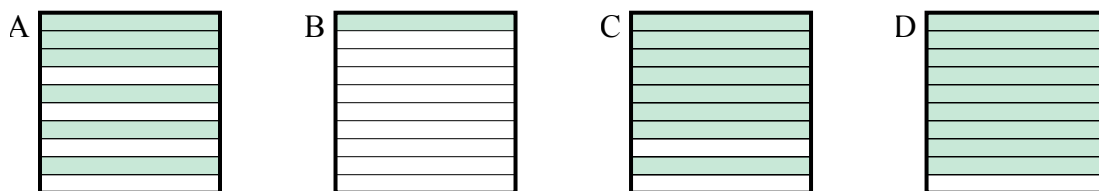
- 4) Что нужно прибавить в решетке  $10 \times 10$ , которая представляет десятичную дробь, чтобы после прибавления 0,65, ответ получился 1,00?



- 5) Что нужно прибавить в решетке  $10 \times 10$ , которая представляет десятичную дробь, чтобы после прибавления 0,06, ответ получился 1,00?



- 6) Что нужно прибавить в решетке  $10 \times 1$ , которая представляет десятичную дробь, чтобы после прибавления 0,9, ответ получился 1,00?

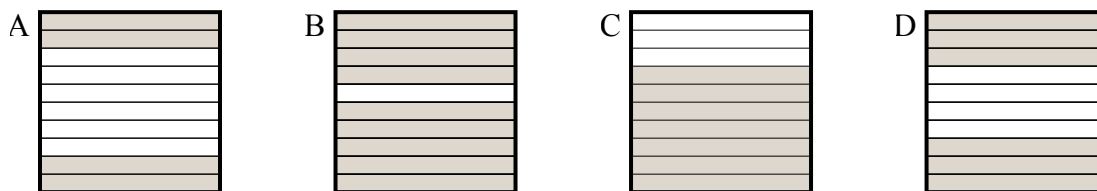


1. \_\_\_\_\_  
2. \_\_\_\_\_  
3. \_\_\_\_\_  
4. \_\_\_\_\_  
5. \_\_\_\_\_  
6. \_\_\_\_\_

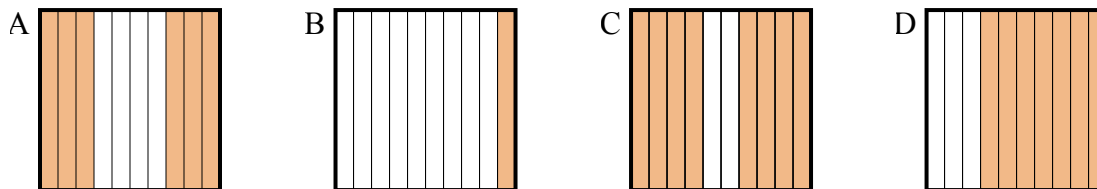


Определите, под какой буквой находится правильный ответ.

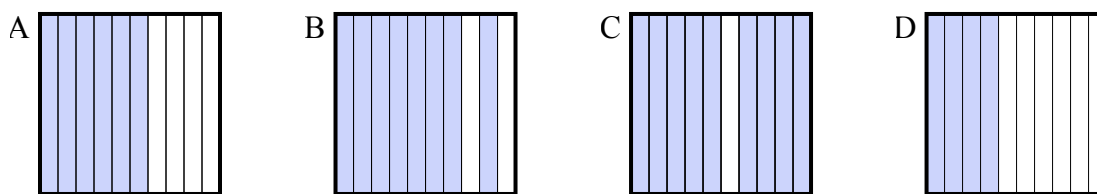
- 1) Что нужно прибавить в решетке  $10 \times 1$ , которая представляет десятичную дробь, чтобы после прибавления 0,3, ответ получился 1,00?



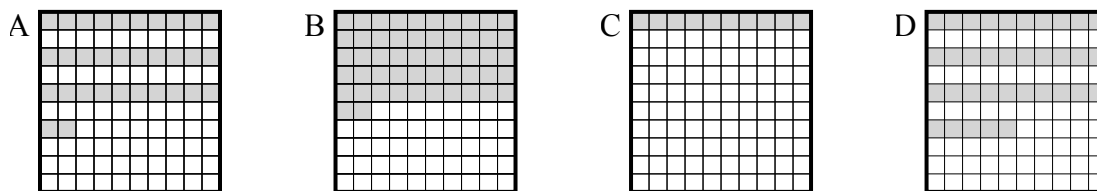
- 2) Что нужно прибавить в решетке  $10 \times 1$ , которая представляет десятичную дробь, чтобы после прибавления 0,4, ответ получился 1,00?



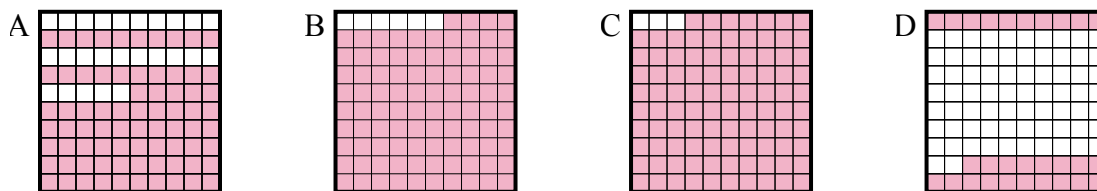
- 3) Что нужно прибавить в решетке  $10 \times 1$ , которая представляет десятичную дробь, чтобы после прибавления 0,6, ответ получился 1,00?



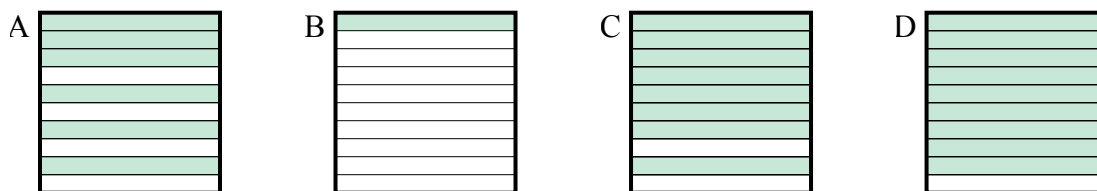
- 4) Что нужно прибавить в решетке  $10 \times 10$ , которая представляет десятичную дробь, чтобы после прибавления 0,65, ответ получился 1,00?



- 5) Что нужно прибавить в решетке  $10 \times 10$ , которая представляет десятичную дробь, чтобы после прибавления 0,06, ответ получился 1,00?



- 6) Что нужно прибавить в решетке  $10 \times 1$ , которая представляет десятичную дробь, чтобы после прибавления 0,9, ответ получился 1,00?

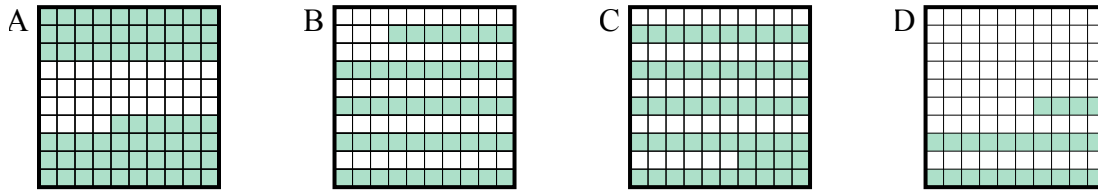
**Ответы**1.           **C**          2.           **A**          3.           **D**          4.           **D**          5.           **B**          6.           **B**



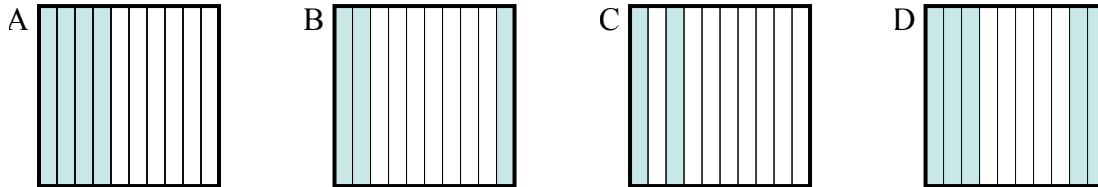
Определите, под какой буквой находится правильный ответ.

Ответы

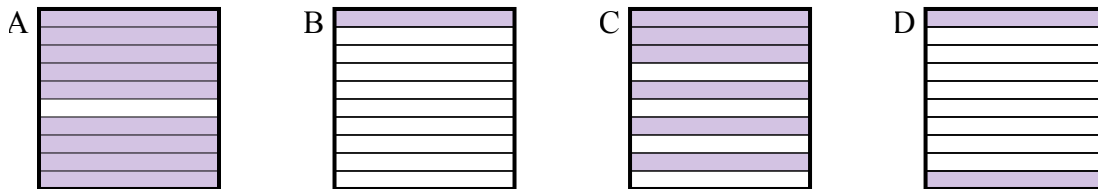
- 1) Что нужно прибавить в решетке  $10 \times 10$ , которая представляет десятичную дробь, чтобы после прибавления  $0,76$ , ответ получился  $1,00$ ?



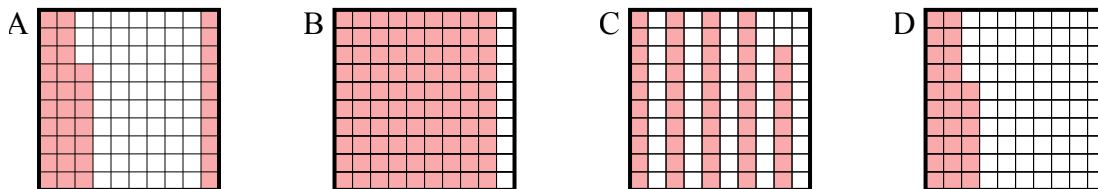
- 2) Что нужно прибавить в решетке  $10 \times 1$ , которая представляет десятичную дробь, чтобы после прибавления  $0,5$ , ответ получился  $1,00$ ?



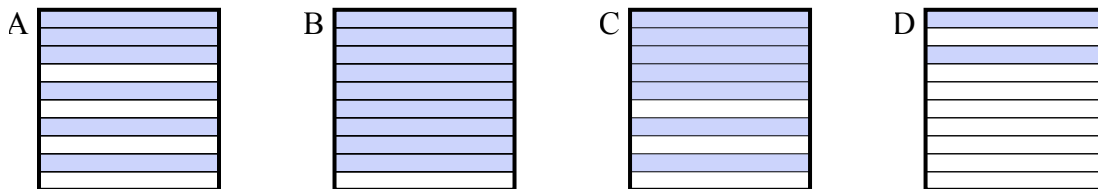
- 3) Что нужно прибавить в решетке  $10 \times 1$ , которая представляет десятичную дробь, чтобы после прибавления  $0,1$ , ответ получился  $1,00$ ?



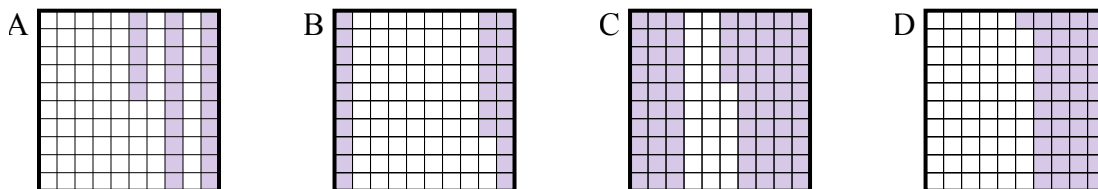
- 4) Что нужно прибавить в решетке  $10 \times 10$ , которая представляет десятичную дробь, чтобы после прибавления  $0,63$ , ответ получился  $1,00$ ?



- 5) Что нужно прибавить в решетке  $10 \times 1$ , которая представляет десятичную дробь, чтобы после прибавления  $0,3$ , ответ получился  $1,00$ ?



- 6) Что нужно прибавить в решетке  $10 \times 10$ , которая представляет десятичную дробь, чтобы после прибавления  $0,75$ , ответ получился  $1,00$ ?



1. \_\_\_\_\_

2. \_\_\_\_\_

3. \_\_\_\_\_

4. \_\_\_\_\_

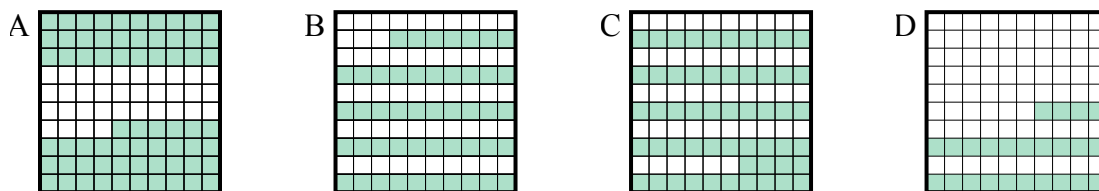
5. \_\_\_\_\_

6. \_\_\_\_\_

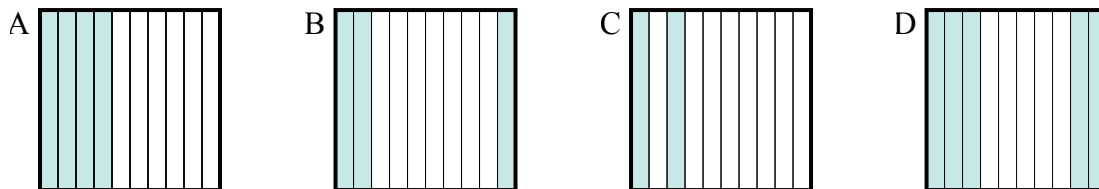


Определите, под какой буквой находится правильный ответ.

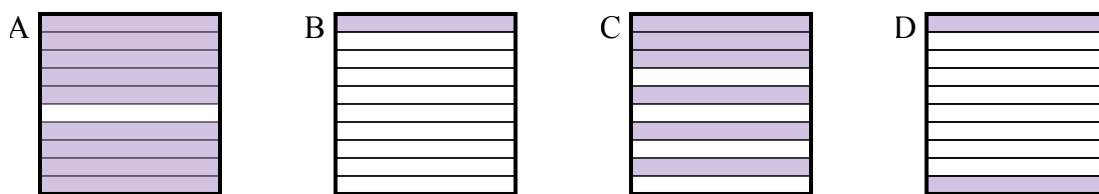
- 1) Что нужно прибавить в решетке  $10 \times 10$ , которая представляет десятичную дробь, чтобы после прибавления  $0,76$ , ответ получился  $1,00$ ?



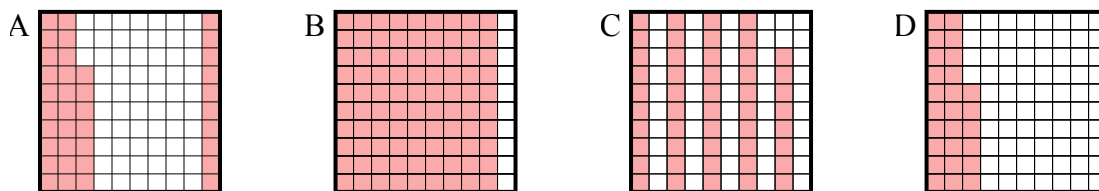
- 2) Что нужно прибавить в решетке  $10 \times 1$ , которая представляет десятичную дробь, чтобы после прибавления  $0,5$ , ответ получился  $1,00$ ?



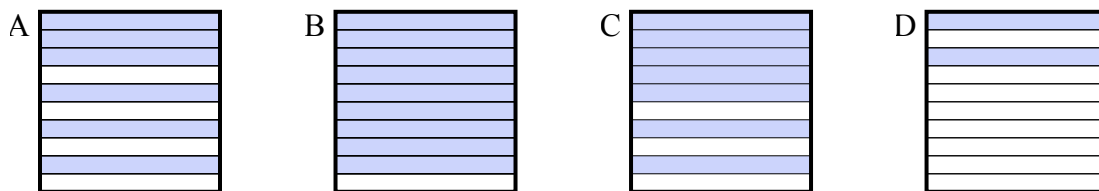
- 3) Что нужно прибавить в решетке  $10 \times 1$ , которая представляет десятичную дробь, чтобы после прибавления  $0,1$ , ответ получился  $1,00$ ?



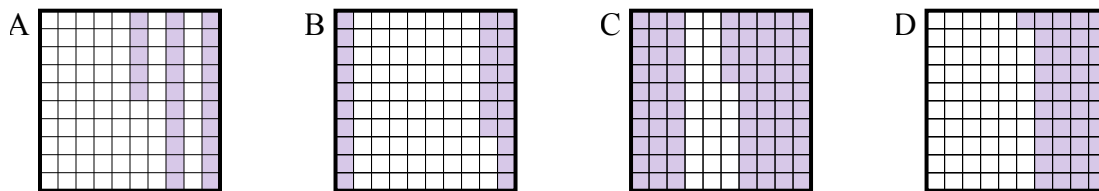
- 4) Что нужно прибавить в решетке  $10 \times 10$ , которая представляет десятичную дробь, чтобы после прибавления  $0,63$ , ответ получился  $1,00$ ?



- 5) Что нужно прибавить в решетке  $10 \times 1$ , которая представляет десятичную дробь, чтобы после прибавления  $0,3$ , ответ получился  $1,00$ ?



- 6) Что нужно прибавить в решетке  $10 \times 10$ , которая представляет десятичную дробь, чтобы после прибавления  $0,75$ , ответ получился  $1,00$ ?

**Отвeты**1.       **D**      2.       **D**      3.       **A**      4.       **A**      5.       **C**      6.       **A**

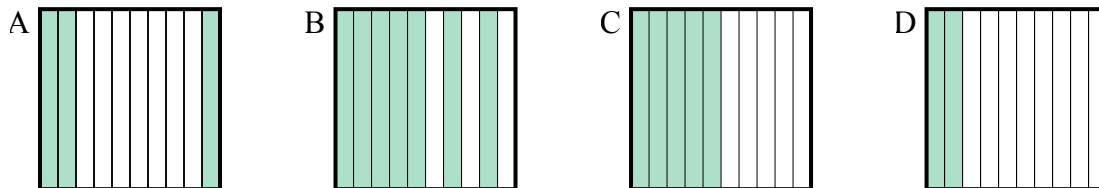




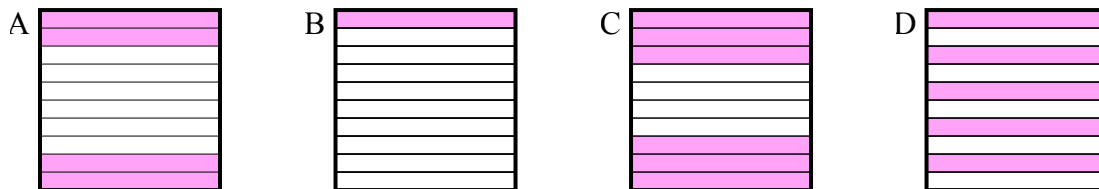
Определите, под какой буквой находится правильный ответ.

Ответы

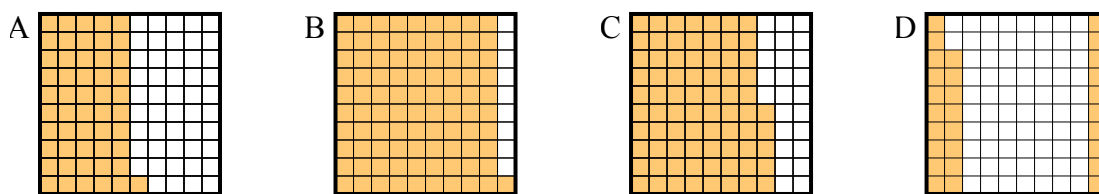
- 1) Что нужно прибавить в решетке  $10 \times 1$ , которая представляет десятичную дробь, чтобы после прибавления 0,5, ответ получился 1,00?



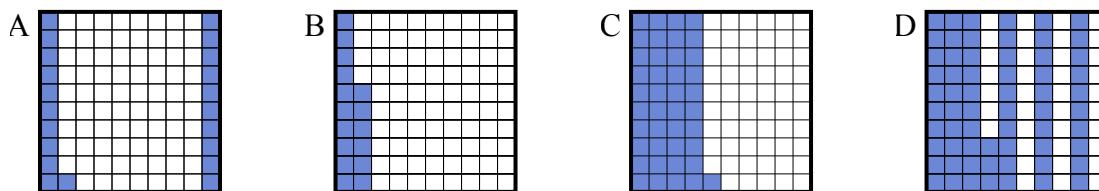
- 2) Что нужно прибавить в решетке  $10 \times 1$ , которая представляет десятичную дробь, чтобы после прибавления 0,6, ответ получился 1,00?



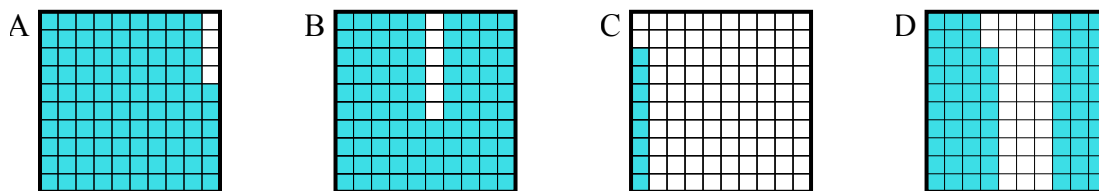
- 3) Что нужно прибавить в решетке  $10 \times 10$ , которая представляет десятичную дробь, чтобы после прибавления 0,72, ответ получился 1,00?



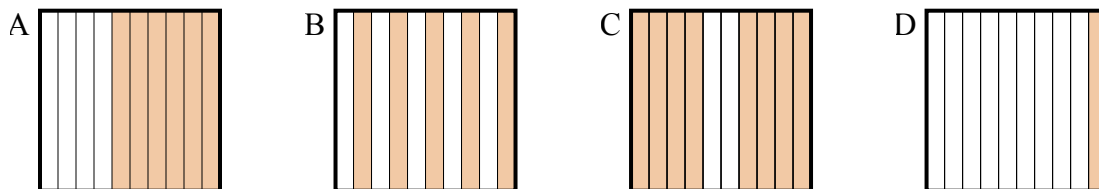
- 4) Что нужно прибавить в решетке  $10 \times 10$ , которая представляет десятичную дробь, чтобы после прибавления 0,59, ответ получился 1,00?



- 5) Что нужно прибавить в решетке  $10 \times 10$ , которая представляет десятичную дробь, чтобы после прибавления 0,32, ответ получился 1,00?



- 6) Что нужно прибавить в решетке  $10 \times 1$ , которая представляет десятичную дробь, чтобы после прибавления 0,4, ответ получился 1,00?

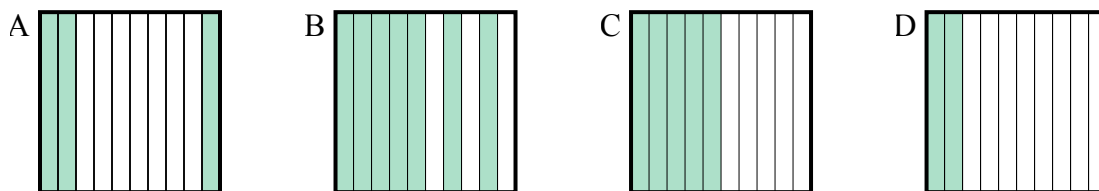


1. \_\_\_\_\_  
2. \_\_\_\_\_  
3. \_\_\_\_\_  
4. \_\_\_\_\_  
5. \_\_\_\_\_  
6. \_\_\_\_\_

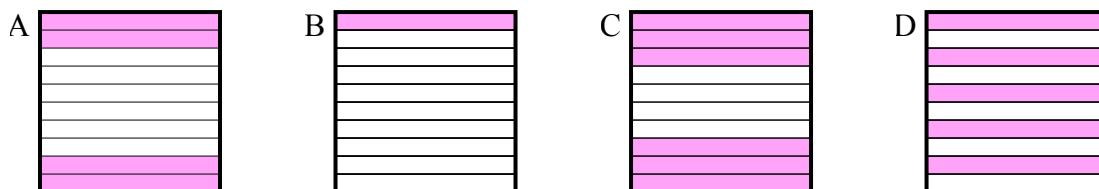


Определите, под какой буквой находится правильный ответ.

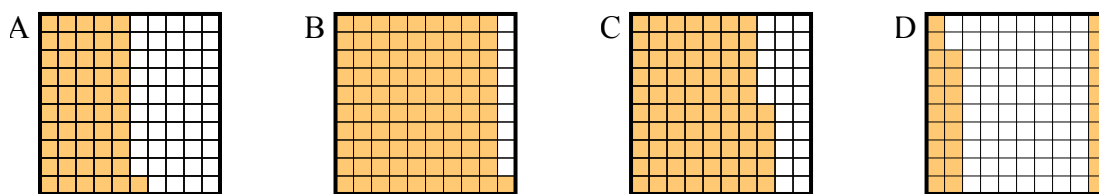
- 1) Что нужно прибавить в решетке  $10 \times 1$ , которая представляет десятичную дробь, чтобы после прибавления 0,5, ответ получился 1,00?



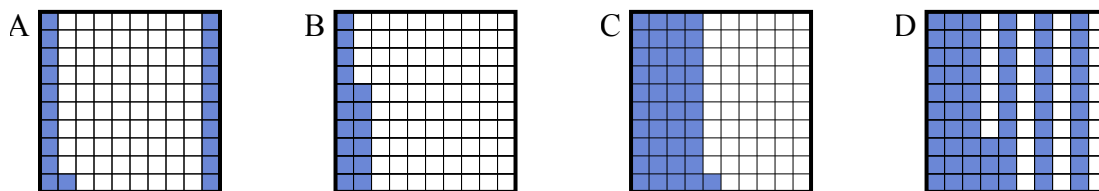
- 2) Что нужно прибавить в решетке  $10 \times 1$ , которая представляет десятичную дробь, чтобы после прибавления 0,6, ответ получился 1,00?



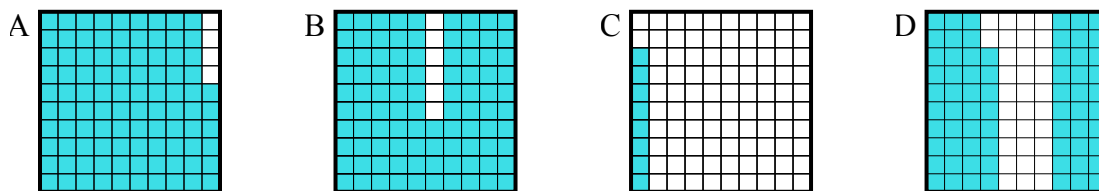
- 3) Что нужно прибавить в решетке  $10 \times 10$ , которая представляет десятичную дробь, чтобы после прибавления 0,72, ответ получился 1,00?



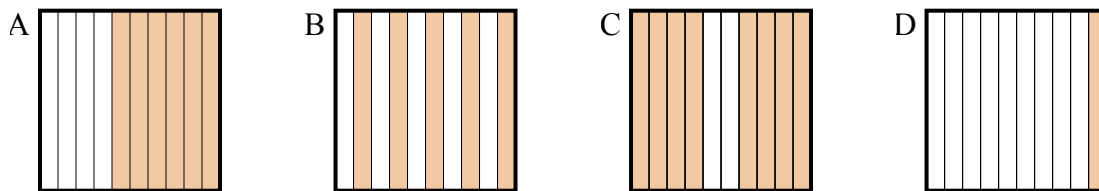
- 4) Что нужно прибавить в решетке  $10 \times 10$ , которая представляет десятичную дробь, чтобы после прибавления 0,59, ответ получился 1,00?



- 5) Что нужно прибавить в решетке  $10 \times 10$ , которая представляет десятичную дробь, чтобы после прибавления 0,32, ответ получился 1,00?



- 6) Что нужно прибавить в решетке  $10 \times 1$ , которая представляет десятичную дробь, чтобы после прибавления 0,4, ответ получился 1,00?

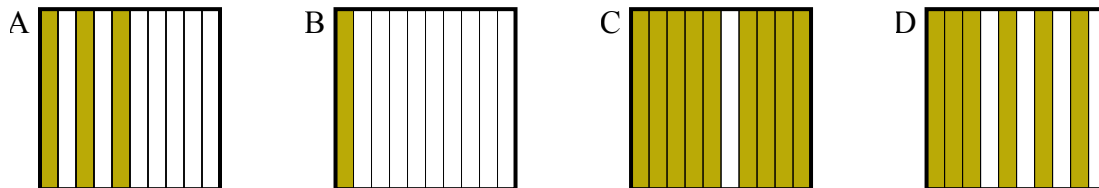
Ответы1.       C      2.       A      3.       D      4.       C      5.       D      6.       A



Определите, под какой буквой находится правильный ответ.

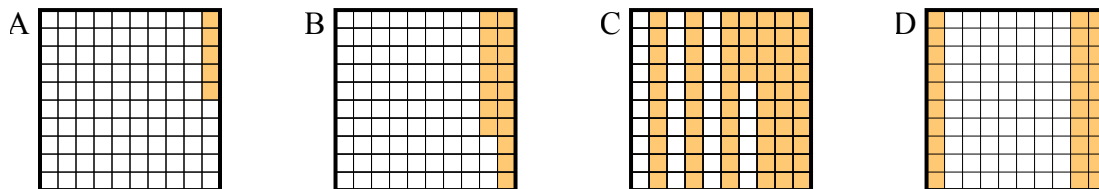
**Отвeты**

- 1) Что нужно прибавить в решетке  $10 \times 1$ , которая представляет десятичную дробь, чтобы после прибавления 0,9, ответ получился 1,00?



1. \_\_\_\_\_

- 2) Что нужно прибавить в решетке  $10 \times 10$ , которая представляет десятичную дробь, чтобы после прибавления 0,7, ответ получился 1,00?



2. \_\_\_\_\_

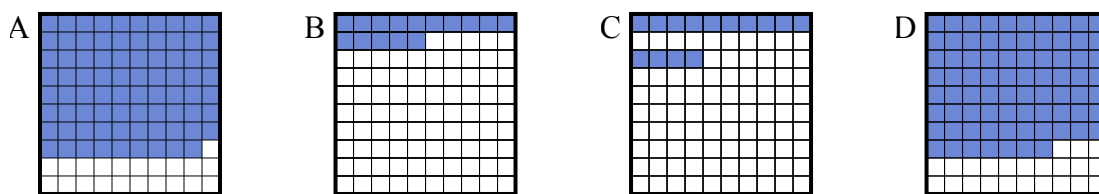
3. \_\_\_\_\_

4. \_\_\_\_\_

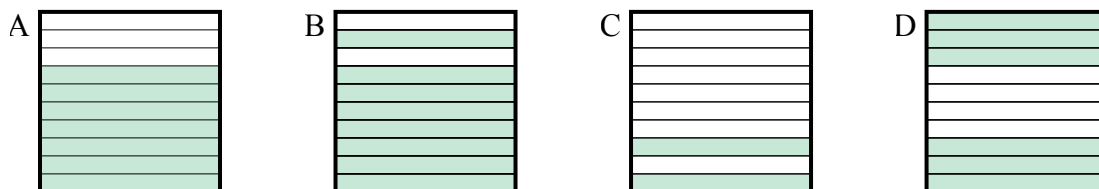
5. \_\_\_\_\_

6. \_\_\_\_\_

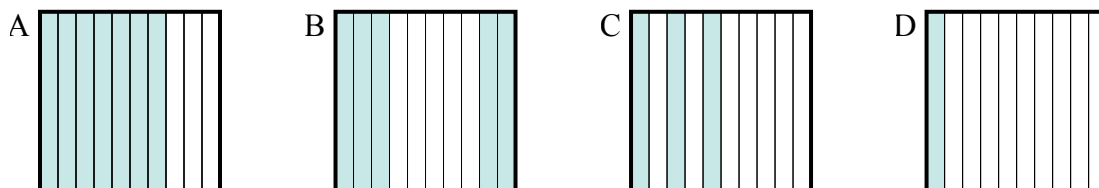
- 3) Что нужно прибавить в решетке  $10 \times 10$ , которая представляет десятичную дробь, чтобы после прибавления 0,21, ответ получился 1,00?



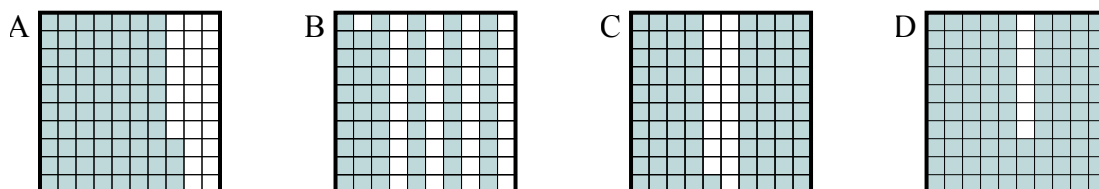
- 4) Что нужно прибавить в решетке  $10 \times 1$ , которая представляет десятичную дробь, чтобы после прибавления 0,3, ответ получился 1,00?



- 5) Что нужно прибавить в решетке  $10 \times 1$ , которая представляет десятичную дробь, чтобы после прибавления 0,5, ответ получился 1,00?



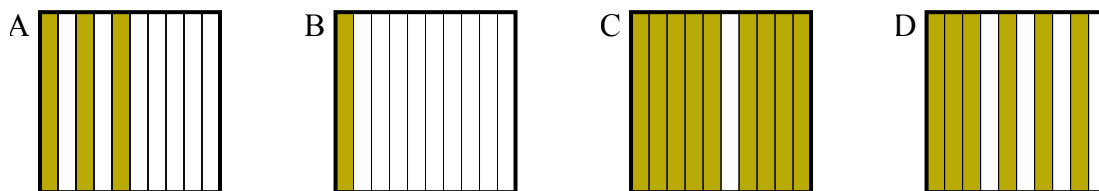
- 6) Что нужно прибавить в решетке  $10 \times 10$ , которая представляет десятичную дробь, чтобы после прибавления 0,07, ответ получился 1,00?



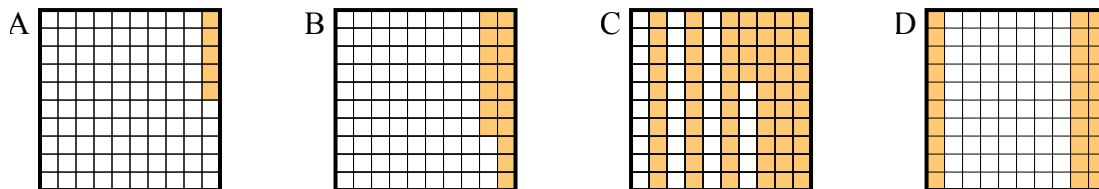


Определите, под какой буквой находится правильный ответ.

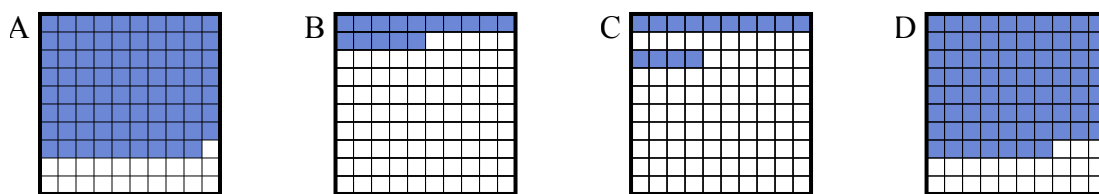
- 1) Что нужно прибавить в решетке  $10 \times 1$ , которая представляет десятичную дробь, чтобы после прибавления  $0,9$ , ответ получился  $1,00$ ?



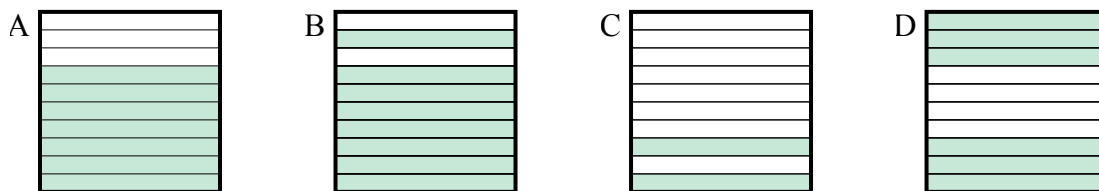
- 2) Что нужно прибавить в решетке  $10 \times 10$ , которая представляет десятичную дробь, чтобы после прибавления  $0,7$ , ответ получился  $1,00$ ?



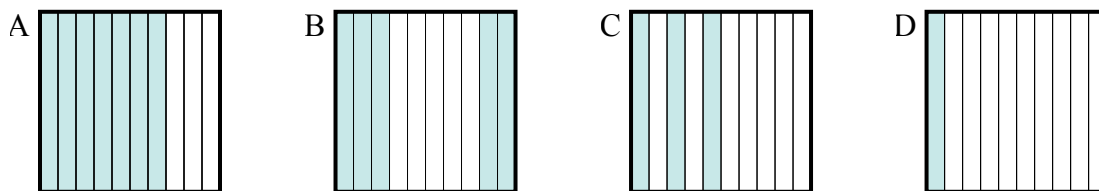
- 3) Что нужно прибавить в решетке  $10 \times 10$ , которая представляет десятичную дробь, чтобы после прибавления  $0,21$ , ответ получился  $1,00$ ?



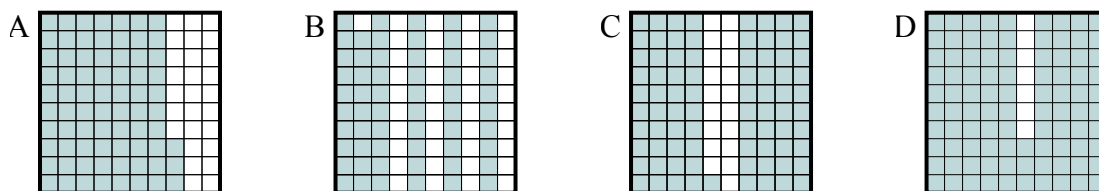
- 4) Что нужно прибавить в решетке  $10 \times 1$ , которая представляет десятичную дробь, чтобы после прибавления  $0,3$ , ответ получился  $1,00$ ?



- 5) Что нужно прибавить в решетке  $10 \times 1$ , которая представляет десятичную дробь, чтобы после прибавления  $0,5$ , ответ получился  $1,00$ ?



- 6) Что нужно прибавить в решетке  $10 \times 10$ , которая представляет десятичную дробь, чтобы после прибавления  $0,07$ , ответ получился  $1,00$ ?

**Ответы**1.       **B**      2.       **D**      3.       **A**      4.       **A**      5.       **B**      6.       **D**