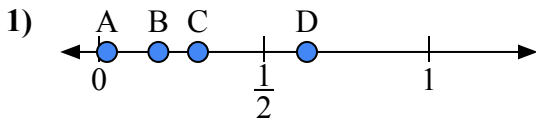
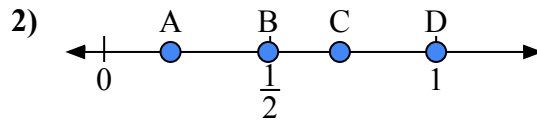




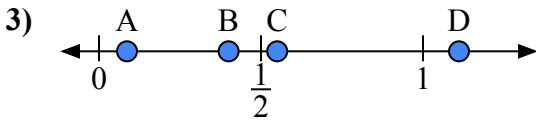
Используйте числовую прямую для ответа на вопрос.

ОТВЕТЫ

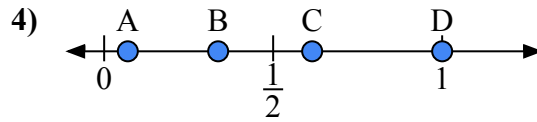
- a) Какая буква наилучшим образом отражает значение 0,3?
 b) Какая буква наилучшим образом отражает значение 0,18?



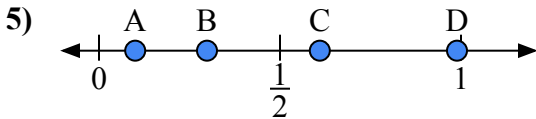
- a) Какая буква наилучшим образом отражает значение 0,2?
 b) Какая буква наилучшим образом отражает значение 0,71?



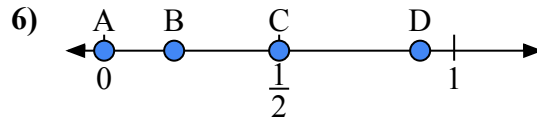
- a) Какая буква наилучшим образом отражает значение 0,4?
 b) Какая буква наилучшим образом отражает значение 0,55?



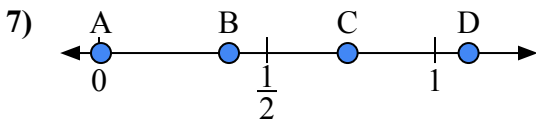
- a) Какая буква наилучшим образом отражает значение 1,0?
 b) Какая буква наилучшим образом отражает значение 0,07?



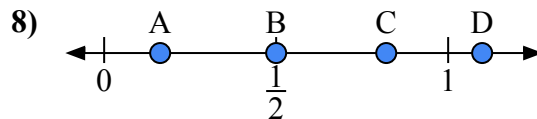
- a) Какая буква наилучшим образом отражает значение 0,10?
 b) Какая буква наилучшим образом отражает значение 0,61?



- a) Какая буква наилучшим образом отражает значение 0,00?
 b) Какая буква наилучшим образом отражает значение 0,50?



- a) Какая буква наилучшим образом отражает значение 1,10?
 b) Какая буква наилучшим образом отражает значение 0,74?

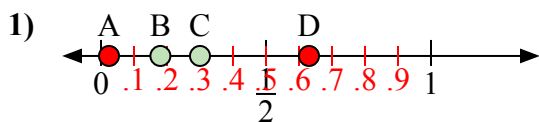


- a) Какая буква наилучшим образом отражает значение 0,5?
 b) Какая буква наилучшим образом отражает значение 0,82?

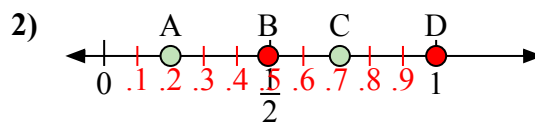
1. _____
 2. _____
 3. _____
 4. _____
 5. _____
 6. _____
 7. _____
 8. _____



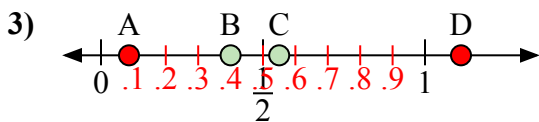
Используйте числовую прямую для ответа на вопрос.

ОТВЕТЫ

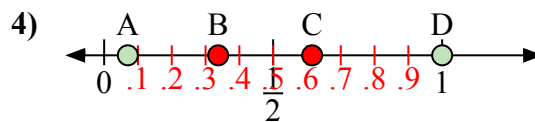
- a) Какая буква наилучшим образом отражает значение 0,3?
b) Какая буква наилучшим образом отражает значение 0,18?



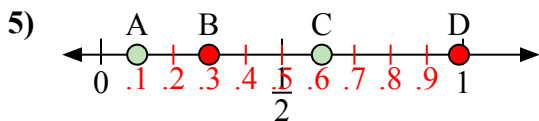
- a) Какая буква наилучшим образом отражает значение 0,2?
b) Какая буква наилучшим образом отражает значение 0,71?



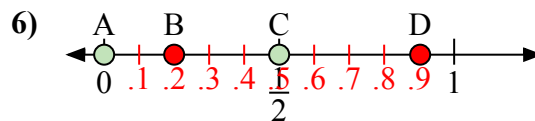
- a) Какая буква наилучшим образом отражает значение 0,4?
b) Какая буква наилучшим образом отражает значение 0,55?



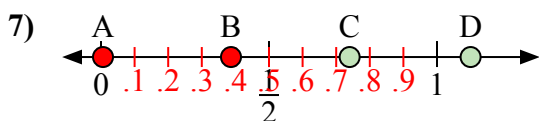
- a) Какая буква наилучшим образом отражает значение 1,0?
b) Какая буква наилучшим образом отражает значение 0,07?



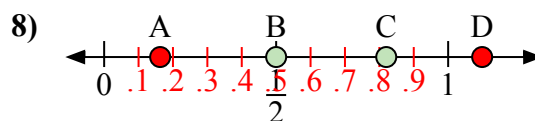
- a) Какая буква наилучшим образом отражает значение 0,10?
b) Какая буква наилучшим образом отражает значение 0,61?



- a) Какая буква наилучшим образом отражает значение 0,00?
b) Какая буква наилучшим образом отражает значение 0,50?



- a) Какая буква наилучшим образом отражает значение 1,10?
b) Какая буква наилучшим образом отражает значение 0,74?



- a) Какая буква наилучшим образом отражает значение 0,5?
b) Какая буква наилучшим образом отражает значение 0,82?

1. C B2. A C3. B C4. D A5. A C6. A C7. D C8. B C