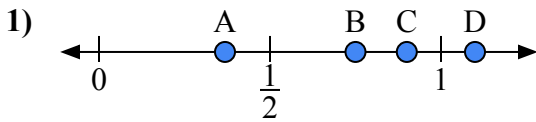
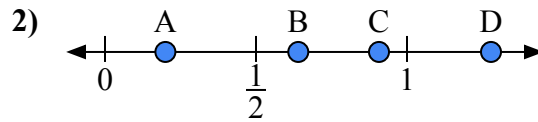




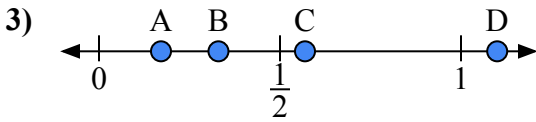
Используйте числовую прямую для ответа на вопрос.

ОТВЕТЫ

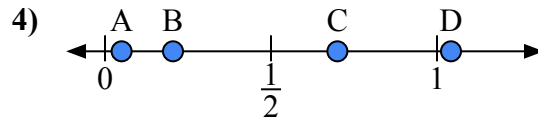
- a) Какая буква наилучшим образом отражает значение 0,90?
 b) Какая буква наилучшим образом отражает значение 0,75?



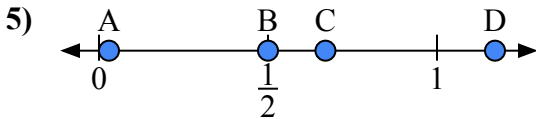
- a) Какая буква наилучшим образом отражает значение 0,2?
 b) Какая буква наилучшим образом отражает значение 0,64?



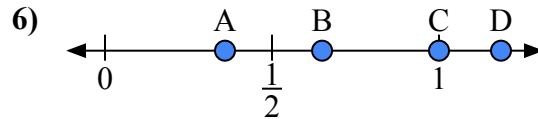
- a) Какая буква наилучшим образом отражает значение 1,10?
 b) Какая буква наилучшим образом отражает значение 0,33?



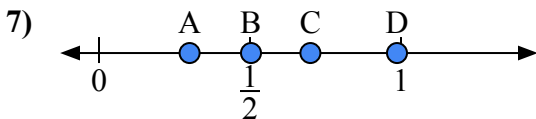
- a) Какая буква наилучшим образом отражает значение 0,70?
 b) Какая буква наилучшим образом отражает значение 0,05?



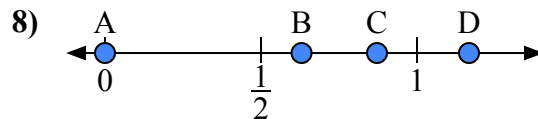
- a) Какая буква наилучшим образом отражает значение 0,50?
 b) Какая буква наилучшим образом отражает значение 0,67?



- a) Какая буква наилучшим образом отражает значение 1,00?
 b) Какая буква наилучшим образом отражает значение 0,65?



- a) Какая буква наилучшим образом отражает значение 0,3?
 b) Какая буква наилучшим образом отражает значение 0,70?

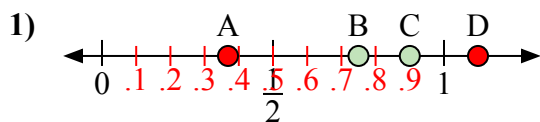


- a) Какая буква наилучшим образом отражает значение 0,00?
 b) Какая буква наилучшим образом отражает значение 0,63?

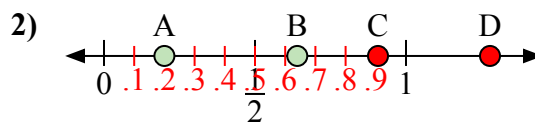
1. _____
 2. _____
 3. _____
 4. _____
 5. _____
 6. _____
 7. _____
 8. _____



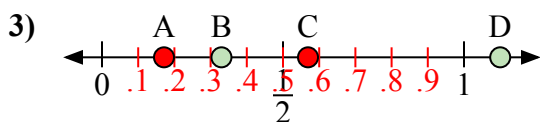
Используйте числовую прямую для ответа на вопрос.

ОТВЕТЫ

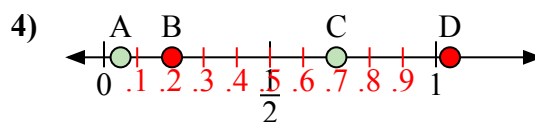
- a) Какая буква наилучшим образом отражает значение 0,90?
b) Какая буква наилучшим образом отражает значение 0,75?



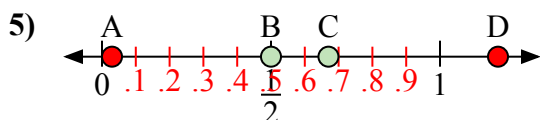
- a) Какая буква наилучшим образом отражает значение 0,2?
b) Какая буква наилучшим образом отражает значение 0,64?



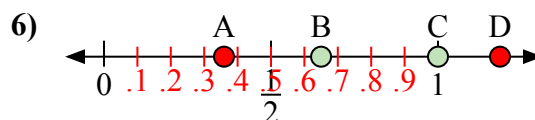
- a) Какая буква наилучшим образом отражает значение 1,10?
b) Какая буква наилучшим образом отражает значение 0,33?



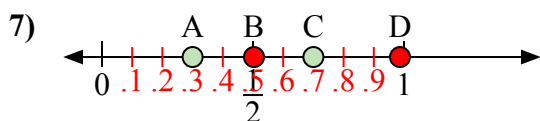
- a) Какая буква наилучшим образом отражает значение 0,70?
b) Какая буква наилучшим образом отражает значение 0,05?



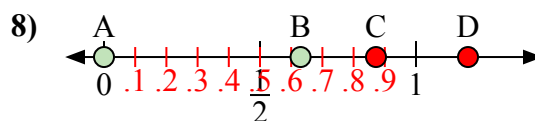
- a) Какая буква наилучшим образом отражает значение 0,50?
b) Какая буква наилучшим образом отражает значение 0,67?



- a) Какая буква наилучшим образом отражает значение 1,00?
b) Какая буква наилучшим образом отражает значение 0,65?



- a) Какая буква наилучшим образом отражает значение 0,3?
b) Какая буква наилучшим образом отражает значение 0,70?



- a) Какая буква наилучшим образом отражает значение 0,00?
b) Какая буква наилучшим образом отражает значение 0,63?

1. C B2. A B3. D B4. C A5. B C6. C B7. A C8. A B