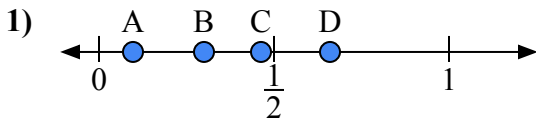
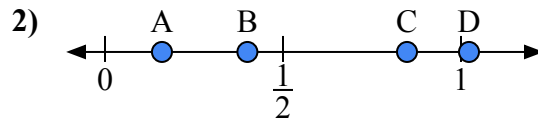




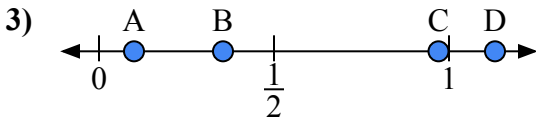
Используйте числовую прямую для ответа на вопрос.

**ОТВЕТЫ**

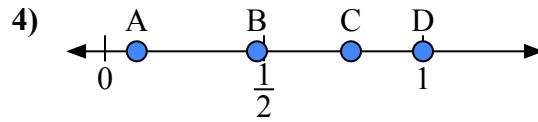
- a) Какая буква наилучшим образом отражает значение 0,3?  
 b) Какая буква наилучшим образом отражает значение 0,66?



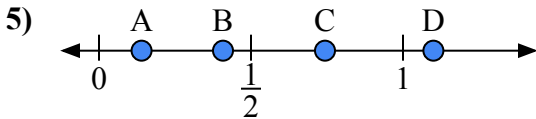
- a) Какая буква наилучшим образом отражает значение 0,4?  
 b) Какая буква наилучшим образом отражает значение 0,16?



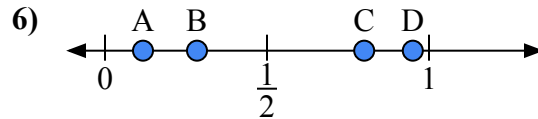
- a) Какая буква наилучшим образом отражает значение 0,10?  
 b) Какая буква наилучшим образом отражает значение 0,97?



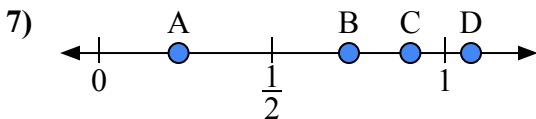
- a) Какая буква наилучшим образом отражает значение 1,0?  
 b) Какая буква наилучшим образом отражает значение 0,10?



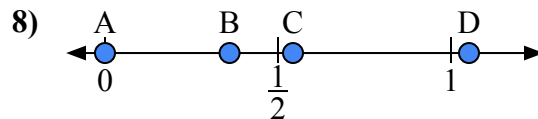
- a) Какая буква наилучшим образом отражает значение 1,10?  
 b) Какая буква наилучшим образом отражает значение 0,14?



- a) Какая буква наилучшим образом отражает значение 0,80?  
 b) Какая буква наилучшим образом отражает значение 0,95?



- a) Какая буква наилучшим образом отражает значение 0,9?  
 b) Какая буква наилучшим образом отражает значение 0,23?

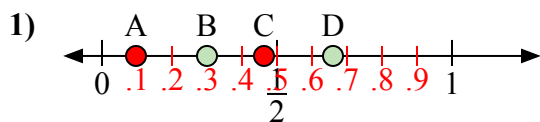


- a) Какая буква наилучшим образом отражает значение 0,00?  
 b) Какая буква наилучшим образом отражает значение 0,36?

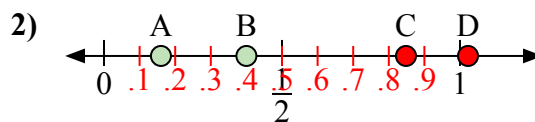
1. \_\_\_\_\_  
 2. \_\_\_\_\_  
 3. \_\_\_\_\_  
 4. \_\_\_\_\_  
 5. \_\_\_\_\_  
 6. \_\_\_\_\_  
 7. \_\_\_\_\_  
 8. \_\_\_\_\_



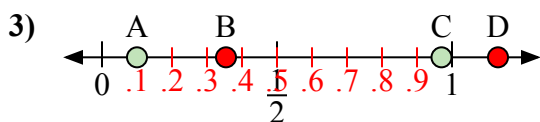
Используйте числовую прямую для ответа на вопрос.

**ОТВЕТЫ**

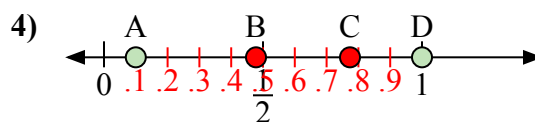
- a) Какая буква наилучшим образом отражает значение 0,3?  
b) Какая буква наилучшим образом отражает значение 0,66?



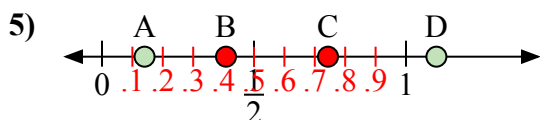
- a) Какая буква наилучшим образом отражает значение 0,4?  
b) Какая буква наилучшим образом отражает значение 0,16?



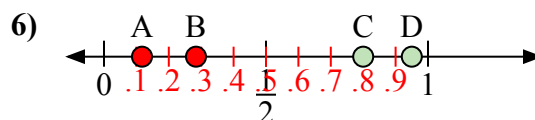
- a) Какая буква наилучшим образом отражает значение 0,10?  
b) Какая буква наилучшим образом отражает значение 0,97?



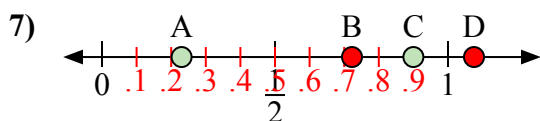
- a) Какая буква наилучшим образом отражает значение 1,0?  
b) Какая буква наилучшим образом отражает значение 0,10?



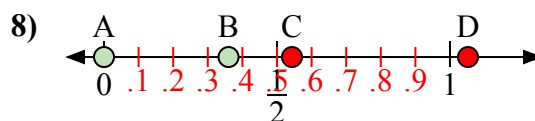
- a) Какая буква наилучшим образом отражает значение 1,10?  
b) Какая буква наилучшим образом отражает значение 0,14?



- a) Какая буква наилучшим образом отражает значение 0,80?  
b) Какая буква наилучшим образом отражает значение 0,95?



- a) Какая буква наилучшим образом отражает значение 0,9?  
b) Какая буква наилучшим образом отражает значение 0,23?



- a) Какая буква наилучшим образом отражает значение 0,00?  
b) Какая буква наилучшим образом отражает значение 0,36?

1. B D2. B A3. A C4. D A5. D A6. C D7. C A8. A B