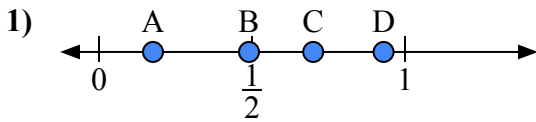
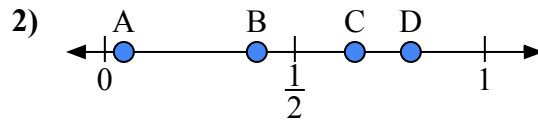




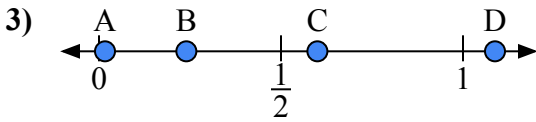
Используйте числовую прямую для ответа на вопрос.

ОТВЕТЫ

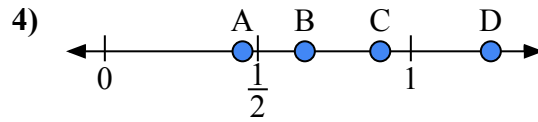
- a) Какая буква наилучшим образом отражает значение 0,7?
b) Какая буква наилучшим образом отражает значение 0,93?



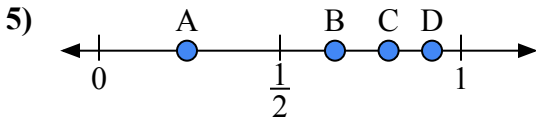
- a) Какая буква наилучшим образом отражает значение 0,40?
b) Какая буква наилучшим образом отражает значение 0,05?



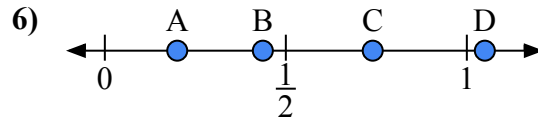
- a) Какая буква наилучшим образом отражает значение 0,60?
b) Какая буква наилучшим образом отражает значение 0,24?



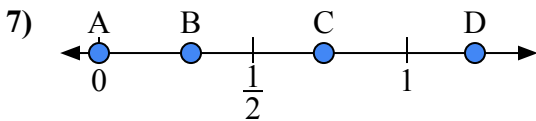
- a) Какая буква наилучшим образом отражает значение 0,90?
b) Какая буква наилучшим образом отражает значение 0,45?



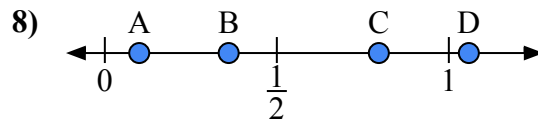
- a) Какая буква наилучшим образом отражает значение 0,8?
b) Какая буква наилучшим образом отражает значение 0,92?



- a) Какая буква наилучшим образом отражает значение 0,20?
b) Какая буква наилучшим образом отражает значение 0,74?



- a) Какая буква наилучшим образом отражает значение 0,00?
b) Какая буква наилучшим образом отражает значение 0,73?

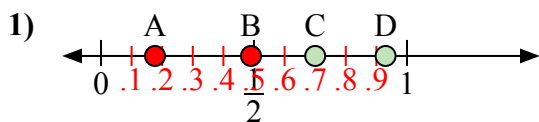


- a) Какая буква наилучшим образом отражает значение 0,1?
b) Какая буква наилучшим образом отражает значение 0,36?

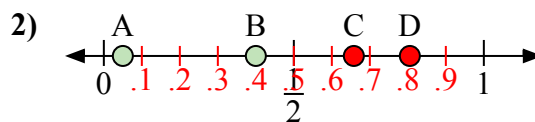
1. _____
2. _____
3. _____
4. _____
5. _____
6. _____
7. _____
8. _____



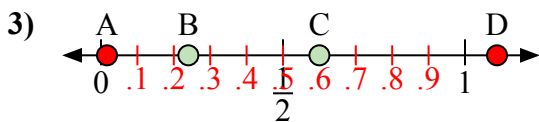
Используйте числовую прямую для ответа на вопрос.



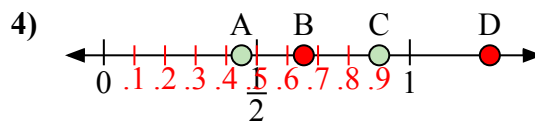
- a) Какая буква наилучшим образом отражает значение 0,7?
b) Какая буква наилучшим образом отражает значение 0,93?



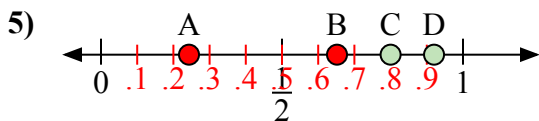
- a) Какая буква наилучшим образом отражает значение 0,40?
b) Какая буква наилучшим образом отражает значение 0,05?



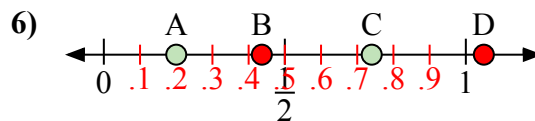
- a) Какая буква наилучшим образом отражает значение 0,60?
b) Какая буква наилучшим образом отражает значение 0,24?



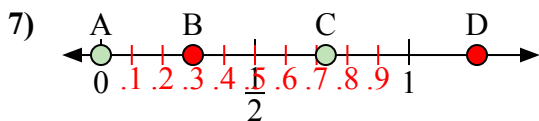
- a) Какая буква наилучшим образом отражает значение 0,90?
b) Какая буква наилучшим образом отражает значение 0,45?



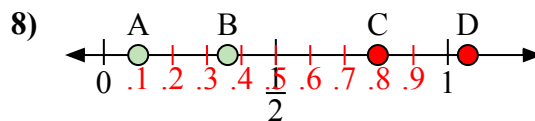
- a) Какая буква наилучшим образом отражает значение 0,8?
b) Какая буква наилучшим образом отражает значение 0,92?



- a) Какая буква наилучшим образом отражает значение 0,20?
b) Какая буква наилучшим образом отражает значение 0,74?



- a) Какая буква наилучшим образом отражает значение 0,00?
b) Какая буква наилучшим образом отражает значение 0,73?



- a) Какая буква наилучшим образом отражает значение 0,1?
b) Какая буква наилучшим образом отражает значение 0,36?

ОТВЕТЫ1. C D2. B A3. C B4. C A5. C D6. A C7. A C8. A B