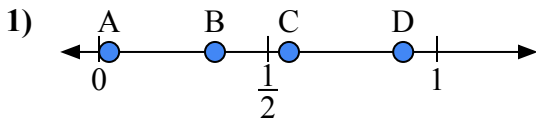
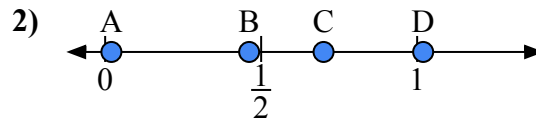




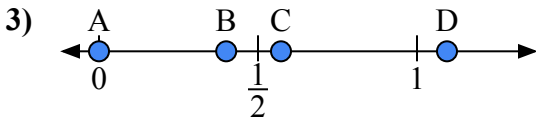
Используйте числовую прямую для ответа на вопрос.

ОТВЕТЫ

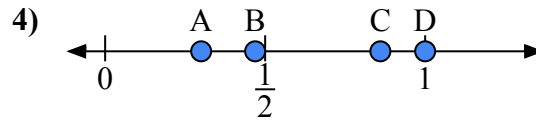
- a) Какая буква наилучшим образом отражает значение 0,9?
b) Какая буква наилучшим образом отражает значение 0,03?



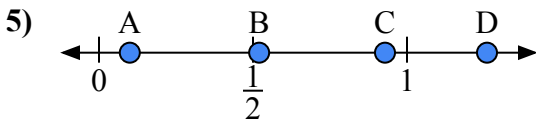
- a) Какая буква наилучшим образом отражает значение 0,7?
b) Какая буква наилучшим образом отражает значение 0,02?



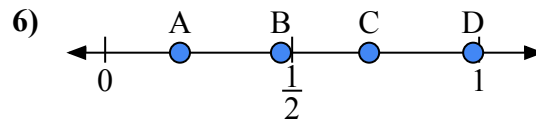
- a) Какая буква наилучшим образом отражает значение 0,00?
b) Какая буква наилучшим образом отражает значение 0,40?



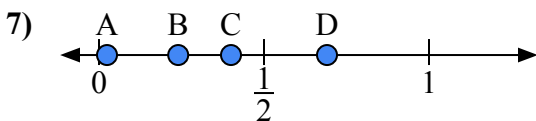
- a) Какая буква наилучшим образом отражает значение 1,0?
b) Какая буква наилучшим образом отражает значение 0,86?



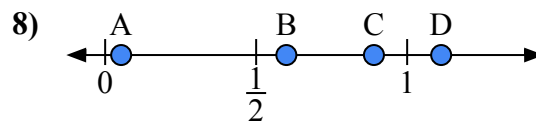
- a) Какая буква наилучшим образом отражает значение 0,10?
b) Какая буква наилучшим образом отражает значение 0,52?



- a) Какая буква наилучшим образом отражает значение 0,2?
b) Какая буква наилучшим образом отражает значение 0,47?



- a) Какая буква наилучшим образом отражает значение 0,4?
b) Какая буква наилучшим образом отражает значение 0,24?

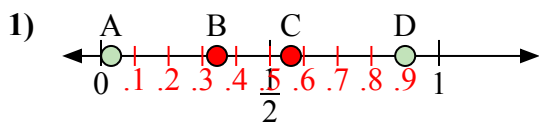


- a) Какая буква наилучшим образом отражает значение 0,60?
b) Какая буква наилучшим образом отражает значение 0,89?

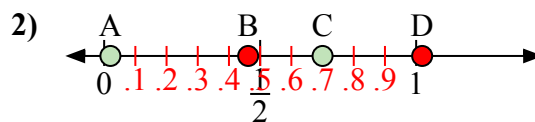
1. _____
2. _____
3. _____
4. _____
5. _____
6. _____
7. _____
8. _____



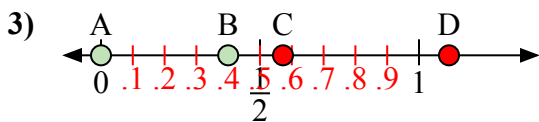
Используйте числовую прямую для ответа на вопрос.

ОТВЕТЫ

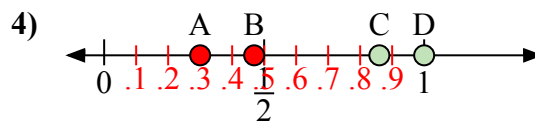
- a) Какая буква наилучшим образом отражает значение 0,9?
b) Какая буква наилучшим образом отражает значение 0,03?



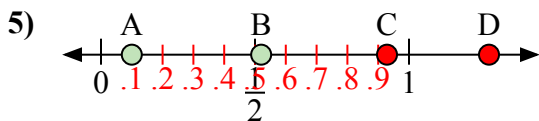
- a) Какая буква наилучшим образом отражает значение 0,7?
b) Какая буква наилучшим образом отражает значение 0,02?



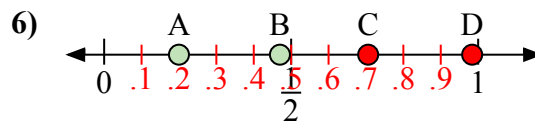
- a) Какая буква наилучшим образом отражает значение 0,00?
b) Какая буква наилучшим образом отражает значение 0,40?



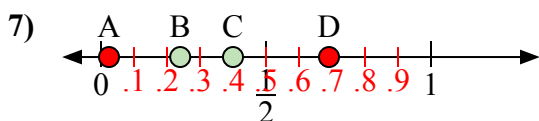
- a) Какая буква наилучшим образом отражает значение 1,0?
b) Какая буква наилучшим образом отражает значение 0,86?



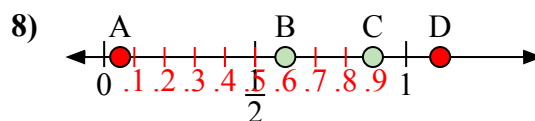
- a) Какая буква наилучшим образом отражает значение 0,10?
b) Какая буква наилучшим образом отражает значение 0,52?



- a) Какая буква наилучшим образом отражает значение 0,2?
b) Какая буква наилучшим образом отражает значение 0,47?



- a) Какая буква наилучшим образом отражает значение 0,4?
b) Какая буква наилучшим образом отражает значение 0,24?



- a) Какая буква наилучшим образом отражает значение 0,60?
b) Какая буква наилучшим образом отражает значение 0,89?

1. D A2. C A3. A B4. D C5. A B6. A B7. C B8. B C